

# 時こくと時間 ふく習

これまでの学習を思い出してみよう！

<1年> なんじ なんじはん

とけいを よみましょう。

① あさ おきる じこく



② がっこうで べんきょうを はじめる じこく



③ そうじの じこく



④ しゅくだいを はじめた じこく



<2年> 時こくと じかん

つぎの時こくを午前と午後をつかっていましょう。

①



朝ごはんを食べている時こく

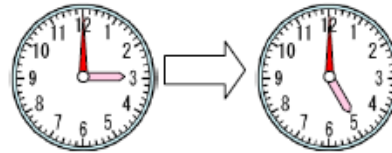
②



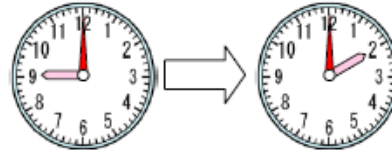
夜、はみがきをしている時こく

かかった時間をかきましょう。

① あそんでいる時間




② 学校で べん強している時間




口にあてはまる数を書きましょう。

① 1時間 =  分

② 1日 =  時間

つぎの時こくを答えましょう。

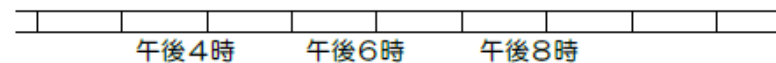
たいちはあそんで家に帰ってから  
べん強を1時間、

ごはんやねるじゅんびをするのに2時間  
それぞれかかります。

午後8時にねるためには、何時にあそびから  
帰ってくればよいでしょうか。



午後  時



# 時こくと時間 ぶんく習

答え

これまでの学習を思い出してみよう！

<1年> なんじ なんじはん

① あさ おきる じこく

7じ



② がっこうで べんきょうを はじめる じこく

8じはん



③ そうじの じこく

1じはん



④ しゅくだいを はじめた じこく

5じ



9じはん じゃなくて  
8じはん だったね

みじかいはりが 5はり  
すすんでいるから・・・

<2年> 時こくと じかん

つぎの時こくを午前と午後をつかっていましょう。

①



朝ごはんを食べている時こく

午前7時15分

②



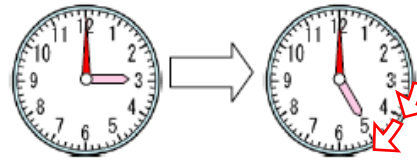
夜、はみがきをしている時こく

午後8時25分

ごぜん や ごご を  
忘れないように！

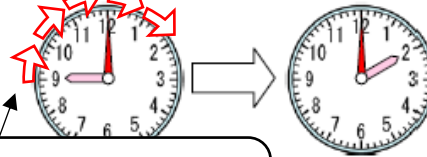
かかった時間をかきましょう。

① あそんでいる時間



2時間

② 学校で べん強している時間



5時間

1時間 = 60 分  
1日 = 24 時間

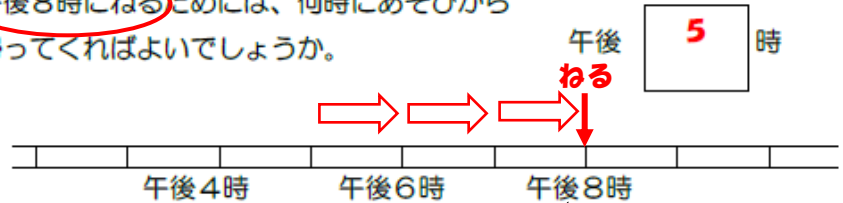
つぎの時こくを答えましょう。

たいちさんはあそんで家に帰ってから

べん強を1時間

ごはんやねるじゅんびをするのに2時間  
それぞれかかります。

午後8時にねるためには、何時にあそびから  
帰ってくればよいでしょうか。



午後 5 時

ねるまでにやることが  
3時間あるから・・・