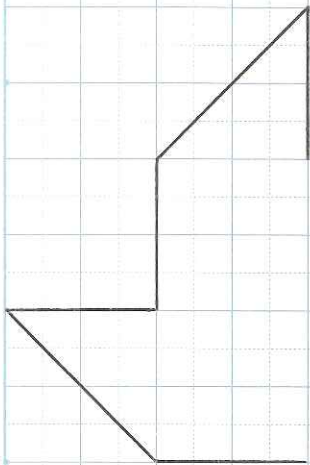


4月 日()

点Oが _____ になるように、
な図形をかきましょう。



2つ
の点を結ぶ直線
が、 _____
を通ることを使
うといいね!



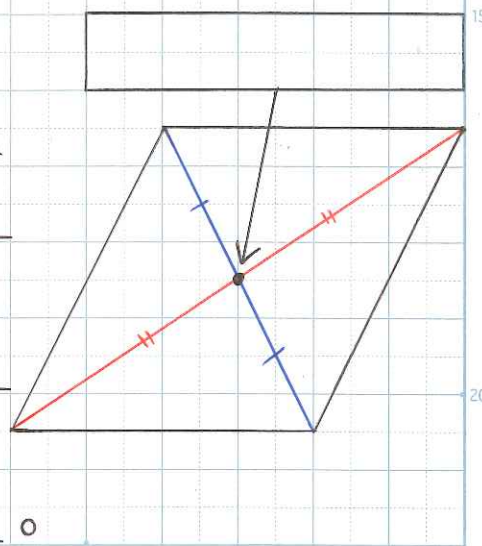
頂点の位置を
見つけるには...

ここでちょっとふりがえり



な図形の性質

- _____ 2つの点
を結ぶ直線は、 _____
を通る。
- _____ から _____
2つの点ま
での長さは _____。



点対称な図形の半分のかき方を説
明しよう。

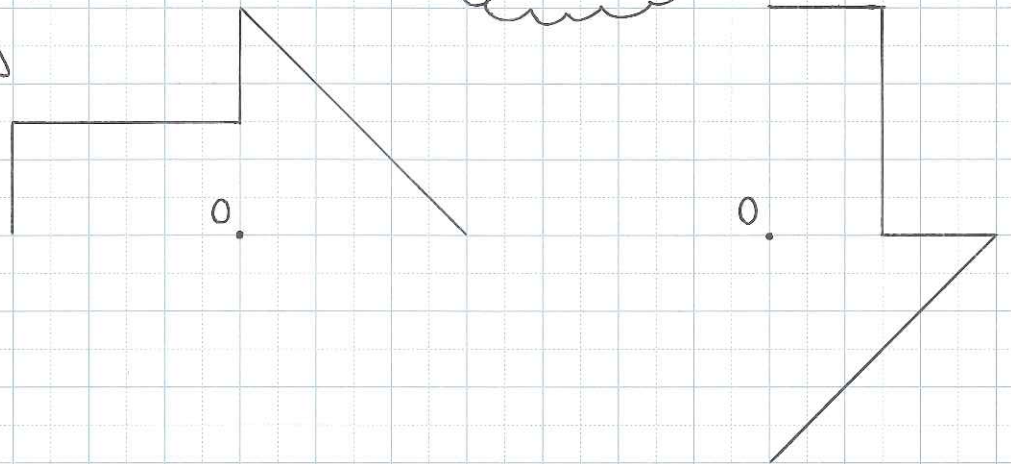
① 頂点から _____ を通る直線
をひく。

② _____ と頂点までの長さが
_____ なるように _____ 頂点
を決める。

P 18



おまけ!



な図形をかくときは、
_____ 2つの点を結ぶ直線が _____
を通ることと、 _____
から _____ 2つの点までの長
さが _____ ことを使、て、 _____ を
決める。