

# 1 日本の国土と世界の国々①【学習した日】

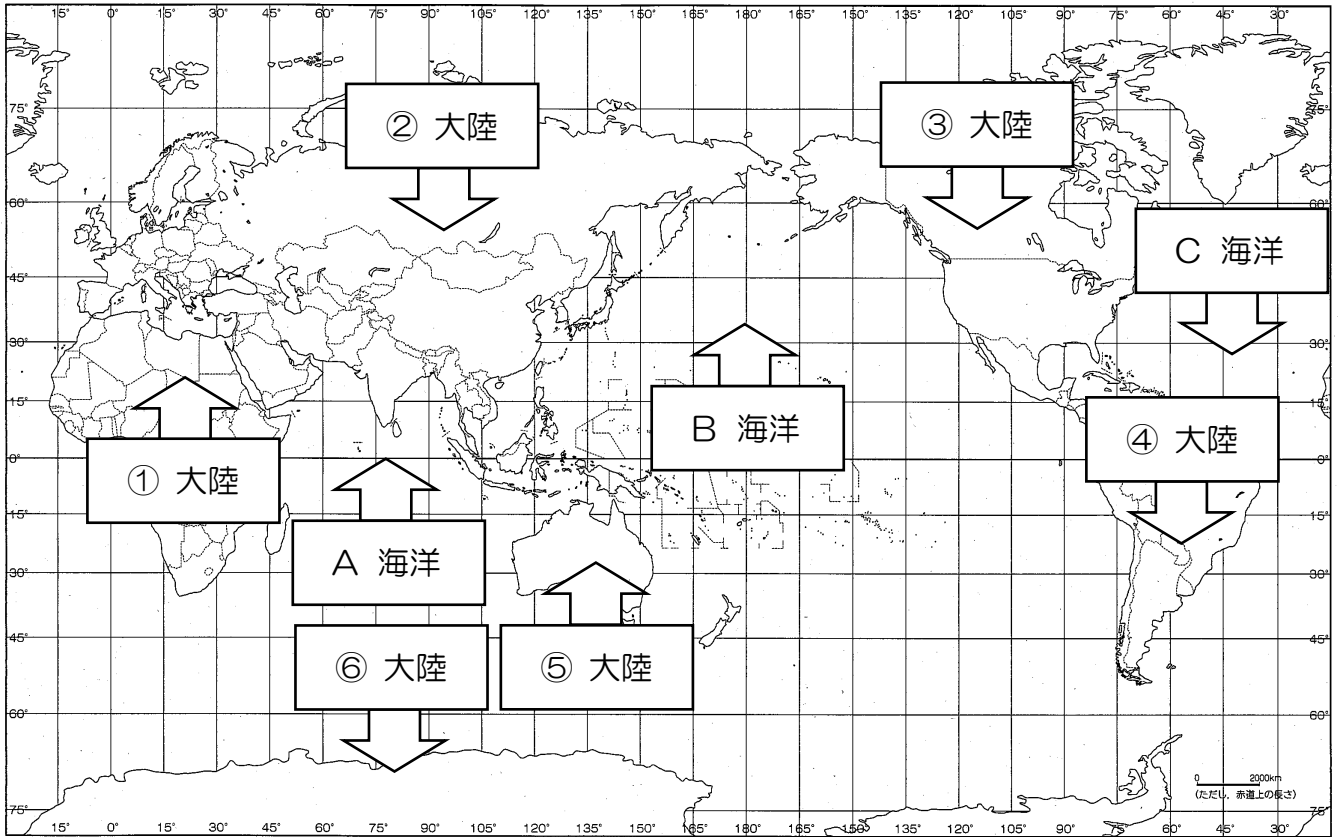
月 日

教科書 8~11 ページ

【名前】 \_\_\_\_\_

【めあて】

世界のどこに、どのような国や大陸、海洋があるのか調べよう。



■ 世界の主な大陸の名前や、主な海洋の名前を書きましょう。(参照：教科書244ページ)

【大陸名】①

②

③

④

⑤

⑥

【海洋名】A


B

C

■ 下の国旗や国の位置、写真を見て、国名を書きましょう。



-----



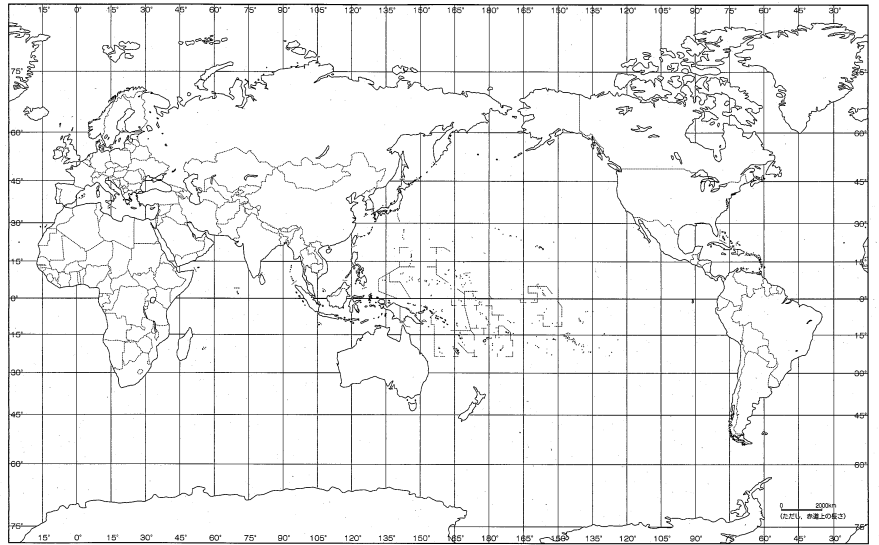

-----



-----



-----



-----



-----



-----



-----



-----



# 1 日本の国土と世界の国々②

【学習した日】 月 日

教科書 10、11 ページ

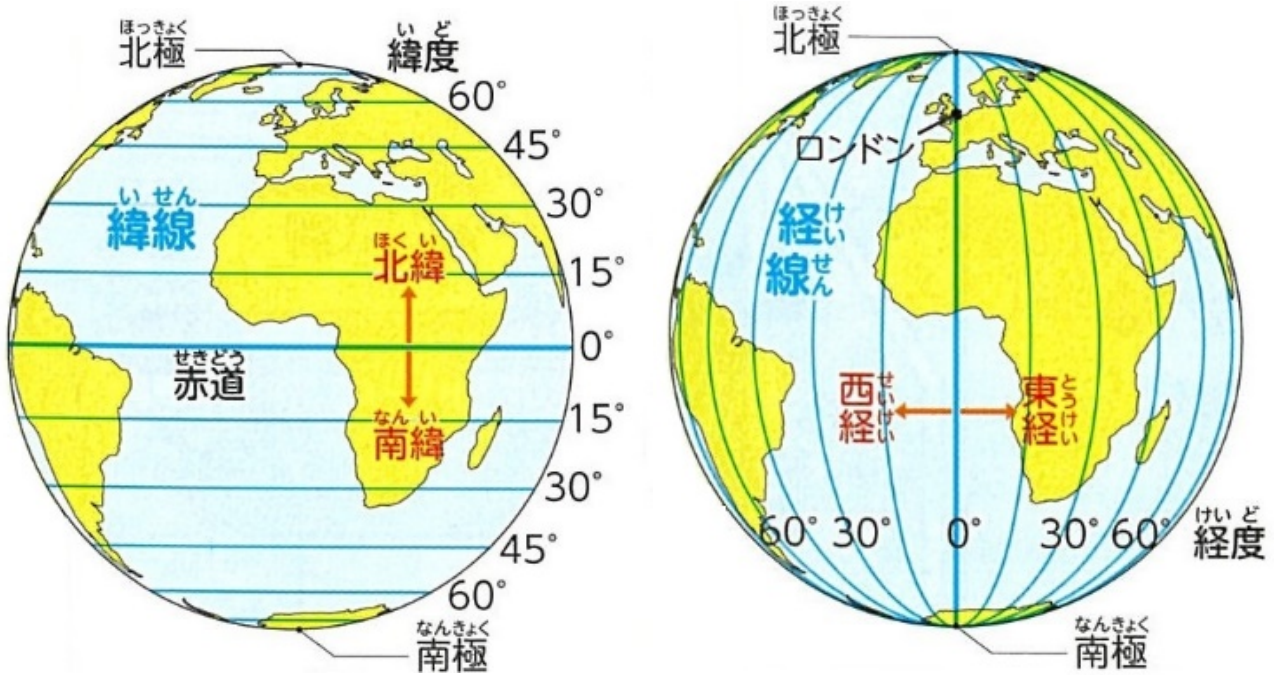
地図帳 73、74 ページ

【名前】 \_\_\_\_\_

## 【めあて】

日本と世界の国々との位置関係は、どうなっているのかを調べよう。

- 地図帳を見て、地球上の位置の表し方で使う言葉を書きましょう。(参照：地図帳 73,74 ページ)



地球儀や地図には、横とたての線が引かれています。

横の線を 、たての線を  といいます。

北極と南極からのきよりが等しい地点を通る緯線 () が、緯度  $0^\circ$  となっている。

イギリスの  を通る経線 (本初 ) が、経度  $0^\circ$  となっている。

### 緯線

地球儀や地図に引かれた  の線。

同じ緯線の上にある国々は、 が同じです。

### 経線

地球儀や地図に引かれた  の線。

同じ経線の上にある国々は、 が同じです。

### 地球儀の特徴

- ① 位置関係が正しい
- ② 方位が正しい
- ③ きよりが正しい
- ④ 面積が正しい
- ⑤ 形が正しい



### 地球儀って・・・？

地球儀はわたしたちが住む地球をそのまま小さくした模型です。

緯度と経度で特定の位置を表すことができます。



■ 世界地図を見ながら調べてみましょう。

- 日本と同じ緯度にある国は？

-----

-----

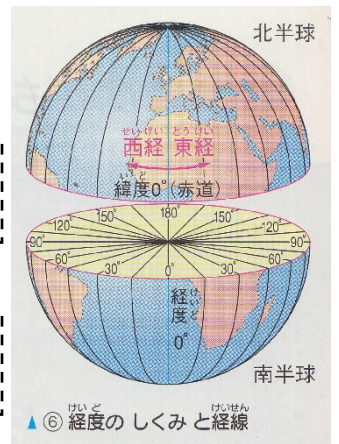
-----

- 日本と同じ経度にある国は？

-----

-----

-----



■ お家に地球儀がある人は、日本と世界の国々との関係を調べてみましょう。



はしから四つめの  
めもりだったら、  
2500km × 4で  
約10000kmの  
きよりだね。



**学びのてびき 地球儀からきよりを読み取る**

※グループで協力してやってみよう。

- ①地球一周ぶんの長さの紙テープを用意する。  
…地球儀の赤道にそって紙テープを当て、一周したところで切る。
- ②紙テープにめもりを入れる。  
…切った紙テープを半分に折っていく。4回折って広げると、16等分の折り目ができる。折り目に、線を書き入れる。  
…赤道を一周したきよりは約40000kmあるので、一つのめもりが約2500kmを表すことになる。
- ③紙テープをものさしにして、日本と外国とのきよりを測る。  
…紙テープのはしを日本に当てて、きよりを測りたい外国へ紙テープをのばし、めもりからおよそのきよりを計算する。




**学びのてびき 地球儀から方位を読み取る**

※グループで協力してやってみよう。

- ①地球儀の赤道にそって一周したところで切った紙テープを2本つくり、直角に交わるように真ん中の部分をはり合わせる。
- ②日本の上に交わった部分を置き、一方のテープを経線にぴったり合わせる。合わせたら、セロハンテープなどで固定する。
- ③経線に合わせたテープは、日本から見て南北の方向を表す。もう一方のテープは、日本から見て東西の方向を表す。このテープをめやすにして、日本から見たさまざまな国や大陸などの方位を調べる。

日本から見ると  
中国は西のほうにあるよ。  
中国から見ると日本は  
東のほうにあるね。





# 1 日本の国土と世界の国々③【学習した日】

月 日

教科書 12、13 ページ

【名前】 \_\_\_\_\_

## 【めあて】

日本の国土は、どのように広がっているのかを調べよう。

- 日本は世界のどこにあるのか、地球儀や地図を使って調べてみましょう。

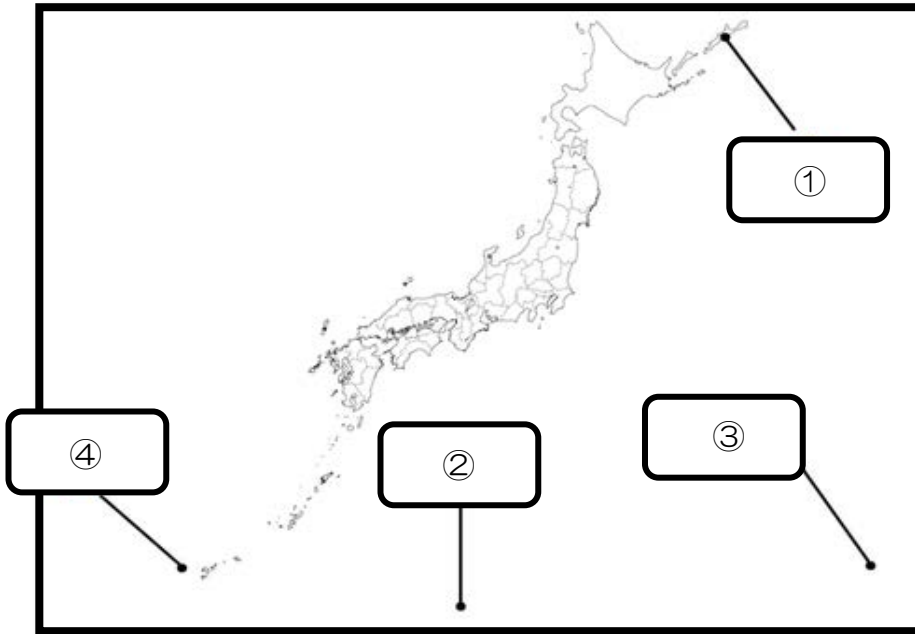


- 日本は \_\_\_\_\_ 大陸の東側に位置している。
- 日本は \_\_\_\_\_ や日本海に面している。
- 日本は日本海をはさんで \_\_\_\_\_ などのとなりにある。
- その他、日本の国土について調べてわかったことを書きましょう。

\_\_\_\_\_

■ 日本の国土の“はし”について調べましょう。

↓ ① 日本の北のはし



↓ ③ 日本の東のはし



↓ ④ 日本の西のはし



↓ ② 日本の南のはし



【島の名前】①

(最北端)

②

(最南端)

③

(最東端)

④

(最西端)

■ 日本の国土のはん囲や形について調べましょう。

• 日本の国土の北のはしは  島、南のはしは  島で、  
およそ3000km もはなれている。

• 日本の国土は  などの大きな島を中心に、たくさんの島からなっている。

• その他、日本の国土のはん囲や形について調べてわかったことを書きましょう。



# 1 日本の国土と世界の国々④【学習した日】 月 日

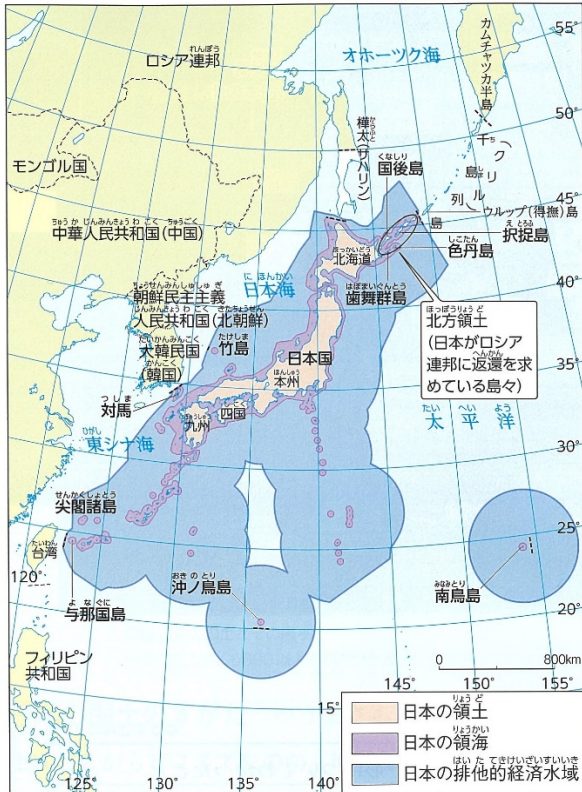
教科書 14~16 ページ

【名前】 \_\_\_\_\_

## 【めあて】

どこまでが日本の国土なのかを調べよう。

- どこまでが日本なのかを、教科書を見て調べましょう。



日本の領土、領海、排他的経済水域 東経135度(135°)の経線、北緯40度(40°)の緯線などが、日本の領土を通っています。

• **領土**  
各国がもつ陸地のこと  
小さな島々や川・湖などもふくむ

• **領海**  
領土の海岸線から \_\_\_\_\_ 海里(約22km)までの海のこと  
また、領土と領海の上空を \_\_\_\_\_ と

• **排他的経済水域**  
領土の海岸線から \_\_\_\_\_ 海里(約370km)まではん囲から、領海をのぞいた海のこと  
漁業や、海底にある \_\_\_\_\_ の開発をその国が自由に行える

(海上保安庁ほか)

国名	領土の面積	排他的経済水域の面積
日本	38万km <sup>2</sup>	447万km <sup>2</sup>
中華人民共和国	960万km <sup>2</sup>	96万km <sup>2</sup>
アメリカ合衆国	983万km <sup>2</sup>	762万km <sup>2</sup>

日本は領土に比べて、排他的経済水域が広いだね。

竹島や対馬も日本のはじめの島と言えるんだね。



領土と排他的経済水域の広さのちがい

■ 日本の領土の問題について調べましょう。



📍 外国との国境に近い島々 これらの島々は、一度も他の国の領土になったことがない、日本固有の領土です。

・北方領土

択捉島もふくめ、島・島・群島の、北海道の北東に連なる島々は、とよばれる日本のである。太平洋戦争後、 (今の国名) が不法に占領し、そこに住んでいた日本人は強制的に退去させられた。日本はの返還を (今の国名) に求めている。

・竹島

県の竹島では、 (国名) も自国の領土であると主張している。

・尖閣諸島

県の尖閣諸島では、 (国名) も自国の領土であると主張している。

日本政府の公式見解としては、領土問題は存在していないとしている。

たいせつ

- ・日本は海に囲まれ、細長く広がっている島国なので、領海や排他的経済水域は広い。
- ・領土の課題の解決に向けて、努力を続けている。

