


五	月	=	+	五	目	一	月												
二	七	日	あ	そ	び	を	し	よ	う										
	め	さ	ん	が															
	の	下	で																
	つ	ら	い	で	い	た													
	れ	ど		木	の	上	か	ら											
	あ	ら	が	お	ち	で	き	た											
	が	い	や	手	あ	ら	い	を	し										
	の	ま	わ	り	の	人	を	ま	も	ら	う								

ぼんたが  
おもしろ

ぼんたは  
おもしろい



(	か	ん	そ	う)															
	か	ん	は	が	ど	ん	は	こ	と	し	あ								
そ	び	を	つ	く	ど	て	い	ら	の	か									
た	の	し	み	に	な	て	き	ま	し	た									

(おひかり)

① おひかりは「かくれんぼ」  
とゆうゲームです。  
おもしろい。

② そのおひかりは  
おもしろい。

③ ポイント  
おひかりは五文字が  
おもしろい。  
おもしろいゲームです。  
おもしろい。

④ おひかりは  
おもしろい。

マスあてに  
かていしめる

マスあてに  
かていしめる

(しりばう②)

と	い	わ	れ	て	う	れ	し	が	と	は									
さ	す	が	だ	ね	し	う	と	い	ま	す	ち	て	は	月					
さ	い	き	ん	お	う	ち	て	は	月										
さ	い	き	ん	お	う	ち	て	は	月										
さ	い	き	ん	お	う	ち	て	は	月										
さ	い	き	ん	お	う	ち	て	は	月										
さ	い	き	ん	お	う	ち	て	は	月										
さ	い	き	ん	お	う	ち	て	は	月										
さ	い	き	ん	お	う	ち	て	は	月										
さ	い	き	ん	お	う	ち	て	は	月										

(しりばう③)

き	ま	す																	
の	て		車	が	と	お	る	こ	と	が	あ	る							
け	と		は	し	が	か	か	か	と	が	い	ら							
②	学	校	の	ま	え	に	は	川	て	い	ま	す							
①	青	い	う	み	の	ち	か	く	に	は									
か	ん	字	の	ひ	ら	ほ	1												
五	月	二	十	日	一	水													

敬書P02の丸を見て女をつて  
みましよう。敬書中の二つは  
赤んぼでせんをいと 何から  
可いね

一つの女にいくつこも  
いかにあが女にして  
みてもいいね

す。

1	2	3	4	5	6	7	8	9	10	11
5	/	19	(	火)						
32	+	57	の	し	が	た	と	考	え	よ
工	-	チ	-	フ	の	も	ん	だ	い	に
ヤ	レ	ニ	!!!	3	2	+	5	7	の	計
算	の	し	が	た	を	自	分	で	考	え
よ	ウ。									
く	自	分	の	考	え	>				

7+8のどしどしはじりたかたか??  
20+30はどしどしはじりたかたか??

やってみたいな、こんなこと  
～せいかわか～

せいかわかで"やってみたいこと"を自由にかいてね。絵をかいても  
いいよ。教科書を見てもいいので、たくさん書いてみよう!!

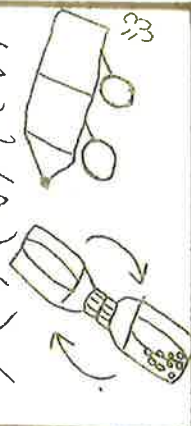
やってみたいこと①

やさいを  
やだててみたい




やってみたいこと②

おもちゃを  
つくってみたい



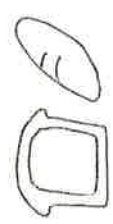
やってみたいこと③

ダンゴ虫を  
かってみたい



やってみたいこと④

ペンやさんに  
しゃべってみたい



(しりょう⑤)  
～もんだもん

# たし算 (1)

がくしゅうび  
がっ 月 日  
なまえ

④ つぎの 計算を しまししょう。

① 
$$\begin{array}{|c|c|} \hline 8 & \\ \hline + & 3 \\ \hline \end{array}$$

② 
$$\begin{array}{|c|c|} \hline 5 & \\ \hline + & 6 \\ \hline \end{array}$$

③ 
$$\begin{array}{|c|c|} \hline 3 & \\ \hline + & 9 \\ \hline \end{array}$$

④ 
$$\begin{array}{|c|c|} \hline 5 & \\ \hline + & 7 \\ \hline \end{array}$$

⑤ 
$$\begin{array}{|c|c|} \hline 6 & \\ \hline + & 8 \\ \hline \end{array}$$

⑥ 
$$\begin{array}{|c|c|} \hline 4 & \\ \hline + & 7 \\ \hline \end{array}$$

⑦ 
$$\begin{array}{|c|c|} \hline 8 & \\ \hline + & 5 \\ \hline \end{array}$$

⑧ 
$$\begin{array}{|c|c|} \hline 7 & \\ \hline + & 9 \\ \hline \end{array}$$

⑨ 
$$\begin{array}{|c|c|} \hline 6 & \\ \hline + & 6 \\ \hline \end{array}$$

⑩ 
$$\begin{array}{|c|c|} \hline 5 & \\ \hline + & 8 \\ \hline \end{array}$$

⑪ 
$$\begin{array}{|c|c|} \hline 7 & \\ \hline + & 4 \\ \hline \end{array}$$

⑫ 
$$\begin{array}{|c|c|} \hline 3 & \\ \hline + & 8 \\ \hline \end{array}$$

⑬ 
$$\begin{array}{|c|c|} \hline 9 & \\ \hline + & 6 \\ \hline \end{array}$$

⑭ 
$$\begin{array}{|c|c|} \hline 7 & \\ \hline + & 5 \\ \hline \end{array}$$

⑮ 
$$\begin{array}{|c|c|} \hline 6 & \\ \hline + & 7 \\ \hline \end{array}$$

⑯ 
$$\begin{array}{|c|c|} \hline 4 & \\ \hline + & 8 \\ \hline \end{array}$$

⑰ 
$$\begin{array}{|c|c|} \hline 8 & \\ \hline + & 8 \\ \hline \end{array}$$

⑱ 
$$\begin{array}{|c|c|} \hline 7 & \\ \hline + & 8 \\ \hline \end{array}$$

⑲ 
$$\begin{array}{|c|c|} \hline 7 & \\ \hline + & 7 \\ \hline \end{array}$$

⑳ 
$$\begin{array}{|c|c|} \hline 6 & \\ \hline + & 5 \\ \hline \end{array}$$

㉑ 
$$\begin{array}{|c|c|} \hline 9 & \\ \hline + & 2 \\ \hline \end{array}$$

㉒ 
$$\begin{array}{|c|c|} \hline 7 & \\ \hline + & 6 \\ \hline \end{array}$$

㉓ 
$$\begin{array}{|c|c|} \hline 8 & \\ \hline + & 9 \\ \hline \end{array}$$

㉔ 
$$\begin{array}{|c|c|} \hline 8 & \\ \hline + & 4 \\ \hline \end{array}$$

㉕ 
$$\begin{array}{|c|c|} \hline 8 & \\ \hline + & 6 \\ \hline \end{array}$$

㉖ 
$$\begin{array}{|c|c|} \hline 9 & \\ \hline + & 8 \\ \hline \end{array}$$

㉗ 
$$\begin{array}{|c|c|} \hline 2 & \\ \hline + & 9 \\ \hline \end{array}$$

㉘ 
$$\begin{array}{|c|c|} \hline 9 & \\ \hline + & 3 \\ \hline \end{array}$$

㉙ 
$$\begin{array}{|c|c|} \hline 8 & \\ \hline + & 7 \\ \hline \end{array}$$

㉚ 
$$\begin{array}{|c|c|} \hline 9 & \\ \hline + & 5 \\ \hline \end{array}$$

㉛ 
$$\begin{array}{|c|c|} \hline 4 & \\ \hline + & 9 \\ \hline \end{array}$$

㉜ 
$$\begin{array}{|c|c|} \hline 9 & \\ \hline + & 7 \\ \hline \end{array}$$

㉝ 
$$\begin{array}{|c|c|} \hline 6 & \\ \hline + & 9 \\ \hline \end{array}$$

㉞ 
$$\begin{array}{|c|c|} \hline 9 & \\ \hline + & 4 \\ \hline \end{array}$$

㉟ 
$$\begin{array}{|c|c|} \hline 5 & \\ \hline + & 9 \\ \hline \end{array}$$

㊱ 
$$\begin{array}{|c|c|} \hline 9 & \\ \hline + & 9 \\ \hline \end{array}$$


# たし算 (2) <りあがりなし

たし算

タツノオトシゴ



ちびやまみ、しましやうか...



① たし算を しましやう。

② ひっ算に なおして 計算しましやう。

①

5	6	
+	4	3
-----		

②

3	1	
+	2	6
-----		

③

4	2	
+	5	6
-----		

④

1	6	
+	4	1
-----		

⑤

2	3	
+	7	6
-----		

⑥

7	1	
+	1	7
-----		

⑦

4	0	
+	3	7
-----		

⑧

7	4	
+	2	0
-----		

⑨

4	3	
+	5	
-----		

⑩

	8	
+	6	0
-----		

① 62+14

-----		

② 35+23

-----		

③ 24+53

-----		

④ 51+25

-----		

⑤ 14+84

-----		

⑥ 15+33

-----		

⑦ 40+25

-----		

⑧ 66+30

-----		

⑨ 40+8

-----		

⑩ 7+22

-----		



ひじやすみ  
しましやうか...

# たし算 (3)

がくしゅうび  
がっ 月 日

なまえ

1. つぎの 計算を しましよ。う。

① 
$$\begin{array}{r} 13 \\ + 56 \\ \hline \end{array}$$

② 
$$\begin{array}{r} 22 \\ + 24 \\ \hline \end{array}$$

③ 
$$\begin{array}{r} 65 \\ + 23 \\ \hline \end{array}$$

④ 
$$\begin{array}{r} 15 \\ + 12 \\ \hline \end{array}$$

⑤ 
$$\begin{array}{r} 17 \\ + 71 \\ \hline \end{array}$$

⑥ 
$$\begin{array}{r} 86 \\ + 12 \\ \hline \end{array}$$

⑦ 
$$\begin{array}{r} 37 \\ + 32 \\ \hline \end{array}$$

⑧ 
$$\begin{array}{r} 16 \\ + 32 \\ \hline \end{array}$$

⑨ 
$$\begin{array}{r} 28 \\ + 51 \\ \hline \end{array}$$

⑩ 
$$\begin{array}{r} 34 \\ + 44 \\ \hline \end{array}$$

⑪ 
$$\begin{array}{r} 43 \\ + 52 \\ \hline \end{array}$$

⑫ 
$$\begin{array}{r} 32 \\ + 21 \\ \hline \end{array}$$

2. つぎの 計算を しましよ。う。

① 
$$\begin{array}{r} 36 \\ + 40 \\ \hline \end{array}$$

② 
$$\begin{array}{r} 78 \\ + 20 \\ \hline \end{array}$$

③ 
$$\begin{array}{r} 52 \\ + 30 \\ \hline \end{array}$$

④ 
$$\begin{array}{r} 85 \\ + 10 \\ \hline \end{array}$$

⑤ 
$$\begin{array}{r} 22 \\ + 50 \\ \hline \end{array}$$

⑥ 
$$\begin{array}{r} 19 \\ + 30 \\ \hline \end{array}$$

⑦ 
$$\begin{array}{r} 20 \\ + 43 \\ \hline \end{array}$$

⑧ 
$$\begin{array}{r} 40 \\ + 17 \\ \hline \end{array}$$

⑨ 
$$\begin{array}{r} 60 \\ + 24 \\ \hline \end{array}$$

⑩ 
$$\begin{array}{r} 10 \\ + 40 \\ \hline \end{array}$$

⑪ 
$$\begin{array}{r} 30 \\ + 20 \\ \hline \end{array}$$

⑫ 
$$\begin{array}{r} 50 \\ + 10 \\ \hline \end{array}$$

(しりょう⑤) ~こたえ

5 2 たし算の ひっ算

1. たし算(1)

6がで くり上がりの ない たし算の ひっ算を しよう。

12-16

なまえ

月 日 1つ10点

点

**ステップ1**

①

2	3
+	14
-----	
3	7

②


5	3
+	20
-----	
7	3

ポイント

一のくから じゆんに 計算しよう。

一のくさい 3+4=7

十のくさい 2+1=3



**ステップ2**

③

1	6
+	32
-----	
4	8

④

4	6
+	21
-----	
6	7

⑤

3	5
+	24
-----	
5	9

**ステップ3**

⑥ 35+50

3	5
+	50
-----	
8	5

⑦ 22+60

2	2
+	60
-----	
8	2

⑧ 10+31

1	0
+	31
-----	
4	1

⑨ 40+34

4	0
+	34
-----	
7	4

⑩ 30+65


3	0
+	65
-----	
9	5

ポイント

□に あら 数は いくつ?

本つどの 計算の □に あら 数を 書きましよう。

くさいことに 答えよう。



2	0
+	23
-----	
4	3

# たし算 (1)

がくしゅうび  
がく  
月 日

--	--	--	--	--	--	--	--	--	--	--	--	--	--	--	--	--	--	--	--

🌀 つぎの計算をしましゅう。

① 
$$\begin{array}{r} 8 \\ + 3 \\ \hline 11 \end{array}$$

② 
$$\begin{array}{r} 5 \\ + 6 \\ \hline 11 \end{array}$$

③ 
$$\begin{array}{r} 3 \\ + 9 \\ \hline 12 \end{array}$$

④ 
$$\begin{array}{r} 5 \\ + 7 \\ \hline 12 \end{array}$$

⑤ 
$$\begin{array}{r} 6 \\ + 8 \\ \hline 14 \end{array}$$

⑥ 
$$\begin{array}{r} 4 \\ + 7 \\ \hline 11 \end{array}$$

⑦ 
$$\begin{array}{r} 8 \\ + 5 \\ \hline 13 \end{array}$$

⑧ 
$$\begin{array}{r} 7 \\ + 9 \\ \hline 16 \end{array}$$

⑨ 
$$\begin{array}{r} 6 \\ + 6 \\ \hline 12 \end{array}$$

⑩ 
$$\begin{array}{r} 5 \\ + 8 \\ \hline 13 \end{array}$$

⑪ 
$$\begin{array}{r} 7 \\ + 4 \\ \hline 11 \end{array}$$

⑫ 
$$\begin{array}{r} 3 \\ + 8 \\ \hline 11 \end{array}$$

⑬ 
$$\begin{array}{r} 9 \\ + 6 \\ \hline 15 \end{array}$$

⑭ 
$$\begin{array}{r} 7 \\ + 5 \\ \hline 12 \end{array}$$

⑮ 
$$\begin{array}{r} 6 \\ + 7 \\ \hline 13 \end{array}$$

⑯ 
$$\begin{array}{r} 4 \\ + 8 \\ \hline 12 \end{array}$$

⑰ 
$$\begin{array}{r} 8 \\ + 8 \\ \hline 16 \end{array}$$

⑱ 
$$\begin{array}{r} 7 \\ + 8 \\ \hline 15 \end{array}$$

⑲ 
$$\begin{array}{r} 7 \\ + 7 \\ \hline 14 \end{array}$$

⑳ 
$$\begin{array}{r} 6 \\ + 5 \\ \hline 11 \end{array}$$

㉑ 
$$\begin{array}{r} 9 \\ + 2 \\ \hline 11 \end{array}$$

㉒ 
$$\begin{array}{r} 7 \\ + 6 \\ \hline 13 \end{array}$$

㉓ 
$$\begin{array}{r} 8 \\ + 9 \\ \hline 17 \end{array}$$

㉔ 
$$\begin{array}{r} 8 \\ + 4 \\ \hline 12 \end{array}$$

㉕ 
$$\begin{array}{r} 8 \\ + 6 \\ \hline 14 \end{array}$$

㉖ 
$$\begin{array}{r} 9 \\ + 8 \\ \hline 17 \end{array}$$

㉗ 
$$\begin{array}{r} 2 \\ + 9 \\ \hline 11 \end{array}$$

㉘ 
$$\begin{array}{r} 9 \\ + 3 \\ \hline 12 \end{array}$$

㉙ 
$$\begin{array}{r} 8 \\ + 7 \\ \hline 15 \end{array}$$

㉚ 
$$\begin{array}{r} 9 \\ + 5 \\ \hline 14 \end{array}$$

㉛ 
$$\begin{array}{r} 4 \\ + 9 \\ \hline 13 \end{array}$$

㉜ 
$$\begin{array}{r} 9 \\ + 7 \\ \hline 16 \end{array}$$

㉝ 
$$\begin{array}{r} 6 \\ + 9 \\ \hline 15 \end{array}$$

㉞ 
$$\begin{array}{r} 9 \\ + 4 \\ \hline 13 \end{array}$$

㉟ 
$$\begin{array}{r} 5 \\ + 9 \\ \hline 14 \end{array}$$

㊱ 
$$\begin{array}{r} 9 \\ + 9 \\ \hline 18 \end{array}$$




# たし算(2) <くりあがりなし

ほろえ

タツノオトシゴ



たし算を、プリントして、お友達とやってみよう。



① たし算を しましよ。う。

② ひっ算に なおして 計算しましよ。う。

$$\begin{array}{r} 56 \\ + 43 \\ \hline 99 \end{array}$$

$$\begin{array}{r} 31 \\ + 26 \\ \hline 57 \end{array}$$

$$\begin{array}{r} 42 \\ + 56 \\ \hline 98 \end{array}$$

$$\begin{array}{r} 16 \\ + 41 \\ \hline 57 \end{array}$$

$$\begin{array}{r} 62 \\ + 14 \\ \hline 76 \end{array}$$

$$\begin{array}{r} 35 \\ + 23 \\ \hline 58 \end{array}$$

$$\begin{array}{r} 24 \\ + 53 \\ \hline 77 \end{array}$$

$$\begin{array}{r} 51 \\ + 25 \\ \hline 76 \end{array}$$

$$\begin{array}{r} 23 \\ + 76 \\ \hline 99 \end{array}$$

$$\begin{array}{r} 71 \\ + 17 \\ \hline 88 \end{array}$$

$$\begin{array}{r} 40 \\ + 37 \\ \hline 77 \end{array}$$

$$\begin{array}{r} 74 \\ + 20 \\ \hline 94 \end{array}$$

$$\begin{array}{r} 14 \\ + 84 \\ \hline 98 \end{array}$$

$$\begin{array}{r} 15 \\ + 33 \\ \hline 48 \end{array}$$

$$\begin{array}{r} 40 \\ + 25 \\ \hline 65 \end{array}$$

$$\begin{array}{r} 66 \\ + 30 \\ \hline 96 \end{array}$$

⑨ (チャレンジ)

$$\begin{array}{r} 43 \\ + 58 \\ \hline 101 \end{array}$$

⑩ (チャレンジ)

$$\begin{array}{r} 8 \\ + 60 \\ \hline 68 \end{array}$$

⑪ (チャレンジ)

$$\begin{array}{r} 7 \\ + 22 \\ \hline 29 \end{array}$$

⑫ (チャレンジ)

$$\begin{array}{r} 40 \\ + 8 \\ \hline 48 \end{array}$$

⑬ (チャレンジ)

$$\begin{array}{r} 40 \\ + 8 \\ \hline 48 \end{array}$$

⑭ (チャレンジ)

$$\begin{array}{r} 7 \\ + 22 \\ \hline 29 \end{array}$$

⑮ (チャレンジ)

$$\begin{array}{r} 40 \\ + 25 \\ \hline 65 \end{array}$$

⑯ (チャレンジ)

$$\begin{array}{r} 66 \\ + 30 \\ \hline 96 \end{array}$$



ひじやすみ  
しましよ。う...

(チャレンジ)

⑨ (チャレンジ)

⑩ (チャレンジ)

⑪ (チャレンジ)

⑫ (チャレンジ)

⑬ (チャレンジ)

⑭ (チャレンジ)

⑮ (チャレンジ)

⑯ (チャレンジ)

⑰ (チャレンジ)

# たし算 (3)

がくしゅうひ  
がっ 月 日  
なまえ

1. つぎの 計算を しましょう。

① 
$$\begin{array}{r} 13 \\ + 56 \\ \hline 69 \end{array}$$

② 
$$\begin{array}{r} 22 \\ + 24 \\ \hline 46 \end{array}$$

③ 
$$\begin{array}{r} 65 \\ + 23 \\ \hline 88 \end{array}$$

2. つぎの 計算を しましょう。

① 
$$\begin{array}{r} 36 \\ + 40 \\ \hline 76 \end{array}$$

② 
$$\begin{array}{r} 78 \\ + 20 \\ \hline 98 \end{array}$$

③ 
$$\begin{array}{r} 52 \\ + 30 \\ \hline 82 \end{array}$$

④ 
$$\begin{array}{r} 15 \\ + 12 \\ \hline 27 \end{array}$$

⑤ 
$$\begin{array}{r} 17 \\ + 71 \\ \hline 88 \end{array}$$

⑥ 
$$\begin{array}{r} 86 \\ + 12 \\ \hline 98 \end{array}$$

④ 
$$\begin{array}{r} 85 \\ + 10 \\ \hline 95 \end{array}$$

⑤ 
$$\begin{array}{r} 22 \\ + 50 \\ \hline 72 \end{array}$$

⑥ 
$$\begin{array}{r} 19 \\ + 30 \\ \hline 49 \end{array}$$

⑦ 
$$\begin{array}{r} 37 \\ + 32 \\ \hline 69 \end{array}$$

⑧ 
$$\begin{array}{r} 16 \\ + 32 \\ \hline 48 \end{array}$$

⑨ 
$$\begin{array}{r} 28 \\ + 51 \\ \hline 79 \end{array}$$

⑦ 
$$\begin{array}{r} 20 \\ + 43 \\ \hline 63 \end{array}$$

⑧ 
$$\begin{array}{r} 40 \\ + 17 \\ \hline 57 \end{array}$$

⑨ 
$$\begin{array}{r} 60 \\ + 24 \\ \hline 84 \end{array}$$

⑩ 
$$\begin{array}{r} 34 \\ + 44 \\ \hline 78 \end{array}$$

⑪ 
$$\begin{array}{r} 43 \\ + 52 \\ \hline 95 \end{array}$$

⑫ 
$$\begin{array}{r} 32 \\ + 21 \\ \hline 53 \end{array}$$

⑩ 
$$\begin{array}{r} 10 \\ + 40 \\ \hline 50 \end{array}$$

⑪ 
$$\begin{array}{r} 30 \\ + 20 \\ \hline 50 \end{array}$$

⑫ 
$$\begin{array}{r} 50 \\ + 10 \\ \hline 60 \end{array}$$

# ドレミで歌ったり えんそうしたりしよう



えんそうのあそび  
えんそうのあそび  
えんそうのあそび  
えんそうのあそび  
えんそうのあそび  
えんそうのあそび

☆ かわるの がっしょう

岡本敏明 作詞 ドイツ曲 ☆

♩=116ぐらい

1 2 3 4

か え る の う た が

1 2 3 4

き こ え て く る よ

1

クワ クワ クワ クワ

1 2 3 4

クワ クワ クワ クワ

みんなの音がそろるように、1だんずつのフレーズを  
ていねいにえんそうしよう。