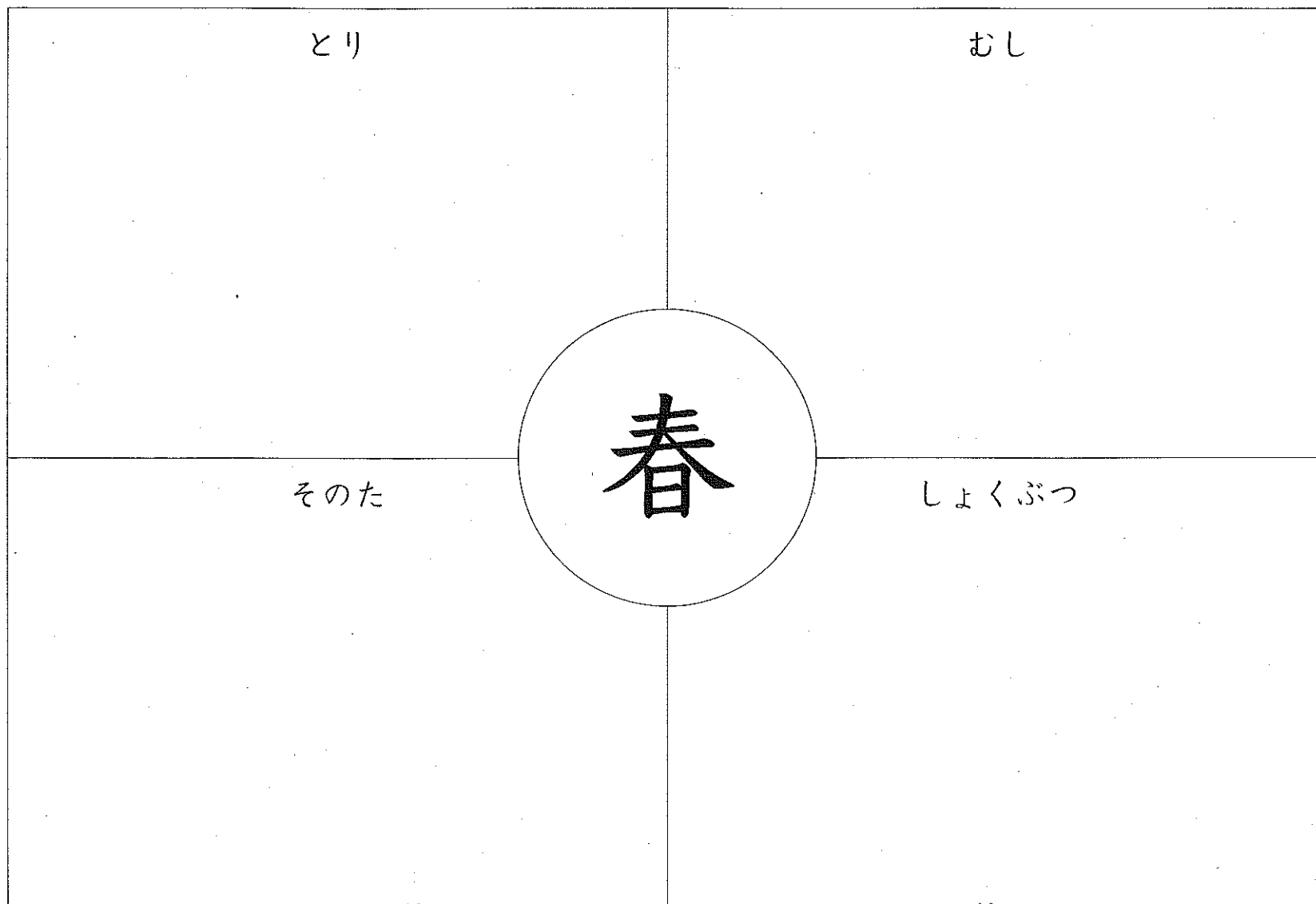


## 春が いっぱい

---

まえ  
名 前

● 春を かんじる ことばを あつめましょう。



同じ ぶぶんをもつ かん字

まえ  
名

● かん字の 同じ ぶぶんを 見つけて、なかまわけを  
しましょう。

「口」が入った かん字


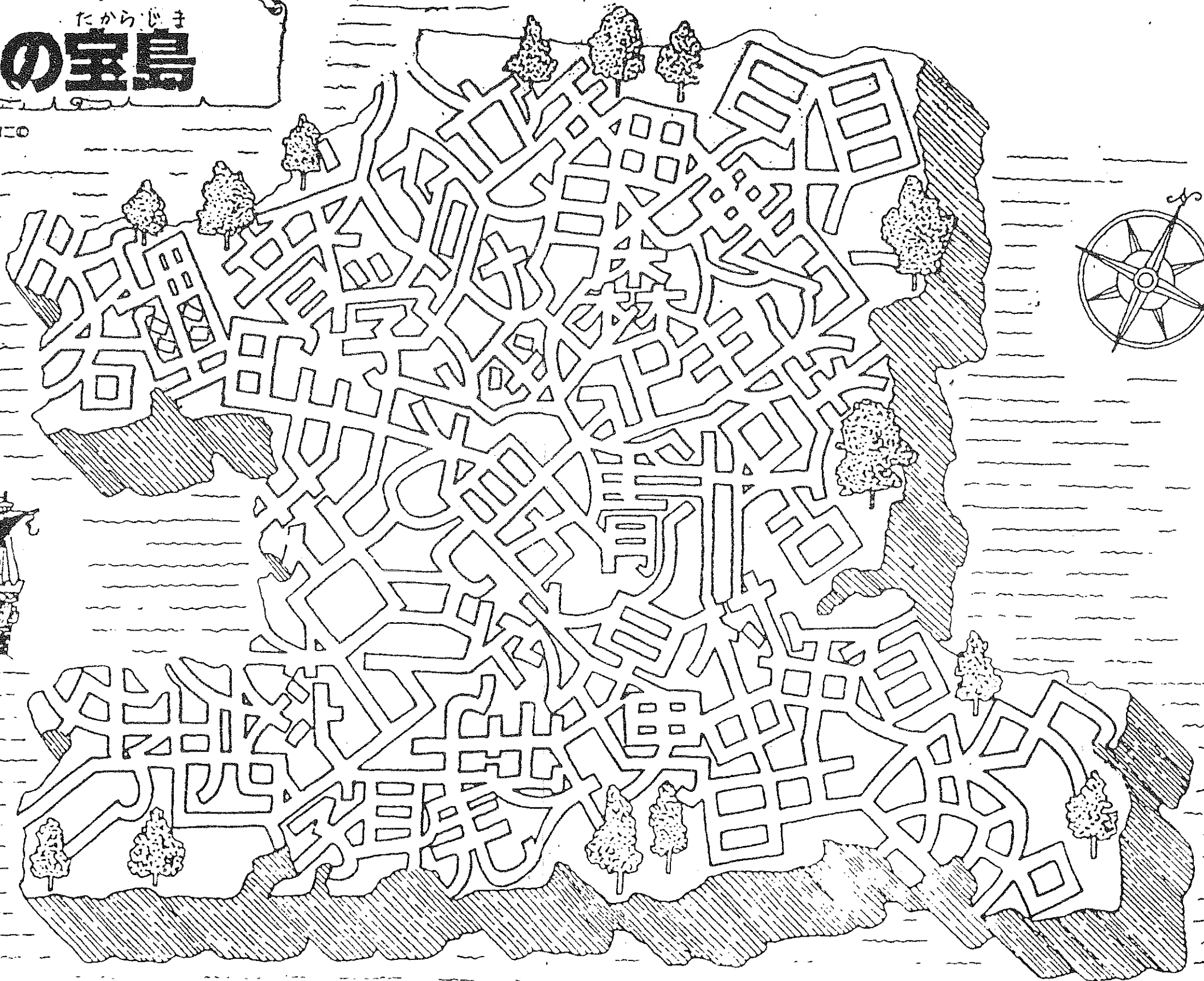

「目」が入った かん字

「」が入った かん字

「」が入った かん字

かんじ たからじま  
**漢字の宝島**

冊数 字の宝島 全二冊



たからじま



いままでならったかんじが  
 ぜんがいかかれてます。  
 さがしだしてすきないうを  
 ソのかんじにぬりましょう。



# かんじのたしかめ20

なまえ

くみ

ばん

1つ5てん

てん

●□にかんじをかきましよう。「」は、かんじとひらがなでかきましよう。

① まい  
にち  
あるく。

②  
ご  
ほん  
のえんぴつ。

③  
な  
まえをかく。

④ たかい  
やま  
にのぼる。

⑤  
むし  
をとる。

⑥  
こ  
どもとおとな。

⑦  
いぬ  
のさんぽ。

⑧  
だい  
すきなうた。

⑨  
ひやく  
てんをとる。

⑩ かん  
じ  
をならう。

⑪ そとへ  
でる。

⑫  
あか  
とんぼがとぶ。

⑬ まん  
げつ  
のよる。

⑭ こかげで  
やすむ。

⑮  
ゆう  
がたになる。

⑯  
がっこう  
へいく。

⑰  
やっつ  
かぞえる。

⑱  
むら  
のおまつり。

⑳  
ただしい  
こたえ。

かん字のたしかめ ①

10~31

なまえ

くみ

ばん

日本標準

てん

かん字をかきまじり。

11572(国)

① 本を

よむ。

⑧

しょくかん

②

ゆき

がふる。

⑨

なかま

け

③

いわけ

いわけ

⑩

かんがえ

かた

④

学校へ

い

⑪

はる

の花。

⑤

みなみ

の

⑫

おん

がくしつ

⑥

字を

か

⑬

おん

どく

⑦

ぬり

え

⑭

どく

しよ

する

⑲

み

であらう。

⑱

み

る。

⑳

した

⑰

たけ

とんぼ

⑮

ちゆう

ずかん



かん字のたしかめ ②

32~51

なまえ

くみ

ばん

日本標準

てん

◆かん字を書きましよう。

① おも  
い出す

② 日にっ  
き  
に  
書く。

③ 木もく  
よう  
日び

④ ぶた  
にく

⑤ はな  
しあう

⑥ こえを  
き  
く。

⑦ き  
いろの  
花。

⑧ いろ  
えんぴつ

⑨ くろ  
い  
石。

⑩ ふと  
いつな。

⑪ かみの  
け

⑫ たか  
い  
山。

⑬ そよ  
かぜ

⑭ は  
れた  
空。

⑮ 人が  
おお  
い。

⑯ 学校の  
せん  
生。

⑰ しめり  
け

⑱ わ  
かりやすい

⑲ え  
を見る。

⑳ よく  
よ  
む。

◆ かん字を 書きましょ。 ◆

なまえ

くみ

ばん

日本標準

てん

一こま(2)(10)

① まるい

かたち

② なが

なが

いひも。

③ 大きな

か

かず

④ からだ

からだ

をふく。

⑤ ちか

ちか

づく

⑥ おな

おな

じ色。

⑦ むかしと

い

ま

⑧ うんどう

かい

かい

⑨ しんぶん

し

や

⑩ 小

が

たな

できる。

⑪ かみを

き

き

る。

⑫ 校

ない

ない

ほうそう

⑬ みせ

み

せ

に 入る。

⑭ あね

あ

ね

の いけん。

⑮ いもうと

い

もうと

の ぶく。

⑯ せん

せん

せん

を ひく。

⑰ き

き

き

車に のる。

⑱ うみ

う

み

が 見える。

⑲ 三

三

かい

まわる。

⑳ みちを

あ

る

く。

□に かんじを かきましよう。「」は、かんじと ひらがなで かきましよう。

① まい 日 ちち あるく。

② 五 本 ごほん のえんぴつ。

③ 名 な まえをかく。

④ たかい 山 やま へのぼる。

⑤ 虫 むし をとる。

⑥ 子 こ どもとおとな。

⑦ 犬 いぬ のさんぽ。

⑧ 大 だい すきなうた。

⑨ 百 ひゃく てんをとる。

⑩ かん 字 じ をならう。

⑪ そとへ 出る てる

⑫ 赤 あか とんぼがとぶ。

⑬ まん 月 げつ のよる。

⑭ こかけて 休む やすむ

⑮ タ ゆう がたになる。

⑯ 学 校 がっこう へいく。

⑰ ハつ やつつ かぞえる。

⑱ 早 早く はやく おきる。

⑲ 村 むら のおまつり。

⑳ 正 しい ただしい こたえ。

◆ かん字を かきましよう。

① 本を 読む よむ

② 雪 ゆき がふる。

③ 言 い いわけ

④ 学校へ 行く いく

⑤ 南 みなみ のまど。

⑥ 字を 書く か

⑦ ぬり 絵 え

⑧ 図書館 しょくかん

⑨ なかま 分け わ

⑩ かんがえ 方 かた

⑪ 春 はる の花。

⑫ 音 おん がくしつ

⑬ おん 読 読む よむ

⑭ どく 書 かく

⑮ こん 虫 ちゅう ずかん

⑯ 竹 たけ とんぼ

⑰ つくえの 下 した

⑱ 上を 見る み

⑲ 水 みず で あらう。

⑳ そら 空 のくも。



◆ かん字を 書きましよう。

32年  
かん字の たしかめ ②  
32~51

なまえ  
「あまのり」の「てまて」から「かじじゆんじ」まで  
日本標準  
てん

① 思 おも  
い出す

② 日 ひ  
記 き  
に 書く。

③ 木 き  
曜 よう  
日 ひ

④ ぶた  
肉 にく

⑤ 話 はな  
しあう

⑥ こえを  
聞 き  
く。

⑦ 黄 き  
いろの 花。

⑧ 色 いろ  
えんぴつ

⑨ 黒 くろ  
い石。

⑩ 太 ふと  
い つな。

⑪ かみの  
毛 け

⑫ たか  
高 い山。

⑬ そよ  
風 かぜ

⑭ は  
晴 れた 空。

⑮ 人が  
多 おお  
い。

⑯ 学校の  
先 せん  
生。

⑰ しめり  
気 け

⑱ わ  
分 かりやすい

⑲ え  
絵 を見る。

⑳ よく  
読 よ  
む。

◆ かん字を 書きましよう。

32年  
かん字の たしかめ ③  
52~62

なまえ  
「かたき」の「かたき」から「かん字の ひろば」まで  
日本標準  
てん

① まるい  
形 かたち

② なが  
長 いひも。

③ 大きな  
数 かず

④ からだ  
体 をふく。

⑤ ちか  
近 づく

⑥ おな  
同 じ色。

⑦ むかしと  
今 いま

⑧ うんどう  
会 かい

⑨ しんぶん  
社 しゃ

⑩ こ  
刀 がたな  
で きる。

⑪ かみを  
切 き  
る。

⑫ ない  
校 内 ほうそう

⑬ みせ  
店 に 入る。

⑭ あね  
姉 の いけん。

⑮ いもうと  
妹 の ふく。

⑯ せん  
線 を ひく。

⑰ き  
汽 車に のる。

⑱ うみ  
海 が 見える。

⑲ かい  
三 回 まわる。

⑳ ある  
みちを  
歩 歩く。

No. 1

1年のたしかめ①

名前

点

1 <sup>けいさん</sup>計算を しましょう。

(1もん4点)

①  $6 + 3 =$

⑧  $16 - 8 =$

②  $8 - 5 =$

⑨  $14 - 5 =$

③  $7 + 3 =$

⑩  $9 + 6 =$

④  $10 - 4 =$

⑪  $18 - 5 =$

⑤  $9 + 7 =$

⑫  $10 + 7 =$

⑥  $13 - 8 =$

⑬  $19 - 3 =$

⑦  $7 + 7 =$

2 計算を しましょう。

(1もん4点)

①  $7 + 0 =$

②  $2 - 0 =$

③  $0 + 3 =$

④  $6 - 0 =$

3 計算を しましょう。

(1もん4点)

①  $2 + 4 + 3 =$

②  $9 - 5 + 4 =$

③  $10 - 2 - 5 =$

④  $7 + 8 - 9 =$

4 計算を しましょう。

(1もん4点)

①  $30 + 8 =$

②  $20 + 80 =$

③  $84 - 4 =$

④  $100 - 40 =$

1年のたしかめ②

名前

点

(1もん10点)

1 切手が 15まい ありました。7まい つかいま  
した。のこりは 何まい でしょうか。

しき

こた  
答え

2 公園で 男の子が 5人、女の子が 8人 あそ  
んでいます。どちらが 何人 多い でしょうか。

しき

答え

3 赤い おり紙が 9まい、白い おり紙が 7ま  
い あります。ぜんぶで 何まい でしょうか。

しき

答え

4 えんぴつを 6本 もっていました。おねえさん  
が 5本 くれました。えんぴつは ぜんぶで 何  
本に なった でしょうか。

しき

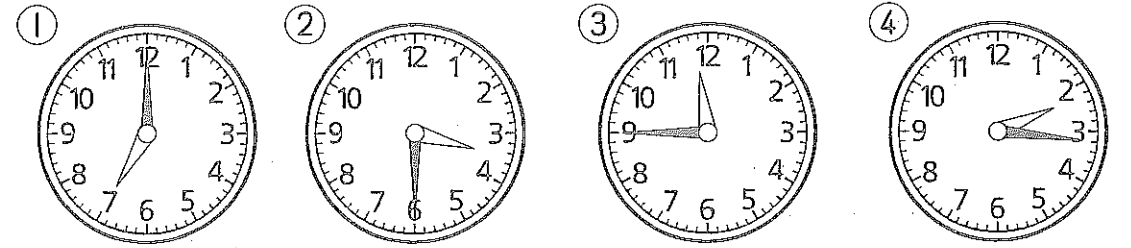
答え

5 つぎの ことばに あてはまる 形の きごうを  
書きましょう。(いろいろな むきで 考えます。) ((1つ5点)

- ① ころがる。 ( ) ( )
- ② つみかさねられる。 ( ) ( )
- ③ たいらな ところがある。 ( ) ( )




6 何時 何分 でしょうか。(1もん5点)



( ) 時 ( ) 時 分 ( ) 時 分 ( ) 時 分


7 多く 入る 入れものに ○を しましょう。

(5点)




8 □に あう 数を 書きましょう。

(5点)



ひょうとグラフ ① 名前

♣ 川で、石ひろいをしました。  
ひょうを見て 答えましょう。

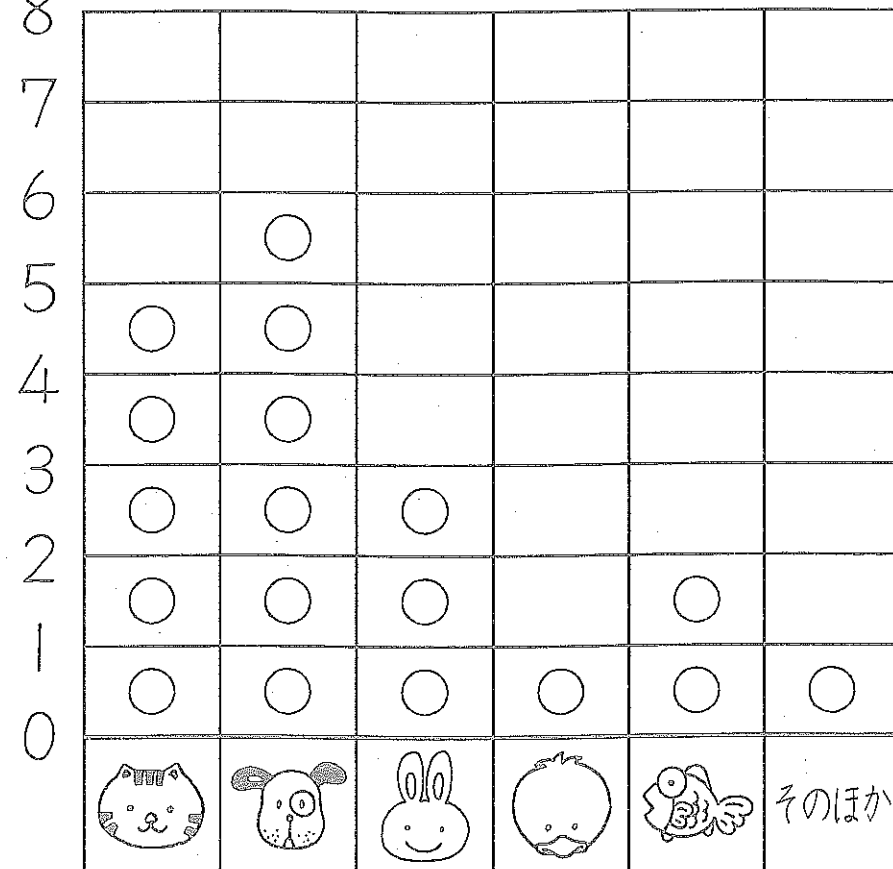


- ① まさおさんは、どこ ひろいましたか。  
( )
- ② 一番 いちばん 多く ひろった人は だれですか。  
( )
- ③ ただしさんは、えり子さんより どこ 多く ひろいましたか。  
( )
- ④ みんなで 何この石を ひろいましたか。  
( )

ひょうとグラフ ② 名前



♣ もんだいに 答えましょう。

(ウ) ペットを 持っている 人の数



- ① イヌを かって いる人は、何人ですか。  
( )
- ② ネコを かって いる人は、サカナを かって いる人より、何人 多いですか。  
( )
- ③ ペットを かって いる人は、ぜんぶで 何人 ですか。  
( )

ひょうとグラフ ③ 名前



左の絵の <sup>え</sup> どうぶつの 数を しらべましょう。

① ウサギは 何びき いますか。  
( )

② それぞれの どうぶつの 数を ひょうに 書き  
ましょう。

• どうぶつの 数 •

どうぶつ	ウサギ	ウマ	ヒツジ	ゾウ	キリン
数					

③ どうぶつの 数を、○を  
つかって 右の グラフに  
かきましょう。( )に グラ  
フの <sup>まえ</sup> 名前を 書きましょう。


ウ サ ギ	ウ マ	ヒ ツ ジ	ゾ ウ	キ リ ン

④ ウサギは、ゾウより 何び  
き 多いですか。  
( )

⑤ どうぶつは ぜんぶで 何  
びき いますか。  
( )

ひょうとグラフ ④ 名前

♣ くだものの数を しらべましょう。



① リンゴは 何こ ありますか。

( )

② それぞれの くだものの 数を ひょうに 書き ましょう。


● くだものの 数 ●

くだもの	ミカン	バナナ	イチゴ	リンゴ	メロン
数					

③ くだものの 数を ○を つかって 下の グラフに かきましょう。また、( )に グラフの 名前を 書きましょう。

( )

ミカン	バナナ	イチゴ	リンゴ	メロン



④ イチゴは ミカンより 何こ 多いですか。

( )

⑤ くだものは ぜんぶで 何こ ありますか。

( )

ひょうとグラフ ⑤ 名前

♣ もんだいに 答えましょう。

• すきな あそび •

7						
6	○					
5	○	○				
4	○	○				
3	○	○	○		○	
2	○	○	○		○	
1	○	○	○	○	○	○
0	ドッジボール	おにごっこ	なわとび	てつぼう	ブランコ	そのほか

- ① すきな 人が 一番 多い あそびは 何ですか。 ( )
- ② おにごっこの すきな 人は 何人ですか。 ( )
- ③ ドッジボールが すきな 人は、ブランコが すきな 人より 何人 多いですか。 ( )

ひょうとグラフ ⑥ 名前

♣ もんだいに 答えましょう。

• できた やさいの 数 •

やさい	キュウリ	ナス	トマト	サツマイモ	トウモロコシ
数	4	5	9	8	3

• できた やさいの 数 •

キュウリ	ナス	トマト	サツマイモ	トウモロコシ

- ① 上の ひょうを グラフに ○を つかって かきましょう。
- ② 一番 多く できた やさい は 何ですか。 ( )
- ③ ナスと キュウリは どちら が 何こ 多く できましたか。 ( )
- ④ やさいは ぜんぶで 何こ できましたか。 ( )

## たし算 (ふくしゅう1)

たし算を しましょう。



①  $3+4=$

⑬  $6+5=$

⑮  $3+2=$

②  $3+0=$

⑭  $7+4=$

⑯  $1+8=$

③  $5+4=$

⑰  $1+4=$

⑳  $1+1=$

④  $4+0=$

⑱  $4+3=$

㉑  $5+0=$

⑤  $9+2=$

㉒  $8+8=$

㉓  $5+8=$

⑥  $0+6=$

㉔  $0+4=$

㉕  $0+0=$

⑦  $2+9=$

㉖  $8+5=$

㉗  $2+2=$

⑧  $1+3=$

㉘  $6+2=$

㉙  $4+9=$

⑨  $5+1=$

㉚  $7+7=$

㉛  $1+9=$

⑩  $0+8=$

㉜  $0+3=$

㉝  $3+6=$

⑪  $4+1=$

㉞  $2+4=$

㉟  $2+1=$

⑫  $6+9=$

㊱  $5+5=$

㊲  $5+9=$

## たし算 (ふくしゅう2)

たし算を しましょう。

①  $1+0=$

⑬  $3+7=$

⑮  $9+0=$

②  $8+6=$

⑭  $6+6=$

⑯  $1+2=$

③  $8+2=$

⑰  $5+7=$

㉑  $4+2=$

④  $3+1=$

⑱  $2+7=$

㉓  $8+1=$

⑤  $8+0=$

㉒  $0+7=$

㉔  $0+2=$

⑥  $9+6=$

㉔  $6+1=$

㉕  $6+8=$

⑦  $4+5=$

㉖  $3+3=$

㉗  $7+6=$

⑧  $5+6=$

㉘  $1+6=$

㉙  $9+5=$

⑨  $8+7=$

㉚  $2+0=$

㉛  $7+5=$

⑩  $5+3=$

㉜  $1+5=$

㉝  $5+2=$

⑪  $9+4=$

㉞  $6+7=$

㉟  $7+3=$

⑫  $2+6=$

㊱  $3+9=$

㊲  $8+3=$





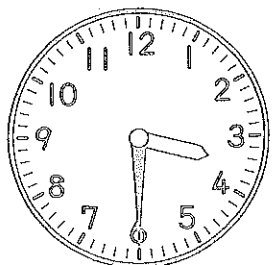
# 時計を よもう

なまえ

DO211


● つぎの <sup>とけい</sup> 時計を よみましょう。

①



( )


②



( )


● <sup>せん</sup> 線で むすびましょう。

③




6:15

④



1:40

⑤



10:23



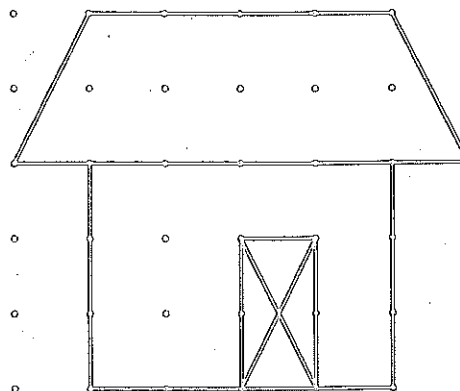
# 形づくり

なまえ

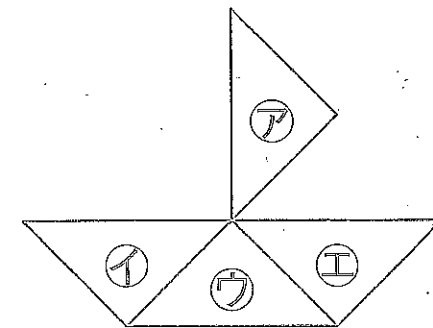
DO212

● 点をつないで、<sup>てん</sup> 同じ <sup>おな</sup> 形を <sup>かたち</sup> 右に かきましょう。

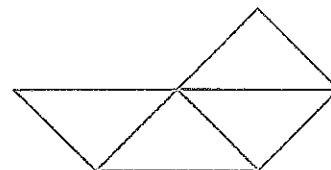
①



● 右の 形の  $\triangle$  を 1まいだけ  
うごかして ②, ③, ④の 形に  
しました。どの  $\triangle$  を  
うごかしましたか。  
アから <sup>こた</sup> ①で 答えましょう。

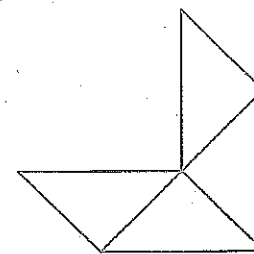


②



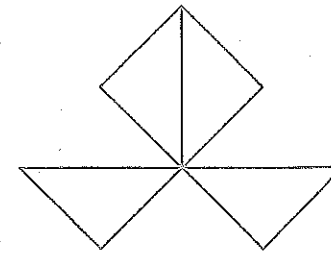
( )

③



( )

④



( )



どんな 計算に なるのかな①

なまえ	
-----	--

DO213

● たすのか ひくのか <sup>かんが</sup> 考えて もんだいに <sup>こた</sup> 答えましょう。

① ゆいさんは 貝がらを 5まい ひろいました。  
 弟は 3まい ひろいました。あわせて <sup>なん</sup> 何まい  
 ひろいましたか。

(しき)

答え( )

② あめが 16こ あります。6こ <sup>た</sup> 食べると、何こ  
 のこりますか。

(しき)

答え( )

③ 子どもが 12人 います。男の子は 7人です。  
 女の子は 何人ですか。

(しき)

答え( )



どんな 計算に なるのかな②

なまえ	
-----	--

DO214

● たすのか ひくのか <sup>かんが</sup> 考えて もんだいに <sup>こた</sup> 答えましょう。

① はとが 8わ います。5わ <sup>き</sup> 来ました。ぜんぶで  
<sup>なん</sup> 何わに なりましたか。

(しき)

答え( )

② 青の <sup>いろがみ</sup> 色紙が 70まいと、赤の 色紙が 40まい  
 あります。青の 色紙は 赤の 色紙より 何まい  
<sup>おほ</sup> 多いですか。

(しき)

答え( )

③ 9人が ひとりずつ <sup>じ</sup> 自てん車に のって います。  
 自てん車は、あと 3台 <sup>だい</sup> あります。自てん車は、  
 ぜんぶで 何台 ありますか。


(しき)

答え( )

② たし算の ひっ算

2年 組 番  
名前

① しきを <sup>か</sup>書きましょう。



しき

② □に <sup>かず</sup>数を <sup>か</sup>書きましょう。

① 10が 9こと, 1が 7こで

です。

② 10が 6こで  です。

③ 83は, 10が  こと

1が  こです。

④ 90は 10が  こです。

③ <sup>けいさん</sup>計算を <sup>し</sup>しましょう。

①  $9+5$

②  $6+7$

③  $30+60$

④  $43+5$

④ 赤い <sup>いろがみ</sup>色紙が 8まい あります。  
青い 色紙が 9まい あります。  
色紙は, ぜんぶで <sup>なん</sup>何まい  
ありますか。

しき

<sup>こた</sup>答え

①つぎの もんだいは, まだ 学しゅうして  
いません。ちょうせんして みましょう。

※  
⑤ 計算を <sup>し</sup>しましょう。

①  $23+12$

②  $20+36$

③  $32+8$


④  $26+37$

③ ひき算の ひっ算

2年 組 番  
名前

① りすと うさぎが います。

どちらが <sup>なん</sup>何びき  
<sup>おお</sup>多いでしょうか。



しき

<sup>こた</sup>答え  が  ひき

多い。

② □に <sup>かず</sup>数を <sup>か</sup>書きましょう。

① 29は 20と  を

あわせた 数です。

② 18は  と 8を

あわせた 数です。

③ 34は, 10が  こと

1が 4こです。

④ 45より 3 小さい 数は

です。

③ <sup>けいさん</sup>計算を <sup>し</sup>しましょう。

①  $7-3$

②  $14-8$

③  $90-50$

④  $78-3$

④ 12人で いすと<sup>り</sup>ゲームを  
しています。いすは 5つ  
あります。

すわれない 人は <sup>なんにん</sup>何人ですか。

しき

答え

①つぎの もんだいは, まだ 学しゅうして  
いません。ちょうせんして みましょう。

※  
⑤ 計算を <sup>し</sup>しましょう。

①  $54-21$

②  $36-16$

③  $37-19$

④  $23-9$

No. 1

1年の たしかめ ①

名前

□ 点

2 計算を しましょう。

(1もん4点)

1 計算を しましょう。

(1もん4点)

①  $6 + 3 = 9$

⑧  $16 - 8 = 8$

①  $7 + 0 = 7$

②  $2 - 0 = 2$

②  $8 - 5 = 3$

⑨  $14 - 5 = 9$

3 計算を しましょう。

(1もん4点)

①  $2 + 4 + 3 = 9$

③  $7 + 3 = 10$

⑩  $9 + 6 = 15$

②  $9 - 5 + 4 = 8$

④  $10 - 4 = 6$

⑪  $18 - 5 = 13$

③  $10 - 2 - 5 = 3$

⑤  $9 + 7 = 16$

⑫  $10 + 7 = 17$

④  $7 + 8 - 9 = 6$

⑥  $13 - 8 = 5$

⑬  $19 - 3 = 16$

4 計算を しましょう。

(1もん4点)

①  $30 + 8 = 38$

②  $20 + 80 = 100$

⑦  $7 + 7 = 14$

③  $84 - 4 = 80$

④  $100 - 40 = 60$

No. 2

1年の たしかめ ②

名前

□ 点

5 つぎの ことばに あてはまる 形の きごうを 書きましょう。(いろいろな むきで 考えます。)(1つ5点)

1 切手が 15まい ありました。7まい つかいま した。のこりは 何まい でしょうか。

(1もん10点)

しき  $15 - 7 = 8$

答え 8まい

① ころがる。(ア)(イ)

② つみかさねられる。(ア)(ウ)

③ たいらな ところがある。(ア)(ウ)



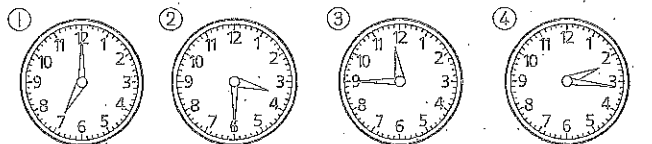
2 公園で 男の子が 5人、女の子が 8人 あそ んでいます。どちらが 何人 多い でしょうか。

しき  $8 - 5 = 3$

答え 女の子が 3人多い

6 何時 何分 でしょうか。

(1もん5点)



(7時)(3時30分)(11時45分)(2時16分)

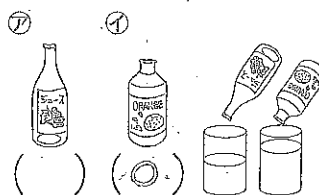
3 赤い おり紙が 9まい、白い おり紙が 7ま い あります。ぜんぶで 何まい でしょうか。

しき  $9 + 7 = 16$

答え 16まい

7 多く 入る 入れものに ○を しましょう。

(5点)




4 えんぴつを 6本 もっていました。おねえさん が 5本 くれました。えんぴつは ぜんぶで 何 本に なった でしょうか。

しき  $6 + 5 = 11$

答え 11本

8 □に あう 数を 書きましょう。

(5点)



ひょうとグラフ ① 名前

川で、石ひろいをしました。  
ひょうを見て、答えましょう。

ひろった石の数

6					
5					
4					
3					
2					
1					
0					
	ただし	ゆうぎ	まさお	えり子	みちよ

- ① まさおさんは、何こひろいましたか。  
(3こ)
- ② 一番多くひろった人はだれですか。  
(みちよ)
- ③ ただしさんは、えり子さんより何こ多くひろいましたか。  
(3こ)
- ④ みんなで何この石をひろいましたか。  
(15こ)

ひょうとグラフ ② 名前



もんだいに答えましょう。

ペットを飼っている人の数

8						
7						
6						
5		○				
4	○	○				
3	○	○				
2	○	○	○			○
1	○	○	○	○	○	○
0						その他

- ① イヌを飼っている人は、何人ですか。  
(6人)
- ② ネコを飼っている人は、サカナを飼っている人より、何人多いですか。  
(3人)
- ③ ペットを飼っている人は、ぜんぶで何人ですか。  
(18人)

ひょうとグラフ ③ 名前



左の絵の動物の数をしらべましょう。

- ① ウサギは何ひきいますか。  
(7ひき)
- ② それぞれの動物の数をひょうに書きましょう。

動物の数

動物	ウサギ	ウマ	ヒツジ	ゾウ	キリン
数	7	4	2	3	1


- ③ 動物の数を、○をつかって右のグラフにかきましょう。( )にグラフの名前を書きましょう。
- ④ ウサギは、ゾウより何ひき多いですか。  
(4ひき)
- ⑤ 動物はぜんぶで何ひきいますか。  
(17ひき)

(動物の数)

○					
○					
○					
○	○				
○	○			○	
○	○	○	○		
○	○	○	○	○	
ウサギ	ウマ	ヒツジ	ゾウ	キリン	

ひょうとグラフ ④ 名前

くだものの数をしらべましょう。



① リンゴは 何こ ありますか。

(6こ)

② それぞれの くだものの 数を ひょうに 書き ましょう。

くだものの 数

くだもの	ミカン	バナナ	イチゴ	リンゴ	メロン
数	4	3	8	6	4

③ くだものの 数を ○を つかって 下の グラフに かきましょ。また、( )に グラフの 名前を 書きましょ。

(くだもの数)

		○		
		○		
		○	○	
		○	○	
○		○	○	○
○	○	○	○	○
○	○	○	○	○
○	○	○	○	○
○	○	○	○	○
ミカン	バナナ	イチゴ	リンゴ	メロン



④ イチゴは ミカンより 何こ 多いですか。

(4こ)

⑤ くだものは ぜんぶで 何こ ありますか。

(25こ)

ひょうとグラフ ⑤ 名前

もんだいに 答えましょ。

(7)

すきな あそび

7						
6	○					
5	○	○				
4	○	○				
3	○	○	○			
2	○	○	○	○		
1	○	○	○	○	○	
0	ドッジボール	おにごっこ	なわとび	てっぼう	ブランコ	そのほか

① すきな 人が 一番 多い あそびは 何ですか。 (ドッジボール)

② おにごっこの すきな 人は 何人ですか。 (5人)

③ ドッジボールが すきな 人は、ブランコが すきな 人より 何人 多いですか。 (3人)

ひょうとグラフ ⑥ 名前

もんだいに 答えましょ。

できた やさいの 数

やさい	キュウリ	ナス	トマト	サツマイモ	トウモロコシ
数	4	5	9	8	3

① 上の ひょうを グラフに ○を つかって かきましょ。

		○		
		○	○	
		○	○	
		○	○	
	○	○	○	
○	○	○	○	○
○	○	○	○	○
○	○	○	○	○
○	○	○	○	○
○	○	○	○	○
キュウリ	ナス	トマト	サツマイモ	トウモロコシ

② 一番 多く できた やさい は 何ですか。 (トマト)

③ ナスと キュウリは どちら が 何こ 多く できましたか。 (ナスが1こ多くできた)

④ やさいは ぜんぶで 何こ できましたか。 (29こ)

たし算(ふくしゅう1)

たし算をしましょう。



- ①  $3+4=7$     ⑬  $6+5=11$     ⑮  $3+2=5$
- ②  $3+0=3$     ⑭  $7+4=11$     ⑯  $1+8=9$
- ③  $5+4=9$     ⑰  $1+4=5$     ⑲  $1+1=2$
- ④  $4+0=4$     ⑱  $4+3=7$     ⑳  $5+0=5$
- ⑤  $9+2=11$     ㉑  $8+8=16$     ㉒  $5+8=13$
- ⑥  $0+6=6$     ㉓  $0+4=4$     ㉔  $0+0=0$
- ⑦  $2+9=11$     ㉕  $8+5=13$     ㉖  $2+2=4$
- ⑧  $1+3=4$     ㉗  $6+2=8$     ㉘  $4+9=13$
- ⑨  $5+1=6$     ㉙  $7+7=14$     ㉚  $1+9=10$
- ⑩  $0+8=8$     ㉛  $0+3=3$     ㉜  $3+6=9$
- ⑪  $4+1=5$     ㉝  $2+4=6$     ㉞  $2+1=3$
- ⑫  $6+9=15$     ㉟  $5+5=10$     ㊱  $5+9=14$

たし算(ふくしゅう2)

たし算をしましょう。

- ①  $1+0=1$     ⑬  $3+7=10$     ⑮  $9+0=9$
- ②  $8+6=14$     ⑭  $6+6=12$     ⑯  $1+2=3$
- ③  $8+2=10$     ⑰  $5+7=12$     ⑲  $4+2=6$
- ④  $3+1=4$     ⑱  $2+7=9$     ⑳  $8+1=9$
- ⑤  $8+0=8$     ㉑  $0+7=7$     ㉒  $0+2=2$
- ⑥  $9+6=15$     ㉓  $6+1=7$     ㉔  $6+8=14$
- ⑦  $4+5=9$     ㉕  $3+3=6$     ㉖  $7+6=13$
- ⑧  $5+6=11$     ㉗  $1+6=7$     ㉘  $9+5=14$
- ⑨  $8+7=15$     ㉙  $2+0=2$     ㉚  $7+5=12$
- ⑩  $5+3=8$     ㉛  $1+5=6$     ㉜  $5+2=7$
- ⑪  $9+4=13$     ㉝  $6+7=13$     ㉞  $7+3=10$
- ⑫  $2+6=8$     ㉟  $3+9=12$     ㊱  $8+3=11$

2年 答え①

No. 8

時計をよもう。

つぎの時鐘をよみましょう。

① (3時30分) (3時半)

② (7時54分)

読むむすびましょう。

③ 6:15

④ 1:40

⑤ 10:23

No. 8

形づくり

① 紙をつないで、同じ形を右にかきましょう。

② 右の形の△を1まいだけうごかして③、④の形にしました。どの△をうごかしましたか。⑤から④で答えましょう。

③ (ア)

④ (イ)

⑤ (ウ)

No. 9

どんな計算になるのか①

たすのか ひくのか 書いて もんだいに 答えましょう。

① ゆいさんは 貝がらを 5まい ひろいました。葉は 3まい ひろいました。あわせて 貝まい ひろいましたか。

(18)  $5+3=8$

答え( 8まい )

② あめが 16こ あります。6こ 食べると、何こ のこりますか。

(10)  $16-6=10$

答え( 10こ )

③ 子どもが 12人 います。男の子は 7人です。女の子は 何人ですか。

(5)  $12-7=5$

答え( 5人 )

No. 9

どんな計算になるのか②

たすのか ひくのか 書いて もんだいに 答えましょう。

① ほとが 3わ います。5わ 来ました。ぜんぶで 何わ になりましたか。

(18)  $8+5=13$

答え( 13わ )

② 背の 色紙が 70まいと、赤の 色紙が 40まい あります。背の 色紙は 赤の 色紙より 何まい 多いですか。

(18)  $70-40=30$

答え( 30まい )


③ 9人が ひとりずつ、白てん車に のって います。白てん車は、あと 3台 あります。白てん車は、ぜんぶで 何台 ありますか。

(12)  $9+3=12$

答え( 12台 )

たし算のひっ算	2年 組 番
	名前

① しきを <sup>か</sup>書きましょう。



しき  $3+4=7$

② □に <sup>か</sup>数を <sup>か</sup>書きましょう。

- ① 10が9こと、1が7こと  $97$  です。
- ② 10が6こと  $60$  です。
- ③ 83は、10が  $8$  こと  
1が  $3$  ことです。
- ④ 90は 10が  $9$  ことです。

③ <sup>けい</sup>計算を <sup>し</sup>しましょう。

- ①  $9+5=14$
- ②  $6+7=13$
- ③  $30+60=90$
- ④  $43+5=48$
- ④ 赤い <sup>いろ</sup>色紙が 8まい あります。  
青い <sup>いろ</sup>色紙が 9まい あります。  
色紙は、ぜんぶで <sup>いく</sup>何まい  
ありますか。

しき  $8+9=17$

答え  $17$  まい

④つぎの もんだいは、まだ <sup>まな</sup>学しゅうして  
いません。ちようせんして みましよう。

※ ⑤ <sup>けい</sup>計算を <sup>し</sup>しましょう。

- ①  $23+12=35$
- ②  $20+36=56$
- ③  $32+8=40$
- ④  $26+37=63$

ひき算のひっ算	2年 組 番
	名前

① <sup>り</sup>すとうさぎが います。  
どちらが <sup>なん</sup>何ひき  
<sup>おほ</sup>多いで しょうか。



しき  $8-3=5$

答え  $5$  ひき  
多い。

② □に <sup>か</sup>数を <sup>か</sup>書きましょう。

- ① 29は 20と  $9$  を  
あわせた 数です。
- ② 18は  $10$  と 8を  
あわせた 数です。
- ③ 34は、10が  $3$  こと  
1が 4ことです。
- ④ 45より 3 小さい 数は  
 $42$  です。

③ <sup>けい</sup>計算を <sup>し</sup>しましょう。

- ①  $7-3=4$
- ②  $14-8=6$
- ③  $90-50=40$
- ④  $78-3=75$

④ 12人で <sup>い</sup>すとりゲームを  
しています。いすは 5つ  
あります。  
すわれない 人は <sup>なん</sup>何人ですか。

しき  $12-5=7$

答え  $7$  人

④つぎの もんだいは、まだ <sup>まな</sup>学しゅうして  
いません。ちようせんして みましよう。

※ ⑤ <sup>けい</sup>計算を <sup>し</sup>しましょう。

- ①  $54-21=33$
- ②  $36-16=20$
- ③  $37-19=18$
- ④  $23-9=14$




# なわとび がんばりカード

ねん 年      くみ 組      なまえ 名前


日づけ									
まえ 前とび									
うし 後ろとび									
こうさとび									
こうさとび (うし 後ろ)									
あやとび									
あやとび (うし 後ろ)									
にじゅう 二重とび									

日づけをかいて、とりくんだ  
わざに〇をつけましょう。  
あいているところに、すきな  
わざをかいて、とりくんでみ  
てもよいです。





# どくしよカード



ねん くみ なまえ

	だいいめい	さくしや	オススメど
/			☆☆☆☆☆
/			☆☆☆☆☆
/			☆☆☆☆☆
/			☆☆☆☆☆
/			☆☆☆☆☆
/			☆☆☆☆☆
/			☆☆☆☆☆
/			☆☆☆☆☆

