



いじめは  
ぜったい

NO!

希望をともにつくりだす  
横浜市立豊田小学校



# 2年音楽

## 夕やけ こやけ

♩=84(60)



1 ゆうやけ こやけでひがくれて	やまのおてらの	かねがなる
2 こどもが かえったあとからは	まるい おおきな	おつきさま




おーてて つないで みなかえろ	からすと いっしょにかえりましょ
ことりが ゆめをみるころは	そらには きらきら さんのほし

一、夕やけ こやけで  
 日が くれて  
 山の おてらの  
 かねが なる  
 おてて つないで  
 みな かえろ  
 からすと いっしょに  
 かえりましょ

二、子どもが かえった  
 あとからは  
 まるい 大きな  
 お月さま  
 小どりが ゆめを  
 見るころは  
 空には きらきら  
 さんのほし

- 1番は、夕ぐれのようなすきな思いうかべながら歌おう。
- 2番の歌しがあるわしているのは、どんなようすかな。どんなかんじて歌ったらよいかな。

夕やけの空は とても うつくしいですね。  
 どんな ところで 見たか おぼえていますか。  
 その とき、どんな 気持ちになりましたか。  
 しぜんの ようすや うつくしい けしきを あらわした 歌が、  
 むかしから たくさん 作られ、歌いつがれて きました。  
 あなたは どれと 歌いたいですか。  
 いろいろな 人と いっしょに、いっぱい 歌えたら うれしいですね。



ようす

よすを 練習してみましょ。

よすを、のように、7+5のノリのよすを

1番

夕やけこやけ

田舎の山

かねがなる

おててつ

みなかえ

からすと

いっしょに

かえりま

そらには

きらきら

さんのほ

A photograph of a classroom music activity. In the center, a young boy in a white t-shirt and blue shorts stands holding two red maracas. To his left, a man in a tan shirt is also holding a red maraca. In the foreground on the left, a man in a dark sweater is partially visible. On the right, a young boy in a green shirt is holding a yellow and white drum. The background shows a wooden table with various items on it. The floor is light-colored with some faint red markings.

# 2年音楽



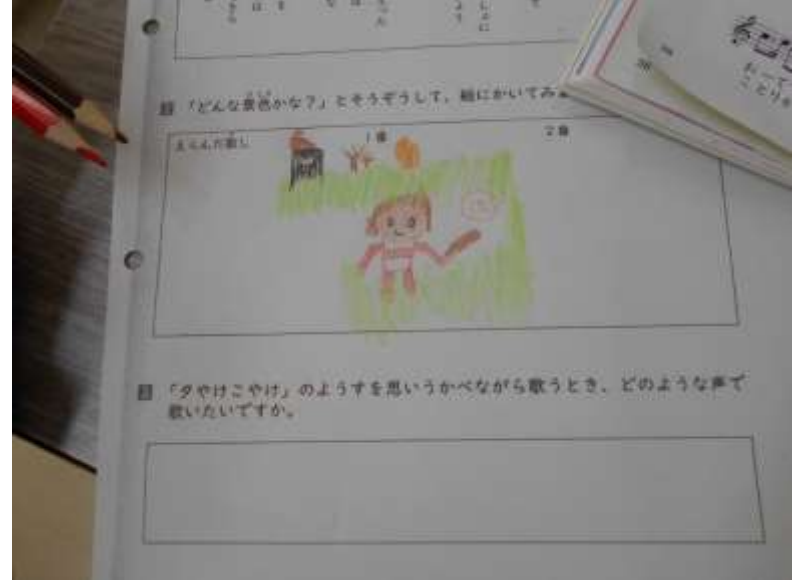
# 2年音楽



# 2年音楽



# 2年音楽





# 1年算数



# 1年算数





# 1年算数





6年

2020 第74回

# 読書週間

10月27日[火]～11月9日[月] 14日間

10月27日は文字・活字文化の日

主催 ← 公益社団法人 読書推進運動協議会

主要協賛 7団体 ←

- 一般社団法人 日本書籍出版協会
- 一般社団法人 日本出版印刷会
- 一般社団法人 製本者協会
- 一般社団法人 日本出版界交流会
- 日本書店商業組合連合会
- 公益社団法人 日本図書館協会
- 公益社団法人 全国学校図書館協議会
- 資源・文部科学省



ラストページまで  
駆け抜けて

図書館前掲示物



A photograph showing two young girls from behind, looking at a red book display. The girl on the left has long black hair and is wearing a white shirt. The girl on the right has long black hair tied in a ponytail with a purple bow and is wearing a red shirt. The display is a red book rack with a yellow sign on top that says "Furubon" and a yellow sign on the front that says "スト". There are other signs and books visible in the background.

# 休み時間 図書館

# 休み時間 図書館



# 休み時間 図書館





# 休み時間 図書館



休み時間  
図書館





# 休み時間 図書館



休み時間

図書館



# 休み時間 図書館





休み時間

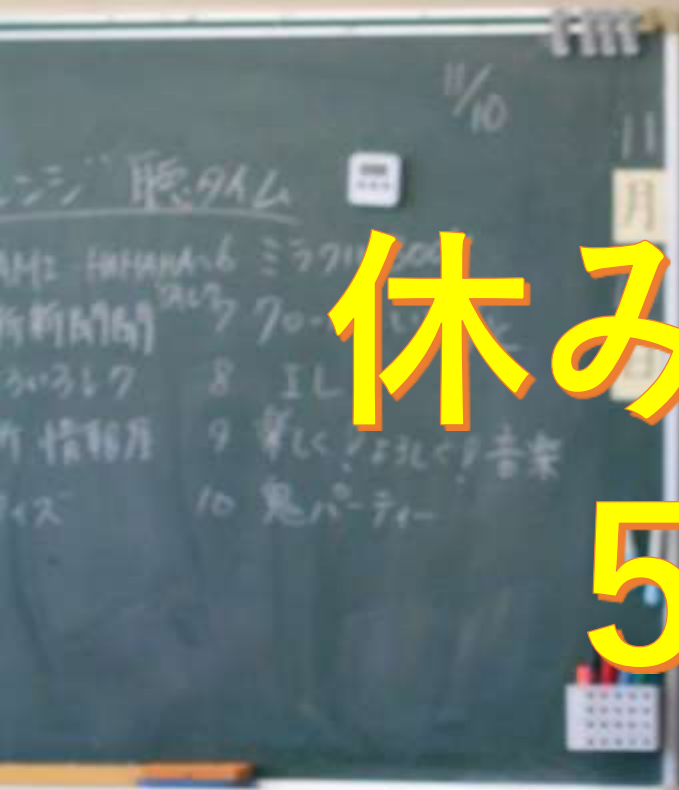


休み時間



休み時間

# 休み時間 5年




# 休み時間 4年





# 休み時間 4年





休み時間  
4年

# 休み時間 4年



A close-up photograph of a person's hands being washed with white soap foam. The person is wearing a white t-shirt. In the background, other people are visible, including one in a blue uniform and another in a pink shirt. The floor is light-colored with a green stripe.

休み時間  
4年



休み時間  
4年

音楽の持ち物

軍手や  
ハンカチ (2枚)

小学図書館ニュース

漢字辞典を使いこなそう  
漢字辞典は漢字のじょうほうがまんさいです

この漢字について知りたい

過

部首から調べる

過

画数から調べる

読みから調べる

このドアは  
ひなんのと  
つかいませ  
さむい

休み時間  
4年

音楽の持ち物

軍手や

ハンカチ (2枚)

少年学習新聞 小学図書館ニュース

漢字辞典を使いこなそう

漢字辞典は漢字のじょうほうがまんさいです

この漢字について知りたい

過

過

辞書から調べる

休み時間  
4年



# 音楽室へ 4年

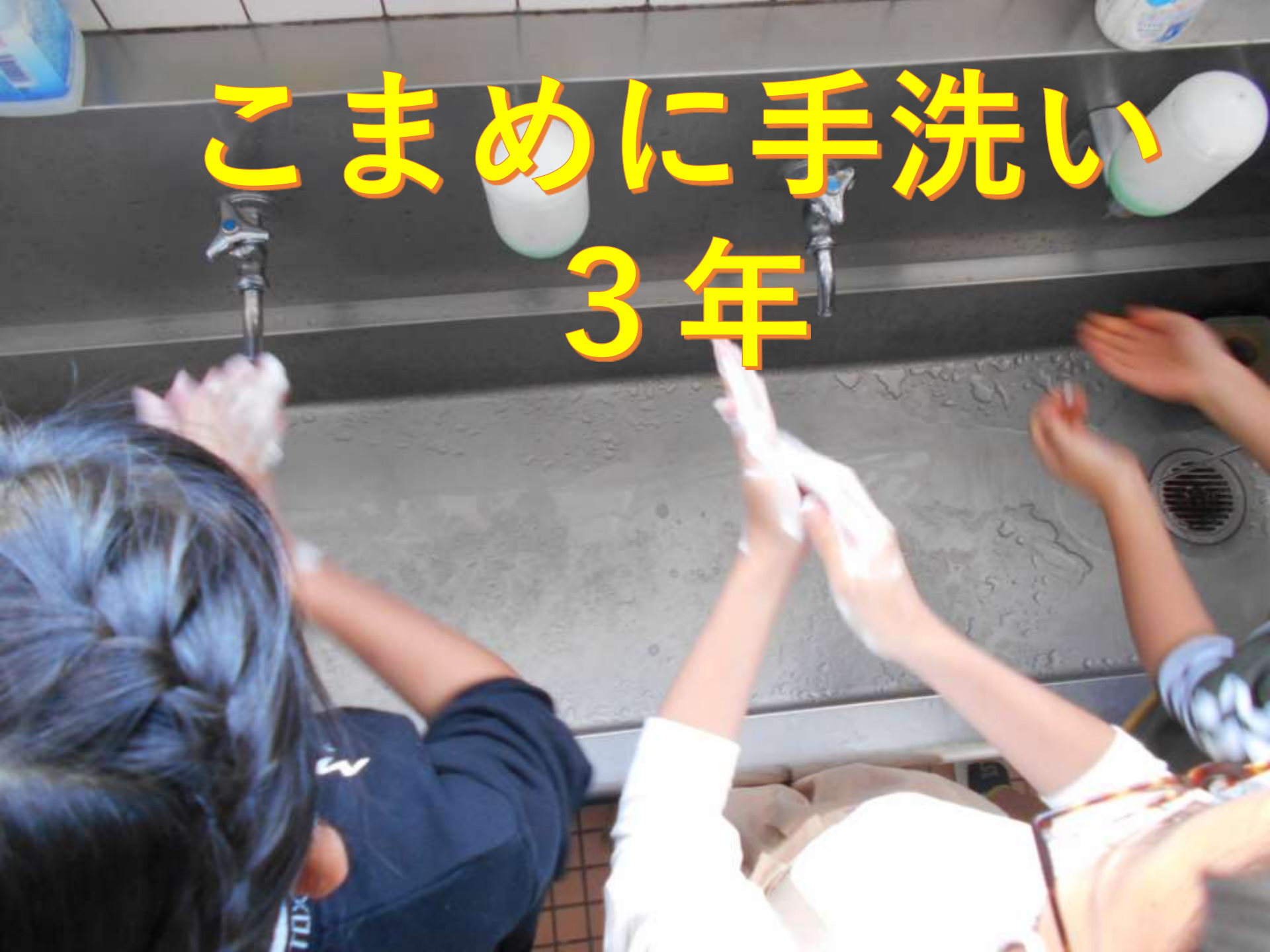




音楽室へ  
4年




ごまめに手洗い  
3年





# こまめに手洗い 3年



A photograph showing four young women from behind, standing in a line at a school sink. They are all wearing face masks and are in the process of washing their hands. The sink is stainless steel and has several faucets. There are soap dispensers on the counter. The wall is tiled, and there are windows above the sink. The floor is made of brown tiles. The text 'ごまめに手洗い' and '3年' is overlaid on the image in a large, yellow, stylized font.

ごまめに手洗い  
3年

# 3年 教室



# 6年英語

How are you today?

What's the date today?

Thank you for lesson.

See you next time.

Weather



# 6年英語



# 6年英語

Hello everyone.

① Where do sea turtles live?

② Sea turtles live in the sea.

Sea turtles can swim.

③ What do sea turtles eat?

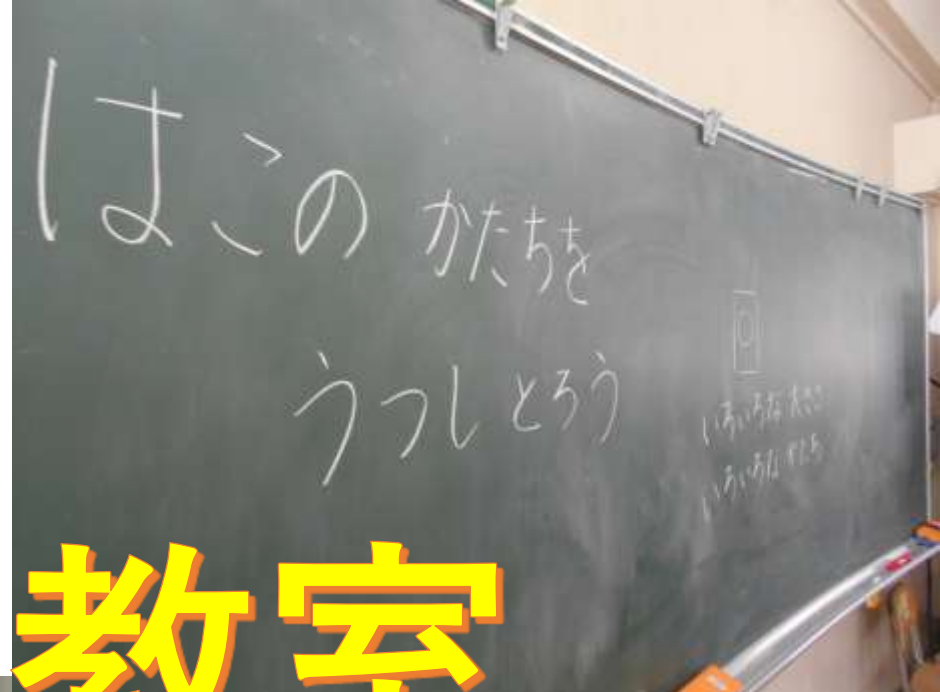
④ Sea turtles eat jellyfish.

Jellyfish eat fish.

We all live on the Earth.

Thank you for listening.





# 1年教室





# 1年教室



1年  
教室

やさしさ・おもしろい

# 5年教室



# 5年 教室



# 5年教室

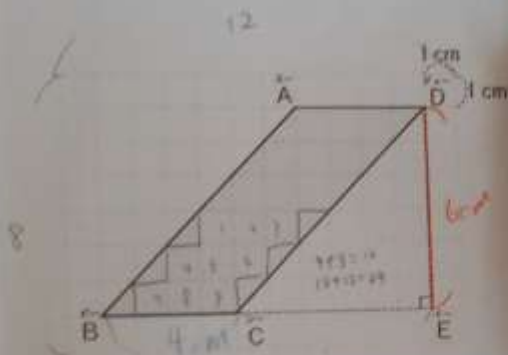
11月

①(式)  $7 \times 9 = 63$   
 $7 \times 8 = 56$   
 $A = 63 \text{ cm}^2$   
 $A = 56 \text{ cm}^2$

②(式)  $7 \times 5 = 35$   
 $A = 35 \text{ cm}^2$

この問題は、平行四辺形の公式が分かっていないから、このようにして問題を解いていくことができます。また、このようにして問題を解いていくことができます。また、このようにして問題を解いていくことができます。

問題 下の平行四辺形の面積を求めよ。



(2)  $4 \times 6 = 24$

問題 高さは9 cmのとき、面積を求めよ。



# 1年図書館



# 1年図書館





1年教室





# 1年教室





# 2年 教室



# 2年教室



# 2年教室



おし葉

①  
えらぶ

今日の  
活しつ

作品づくり  
スタンドグラス

ラミネート  
する葉



2年教室

図画工作

2年教室





2年教室



# 1年図書館



# 1年図書館



# 豊田小図書館

希望をともにつくりだす

横浜市立豊田小学校

# 豊田小図書館



希望をともにつくりだす  
横浜市立豊田小学校