

# 6年メツセージ

体育大会 明日できそつです!

最後の練習、気合、をいれて  
やりましょう!

持ち物

(大丈夫ですか?)

卒アル

12:40

6-2



6年生

横浜市体育大会に向けて



6年生

横浜市体育大会に向けて







6年生

横浜市体育大会に向けて



6年生

横浜市体育大会に向けて



6年生

横浜市体育大会に向けて





6年生

横浜市体育大会に向けて





6年生

横浜市体育大会に向けて





6年生

横浜市体育大会に向けて





# 6年生 横浜市体育大会に向けて





# 6年生

# 横浜市体育大会に向けて








6年生

横浜市体育大会に向けて



A photograph of a school courtyard. In the foreground, there is a grey metal fence on the left and a row of grey lockers on the right. In the middle ground, a group of students in white uniforms is gathered on a paved area. Behind them are several green trees and a large white building with multiple windows. The sky is blue with some light clouds.

**6年生**  
**横浜市体育大会に向けて**





6年生

横浜市体育大会に向けて





# 2年算数



木のみを27もっています、  
今日またひらてきたので  
85こになりました。



# 2年算数



# 4年算数





# 4年算数

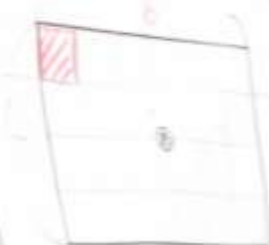


長方形や正方形の面積を求めましょう。


計算で面積を求めよう。

公式 横×たて  
たて×横  
辺×辺


長方形



$6 \times 4 = 24$



$5 \times 5 = 25$

P17 ☆   
面積  $3 \times 7 = 21$   
21

P18 △ ① △ ①  
② ②

# 4年算数





# 4年国語



十月二十三日

こんがいつね

読んで思ったこと。ギシもん  
に感じたこと。ノートに  
まよめまよめ。

# 4年 国語





# 4年 国語





# 4年国語




# 4年 国語






図形の  
面積を  
求めよう。  
面積を求め  
よう。  
面積を求め  
よう。

図形



面積



面積

P17



$3 \times 7 = 21$

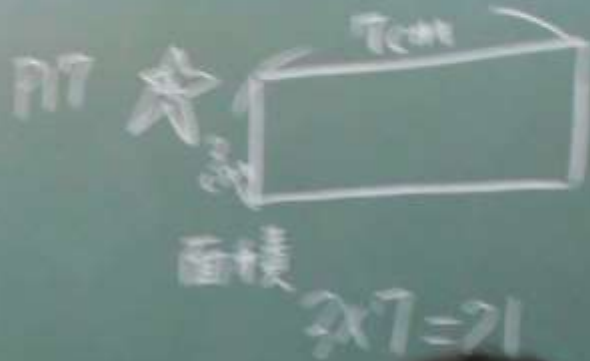
$1.5 \times 9 =$

小太郎・大太郎  
↓

# 4年算数

RUNNING TIME  
AGAINST

# 4年 算数



7x7  
7x7  
7x7

小数  
↓

$$7 \times 7 = 49$$



# 5年 算数



# 5年算数







5

年算数



# 5年算数



# 5年算数

A photograph of a classroom during a lesson. A teacher in a blue and yellow shirt stands at the front, pointing at a green chalkboard. The board contains mathematical diagrams and text, including the number '20' and a circular diagram. Students are seated at wooden desks, facing the front. The room is brightly lit with overhead fluorescent lights. Various educational posters and notices are visible on the walls. A large, bold, yellow text overlay with a black outline reads '5年算数' (5th Grade Arithmetic) across the center of the image.

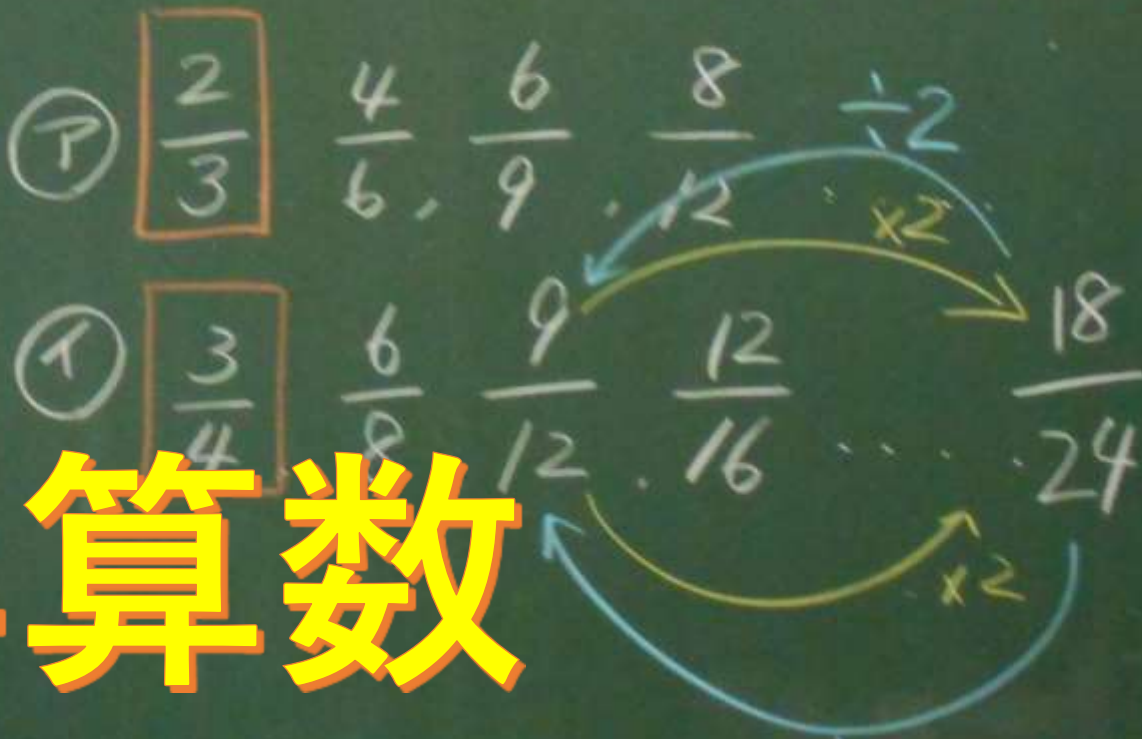
10/23

問題

0.75

$\frac{18}{24}$  と大きさの等しい分数は

①、② のどちらのなかまに入りますか。



5年算数




# 5年算数



18/23  
0.75  
18/24  
この大きさの等しい分数は  
⑦、④ のどちらの分数かに入りますか

18/24  
18/24  
どちらの分数か、簡単に分ける方法を考えよう




1	1
2	2
3	3
4	4
5	5
6	6

「校長先生！見つけたよ」





A brown lizard is positioned on a white tiled floor. To the left, there is a blue cloth. To the right, there is a vertical brown stain on the tiles. The lizard is facing right.

「校長先生！

見つけたよ」

「お友達がつくったんだよ」





A person wearing a grey hoodie and a pink bag is holding a large, colorful origami gift box. The box is made of yellow, pink, and white paper, folded into a complex geometric shape. The person is holding it with both hands, and the background shows an outdoor setting with a paved area and a building entrance.

「お友達がつくったんだよ」

未来の落とし穴



# マンガ 「未来の落とし穴」







なんでもまいじめに取り組む  
ことか、<sup>お</sup>未来に待ちうける  
<sup>お</sup>落し穴<sup>あなた</sup>をし、せせせと、  
埋めぬることになるんだよ

# マンガ「未来の落とし穴」

な... 見... 矢野... 8