

6年黒板メッセージ

6/25(火)

今日は5・6年生合同
水泳ですね。天気がもっと
よくなることをいのる
ばかりです。委員長の通り、
ルールを守って楽しい学習に
しょう!!



5年6年水泳学習 「はじめてのプール」



25

小数のわり算を考えよう


小数での計算も整数において計算するといふ。

問題

リボンを2.5m買ったらい金は300円でした。
このリボン1mのねだんは何円ですか。

P.51△
 $300 \div 2.5 =$

$300 \div 3 = 100$



1本の直線に垂直な2本の直線は平行であるという。

1 下の図で、平行になっている直線は、どれとどれですか。

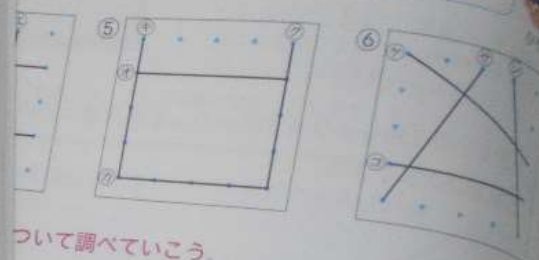


① 辺ABと垂直な辺はどれですか。

② 辺ABと平行な辺はどれですか。

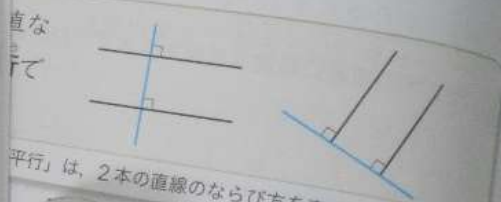
⑤のカードと⑥のカードをくらべて、直線のちがいを見つけましょう。

どのカードにも、垂直な直線はあるけれど...



ついて調べていこう。

②の直線に垂直な直線はどれですか。



「平行」は、2本の直線のならび方を表すことばです。

べましょう。

左の図のようなときも、①と②の直線は平行であるといえます。

1 右の... いる直線... ですか

2 右の四... 辺ABと... また、...

長方形... 長方形

2 下の、... 直線が交...

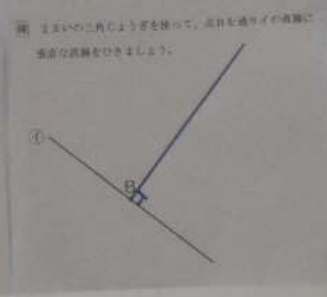
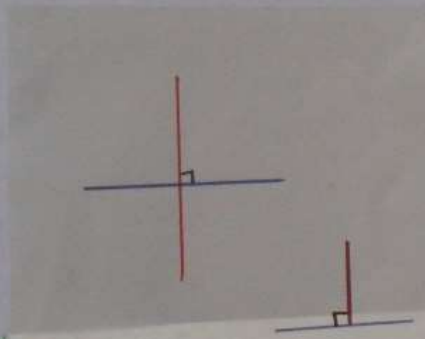
1 自分でもな... 横の直線と交...

まとめ 平行な直線

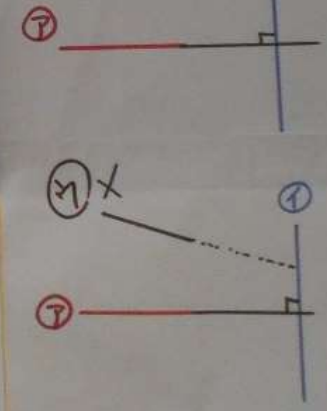
垂直

(例) 直線①と直線②は垂直である。

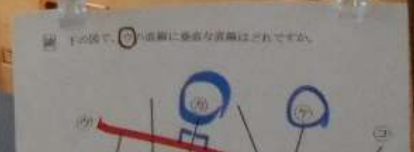
2本の直線が交わってできる角が直角のとき、この2本の直線は、**垂直**であるという。



のばして直角に交わる①も



算数教室



Handwritten notes on whiteboards, including mathematical problems and calculations such as $72 \div 3 = 24$ and $3 \overline{) 74}$.

- ① 10のまとまり
- ② わりざねの10のまとまりを1が10に
よびかかると合わせる
- ③ 1がいくつかのわり算
をする。



算数教室

4年教室

月	グラウンド	体育館
庫	砂場	うたなまき
て		ごんや
つ		
ぼう		

※日の中に「グラウンドにあるもの」を書いてね！

リーチ!

ゆずり合ふ心

乱合える心

助け合ふ心

協力する心

777

責任をもつ心

やさしく心

上ごう
しゅくはく
たがひ
習

自分が行動する心

社会科
見学

楽しむ心

10才を
いっしょ
に

チャレンジする心


区水泳
大会

学習

4年黑板



4年教室



議題

おはしを正しくもとう

提案理由

もう一度フナーを確
してほしいから

話し合うこと

- ①一、三年生は大豆
- 四五、六年生は小豆

分までとれだけとれるか体験

体験的に
(甲休み)

② ビデオ

ビデオの中に入れる

③ ①、②以外

おはしりの使い方をクイズ

なぜうまくつかめなかったのか

おはしの正しい持ち方がある紙を配る

全クラスに配る

その場で持ち方を
おはしを
おはし

25日(水)

3年廊下掲示物

トライ

～自分で考え、やってみよう～

3年生の行事

4/12 1年生との交流

5/29 稲刈り文化体験

6/6 1泊2日合宿

10/26 運動会

1/15 学区音楽会

11月 サミット見学

1/23 クラブ見学

1/24 昔の道具見学

1月25日(火)

気になる記事

伝えたいことの中に

3年教室

Handwritten notes on a paper strip, including a red box and the number 50x3.

3年教室

伝えたいことが一つにまとまっている!

「こころのたねをまきたねっち」

① きっかけ理由 3組 1番 名前(平木りえ) 50文字

私は本を読むのが好きです。木曜日にある読み聞かせをいつも楽しみにしています。読み聞かせしえんたいの「たねっち」はどうしてたねのマスコットなのかふしぎに思って、しらべました。

② 調べ方

しえんたいがいじばんに書いてあることをじっくり読みました。そして、しえんたいのメンバーの田野井さんにたねっちができた理由を聞きました。
伝えたいこと

③ 調べてわかったこと



たねっちは読み聞かせしえんたいのマスコットです。名前のおりたねをイメージしてつくられました。読み聞かせしえんたいが本を読み、たくさんの本と出会うことで「心のたねをまきたい」というねがいがこもっているそうです。

そのために、読み聞かせしえんたいはべつこのよびかたで「たねまきたい」ともよばれています。しえんたいの思いがもっと私たち子どもにつたわるように「たねっち」というマスコットを作ったそうです。
伝えたいこと

この人たちが、わたしたちのこころのたねをまくために本を読んでも知り、うれしくなりました。このことを、全校のみんなにも知ってほしいと思います。

伝えたい

算数教室



$$\begin{array}{r} \overset{10}{\cancel{8}}\overset{10}{\cancel{2}}1 \\ - 29 \\ \hline 892 \end{array}$$

$$\begin{array}{r} \overset{50}{\cancel{5}}\overset{10}{\cancel{0}}7 \\ - 349 \\ \hline 258 \end{array}$$

$$\begin{array}{r} \overset{8}{\cancel{9}}\overset{10}{\cancel{0}}5 \\ - 142 \\ \hline 763 \end{array}$$

$$\begin{array}{r} \overset{30}{\cancel{9}}\overset{10}{\cancel{0}}3 \\ - 279 \\ \hline 124 \end{array}$$

$$\begin{array}{r} \triangle 98 \\ + 126 \\ \hline 224 \end{array}$$

126 = 224
4円

$$\begin{array}{r} \triangle \overset{10}{\cancel{9}}\overset{10}{\cancel{0}}0 \\ - 730 \\ \hline 270 \end{array}$$

730 = 270
90円

$$\begin{array}{r} \triangle \overset{10}{\cancel{4}}\overset{10}{\cancel{3}}5 \\ + 283 \\ \hline 718 \end{array}$$

(式)
 $435 + 283 = 718$
(答)
718円

$$\begin{array}{r} \triangle \overset{30}{\cancel{3}}\overset{20}{\cancel{2}}5 \\ - 2 \\ \hline \end{array}$$

(式)
 $435 - 2 = 433$

ささんのほ
うが148円多し!

△

算数教室

保健室前



すりきず

ころんだり
せに
何かにすったいして、
か
皮がむけてしまったけが。

やけど

あついものにふれてしまっ
ておこるけが。ひどいと
あか
赤くなってヒリヒリしたり、
みず
水ぶくれができたいする。

はなぢ

はな
鼻をぶつけたり、
ひっかいたりして
ち
血がでてくるけが。
あつくてのほせて
おこることもある。

だぼく

かたいものに
ぶつけたり、
はさんだりして
おこるけが。

きりきず

はさみやカッター
などで、皮ふを
き
切ってしまったけが。

つきゆび

ゆび
ボールなどが指に
あたっておこるけが。
うごかすと痛い。青く
なったり、はれたいする。

ねんざ

てくび あしくび
手首や足首などの
かんせつをひねって
いためてしまったけが。

けがをしたとき
応急手当を

使ったことや痛み
があるときは話してね



図書館





図書館



しえんたい

けいじばん

支援隊ロード



支援隊ロード



グリーン支援隊

水 やってイ



グリーン支援隊
水やっぴ







おはようございます

今日の朝は

朝ドリルです

朝トトリです。

六年生に日光
の思い出を聞
いてみましょう。

家庭科の
さいほうセット
もってきたかな？





5年
廊下移動




廊下移動

5年 廊下移動



子浦宿泊体験振り返りカード



5年
廊下掲示物



5年



5年

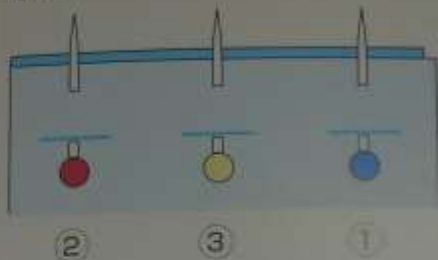
針と糸に慣れよう

上-11

まち針のとめ方

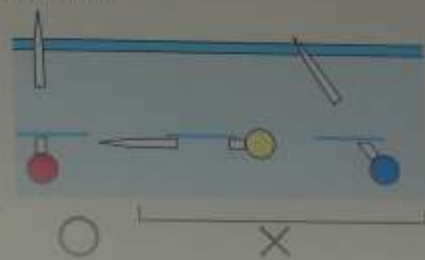
●とめる順序

しるしに合わせて、布がずれないように両はしからとめていく。



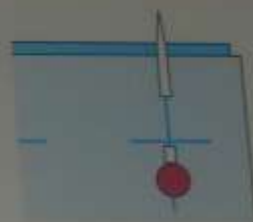
●とめる方向

直角にとめると布がずれない。よこやななめにとめると、布がずれたり、ぬうときに手にささったり、じゃまになることもある。



●角のとめ方

しるしとしるしの交わっている点を含ませてとめる



いろいろな小物

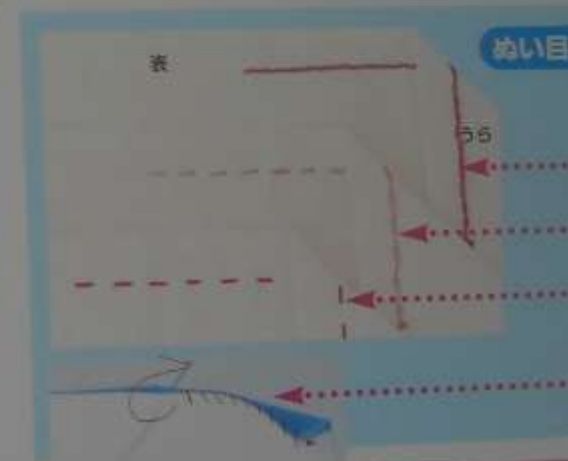


5年家庭科

布はしのちがい



ぬい目の



使えるようになりませんか。



5 年家庭科

5年家庭科

裁縫支援隊のみなさん






音楽室



組み立てに気を付けて、字形を

整えて書こう。

「前進」



語部

飢餓のない世界を目指して

5年

給食があるから学校に通える

廊下掲示物



WFP

国連WFP

0120-155

たいせつ
大切にしよう

ひと おも ころ
人を思う心



じんけんずん
人権尊

図書館

もじがえ あそび

したの いくつかの もじをつかって
いったい いくつの どうぶつが
つくれるかな？

く し か ま う

片品・日光修学旅行から

片品・日光修学旅行 「プラス1」

～96人でできるきずなを深めて
最高の思い出にしよう～



片品・日光修学旅行列車

車内放送

第一日目

(豊田小学校校長)



おはようございます
お元気ですかあ？
昨日は、しっかりと眠れたでしょうか。

いよいよ楽しみな
二泊三日の
片品・日光修学旅行がスタートしました。

**E257系 5両編成の
私たちの特別列車は、**

**戸塚駅を出発し、
横浜駅で途中停車した後、**

**これから
群馬県沼田駅に向かっていきます。**

沼田市は、
日本百名山に挙げられる
赤城山や武尊山などの山々に囲まれた
緑豊かなまち。

真田氏ゆかりの沼田城の城下町として
歴史の息吹が
感じられるまちです。

そこから、

バスで向かう
片品村で

二日間を過ごすこととなりますね。

群馬県北端部に位置する
片品村は、
高山植物と湿原で
全国的に名高い
尾瀬国立公園をはじめ、

武尊山などの日本の名山が、
織りなす
とても美しい
自然に恵まれたところです。

そこには、
「片品時間」と
呼んでもいいぐらいの

とても

ゆったりとした時間が
流れていることでしょう。

そして、

最終日には

世界遺産に登録された日光社寺巡りですね。

この修学旅行で

みなさん！

最高の思い出を築きましょう！

二度と
やってこない小学生時代

一生、

忘れることのできない

輝かしい

修学旅行にしていきましょう！

「5分前行動」

「先生、5分前です。
『お弁当の時間』にして
いいですか。」

(笑) 「うまい！座布団一枚」



車中レク「私の先生」



車中レク「私の先生」

横浜


ありがとうございます。
ごいす。

3月25日
先生





車中レク



群馬県沼田駅行き



SERIES E257

希望をともにつくりだす
横浜市立豊田小学校

祝 創立125周年記念



横浜市立豊田小学校



豊田小学校
 わが青春の夢
 思いを宿す 柏屋
 花散る岸に 行
 自然の声を
 ああ 尚理
 千歳か
 無か
 明日を彩る
 ああ 希望
 校は明日
 活
 父
 芳

希望の未来をつくる

横浜市立豊田小学校