

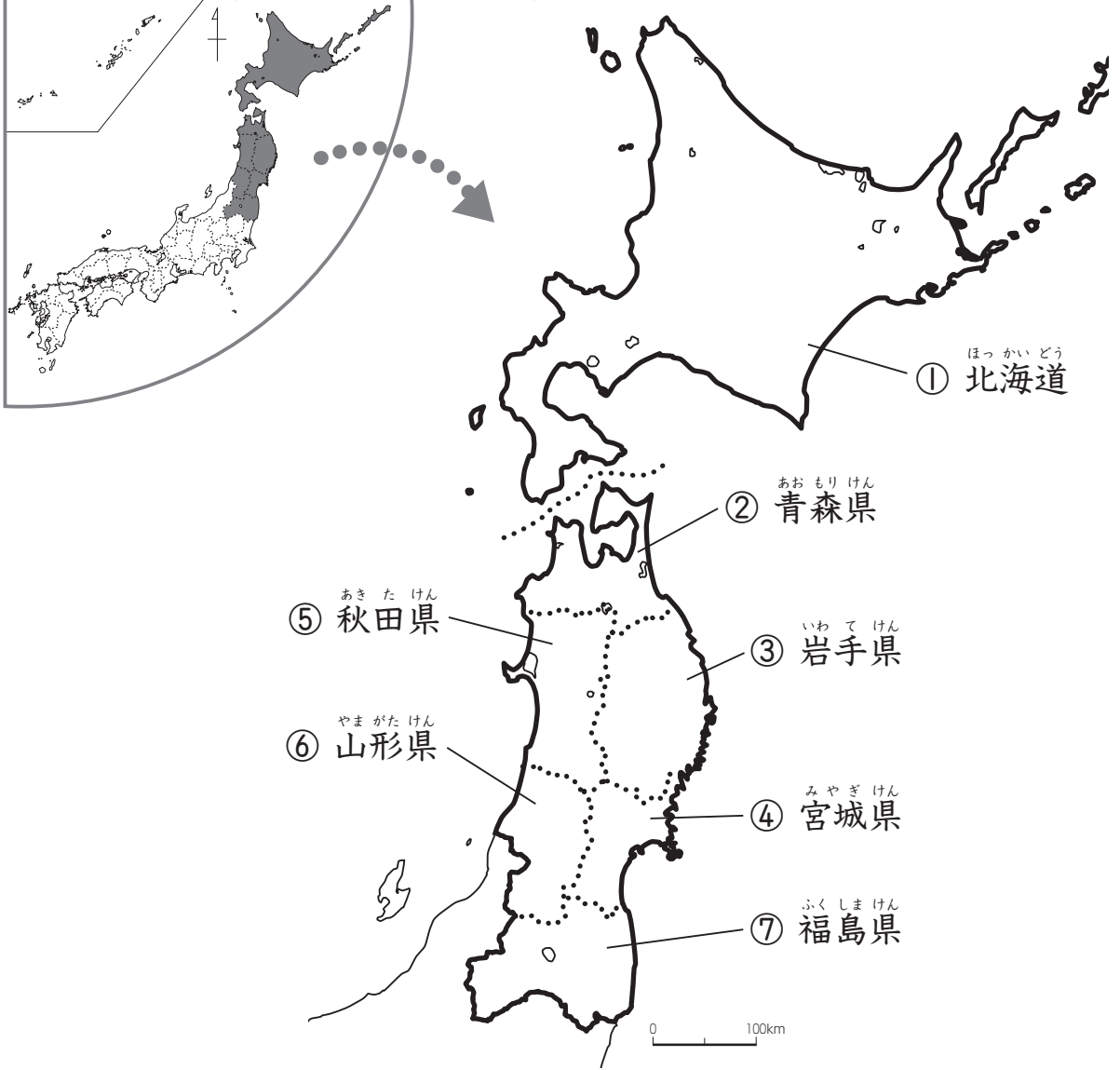
1

書けるかな?

ほっ かい どう どう ほく
北海道・東北地方

名前

Blank box for name



①～⑦の県や道の位置を地図でたしかめて、漢字をなぞりましょう。また、右に読み方も書きましょう。

⑦	⑥	⑤	④	③	②	①
福	山	秋	宮	岩	青	北
島	形	田	城	手	森	海
県	県	県	県	県	県	道

練習しましょう。

読み方も書きましょう。

1

書けるかな?

北海道・東北地方

名前

Blank box for name



①～⑦の県や道の位置を地図でたしかめて、漢字をなぞりましょう。また、右に読み方も書きましょう。

⑦	⑥	⑤	④	③	②	①
福	山	秋	宮	岩	青	北
島	形	田	城	手	森	海
県	県	県	県	県	県	道
ふくしまけん	やまがたけん	あきたけん	みやぎけん	いわてけん	あおもりけん	ほっかいどう

練習しましょう。

読み方も書きましょう。

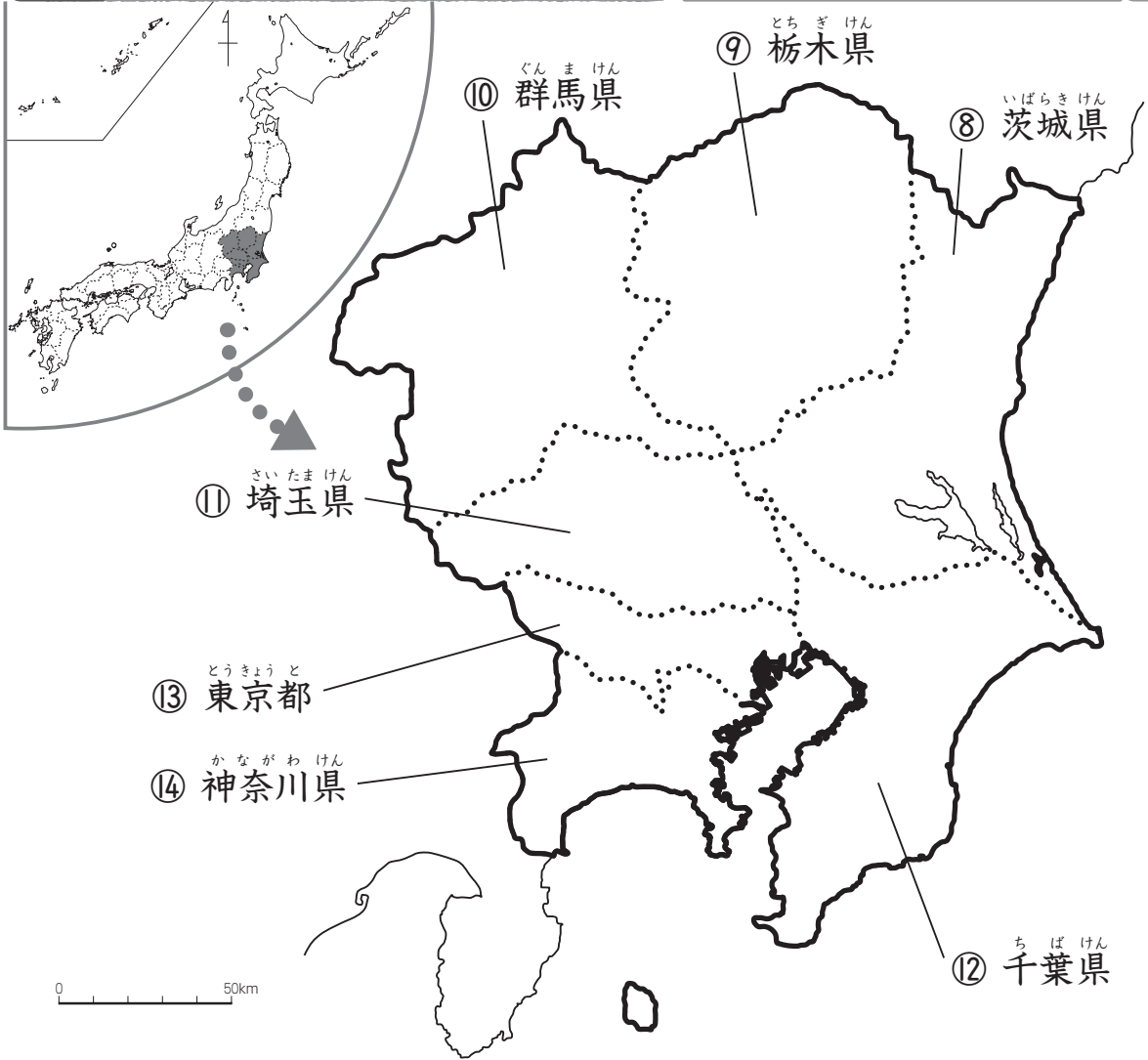
2

書けるかな？

かん とう 関東地方

名前

Blank box for name



● ⑧～⑭の県や都の位置を地図でたしかめて、漢字をなぞりましょう。また、右に読み方も書きましょう。

⑭

⑬

⑫

⑪

⑩

⑨

⑧

神	東	千	埼	群	栃	茨
奈	京	葉	玉	馬	木	城
川	都	県	県	県	県	県
県						

練習しましょう。
読み方も書きましょう。

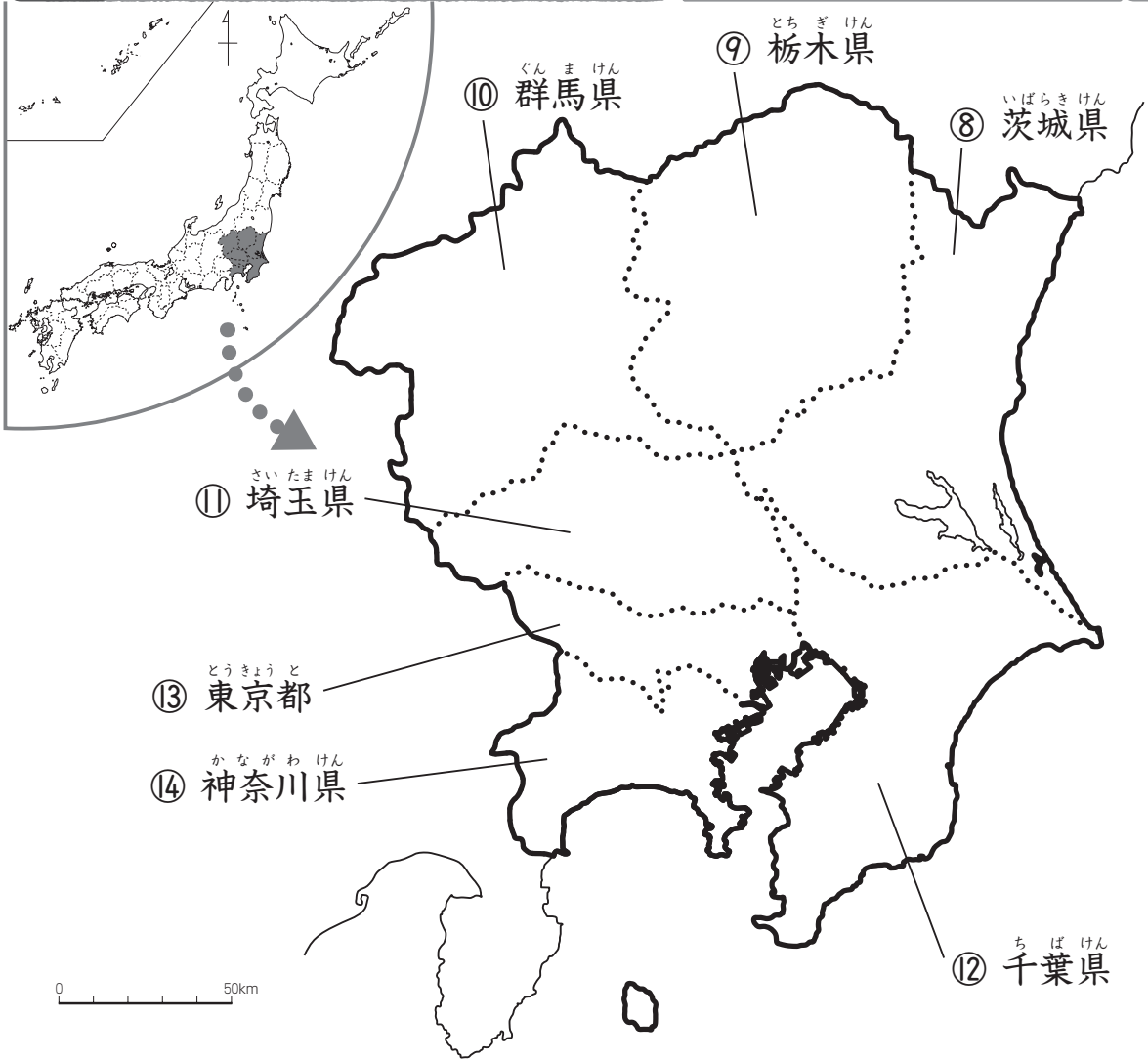
2

書けるかな?

かん とう 関東地方

名前

Blank box for writing the name.



● ⑧～⑭の県や都の位置を地図でたしかめて、漢字をなぞりましょう。また、右に読み方も書きましょう。

⑭	⑬	⑫	⑪	⑩	⑨	⑧
神	東	千	埼	群	栃	茨
な	京	葉	玉	馬	木	城
が	都	ば	た	ま	ぎ	ら
わ	と	けん	ま	けん	けん	き
川		県	けん	けん	けん	けん
県						

練習しましょう。

↑読み方も書きましょう。

3

書けるかな?

ちゅうぶ 中部地方①

名前



● ⑤～⑧の県の位置を地図でたしかめて、漢字をなぞりましょう。また、右に読み方も書きましょう。

練習しましょう。

↑読み方も書きましょう。

①⑧	①⑦	①⑥	①⑤
福井県	石川県	富山県	新潟県

クイズ ①～③はどの県の...

- ① 日本一長い川(信濃川)が流れている。
- ② 雪が多くふり、米の産地として有名。
- ③ 県の鳥トキは国の天然記念物。

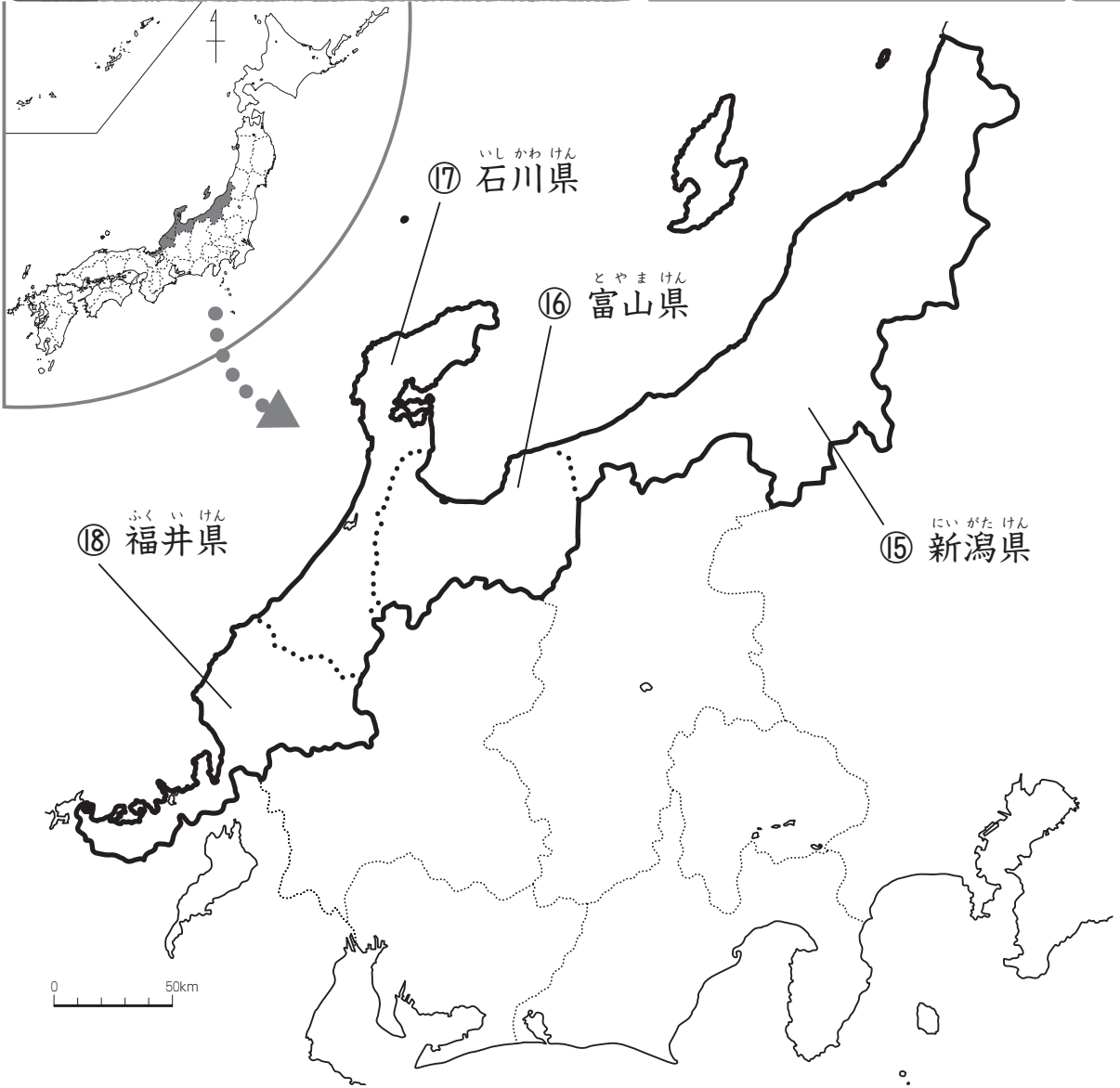
3

書けるかな?

ちゅうぶ 中部地方①

名前

Blank box for name



● ⑤～⑧の県の位置を地図でたしかめて、漢字をなぞりましょう。また、右に読み方も書きましょう。

練習しましょう。

↑読み方も書きましょう。

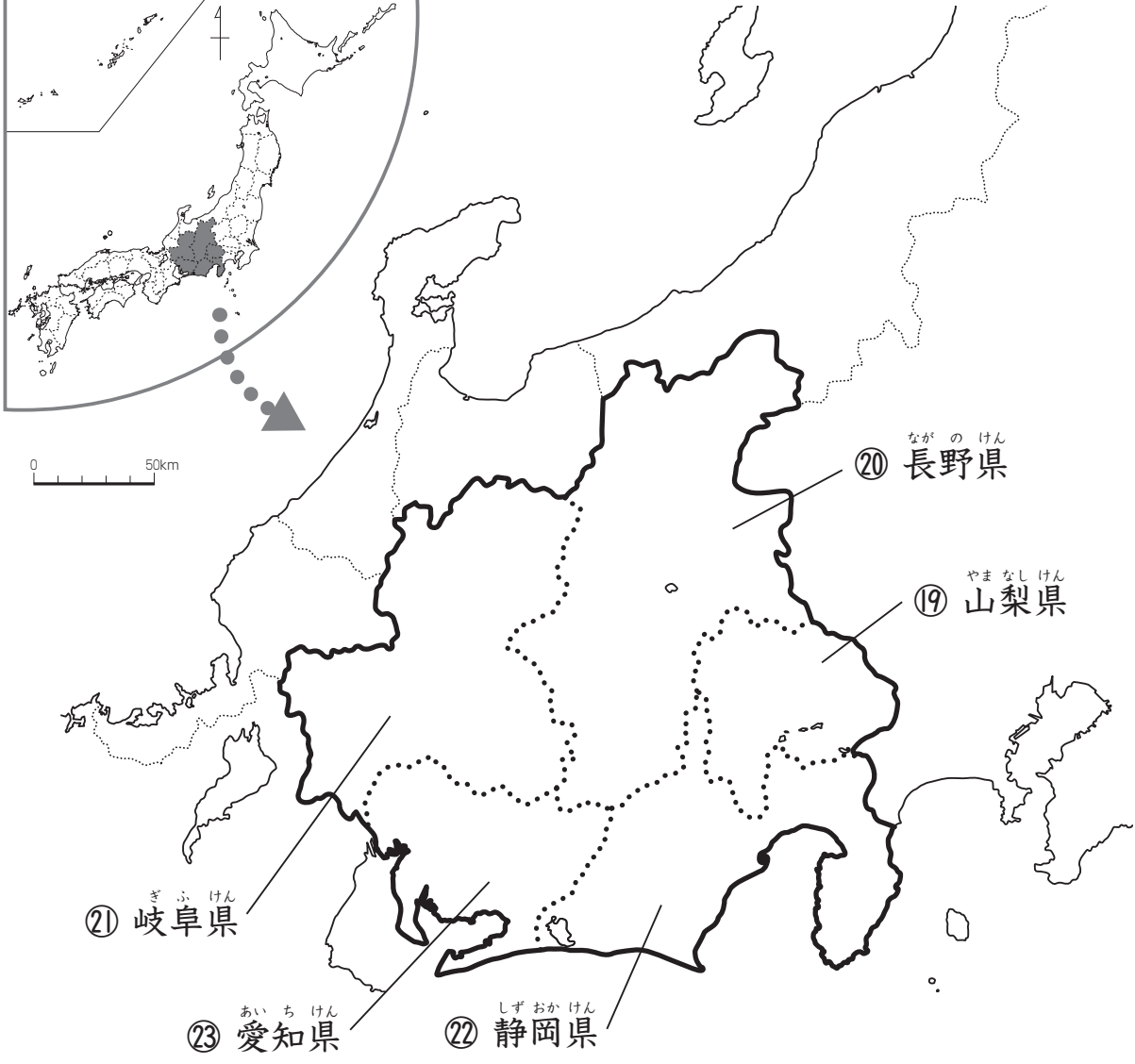
①⑧	①⑦	①⑥	①⑤
福井県	石川県	富山県	新潟県
ふく い けん	い し かわ けん	と や ま けん	に い が た けん

クイズ ①～③はどの県の...

- ① 日本一長い川(信濃川)が流れている。
- ② 雪が多くふり、米の産地として有名。
- ③ 県の鳥トキは国の天然記念物。

4 ちゅうぶ 書けるかな? 中部地方②

名前



● ⑱～㉓の県の位置を地図でたしかめて、漢字をなぞりましょう。また、右に読み方も書きましょう。

クイズ ①～③はどの県の

- ① ピアノの生産工場がある。
- ② ツンとからいわさびが特産品。
- ③ うなぎの養殖が多くて有名な湖がある。

※ 総画数(一)の数を記入

②③	②②	②①	②①	①⑨
愛	静	岐	長	山
知	岡	阜	野	梨
県	県	県	県	県

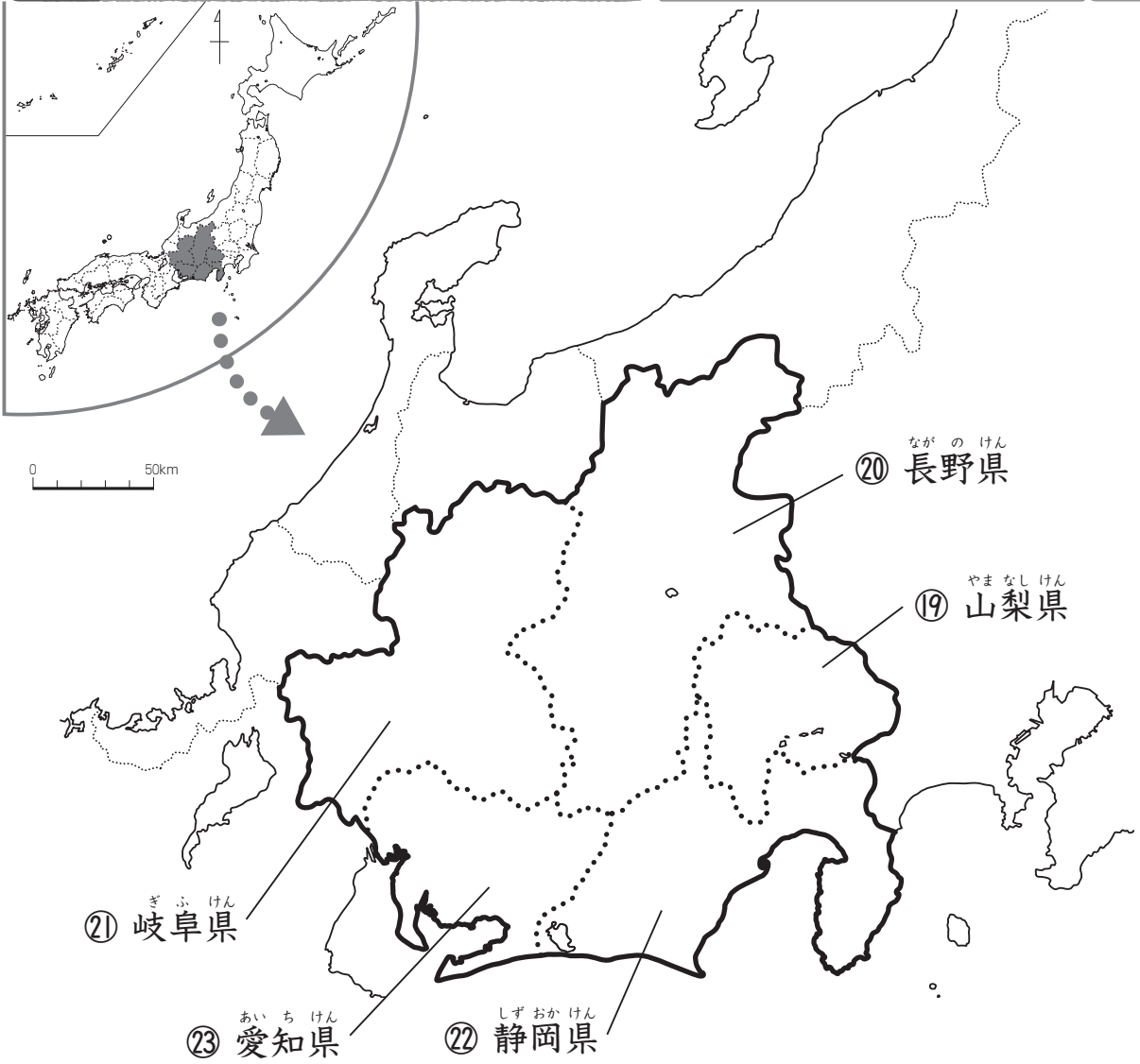
↑ 読み方も書きましょう。
練習しましょう。

名前

4

書けるかな?

ちゅうぶ 中部地方②



● ⑱～㉓の県の位置を地図でたしかめて、漢字をなぞりましょう。また、右に読み方も書きましょう。

練習しましょう。

↑読み方も書きましょう。

⑲	山梨県	やまなしけん
⑳	長野県	ながのけん
㉑	岐阜県	ぎふけん
㉒	静岡県	しずおかけん
㉓	愛知県	あいちけん

クイズ ①～③はこの県の

- ① ピアノの生産工場がある。
- ② ツンとからいわさびが特産品。
- ③ うなぎの養殖が多くて有名な湖がある。

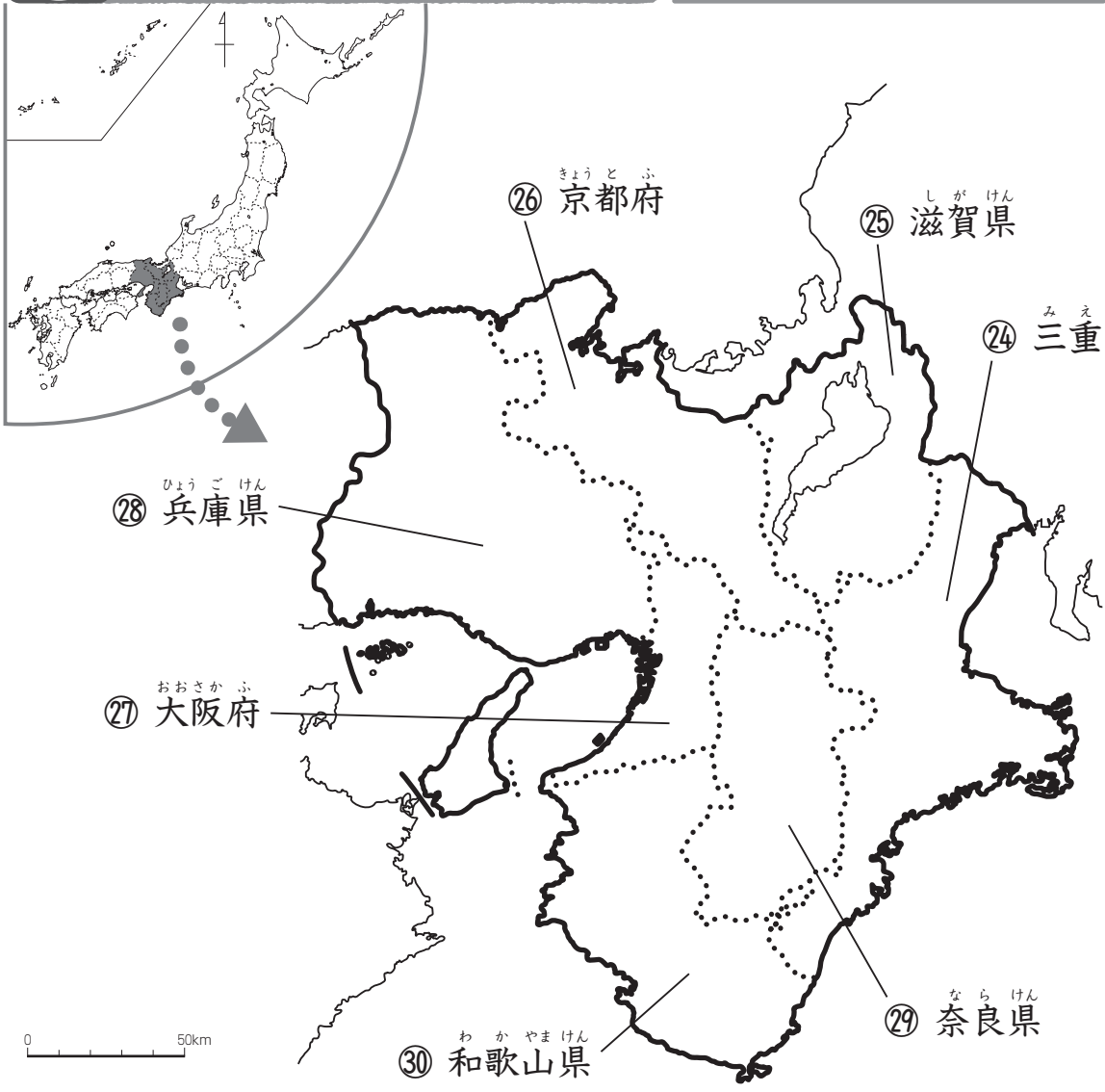
名前

Blank box for name

5 近畿地方

書けるかな?

近畿地方



● ②4～③0の県や府の位置を地図でたしかめて、漢字をなぞりましょう。また、右に読み方も書きましょう。

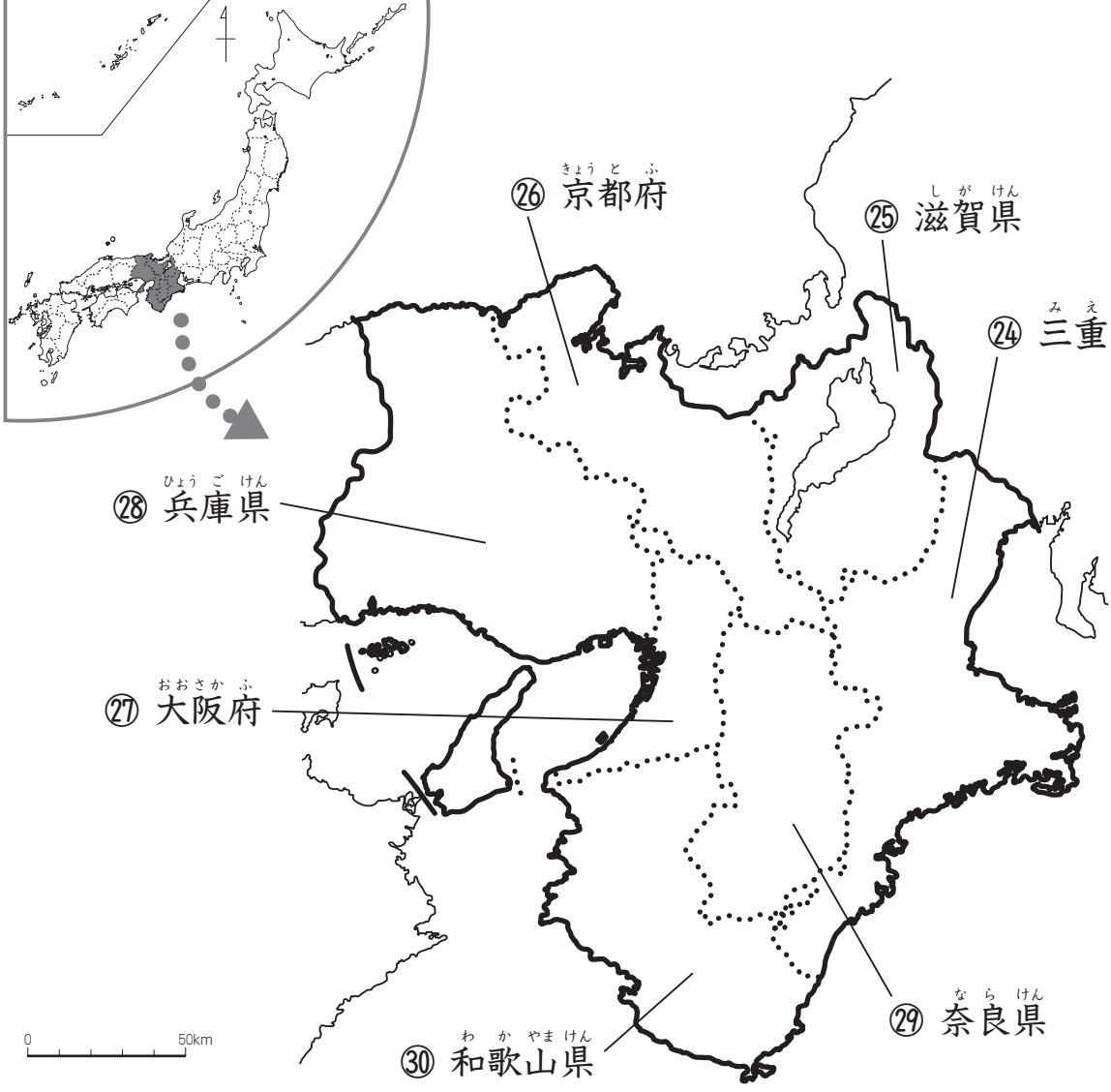
③0	②9	②8	②7	②6	②5	②4
和	奈	兵	大	京	滋	三
歌	良	庫	阪	都	賀	重
山	県	県	府	府	県	県
県						

練習しましょう。

↑読み方も書きましょう。

5 **近畿地方** きん き
 書けるかな?

名前



● ②④～③①の県や府の位置を地図でたしかめて、漢字をなぞりましょう。また、右に読み方も書きましょう。

③①	②⑨	②⑧	②⑦	②⑥	②⑤	②④
和歌山県	奈良県	兵庫県	大阪府	京都府	滋賀県	三重県
わ か や ま けん	な ら けん	ひ よ う ご けん	お お さ か ぶ	き よ う と ぶ	し が けん	み え けん

練習しましょう。

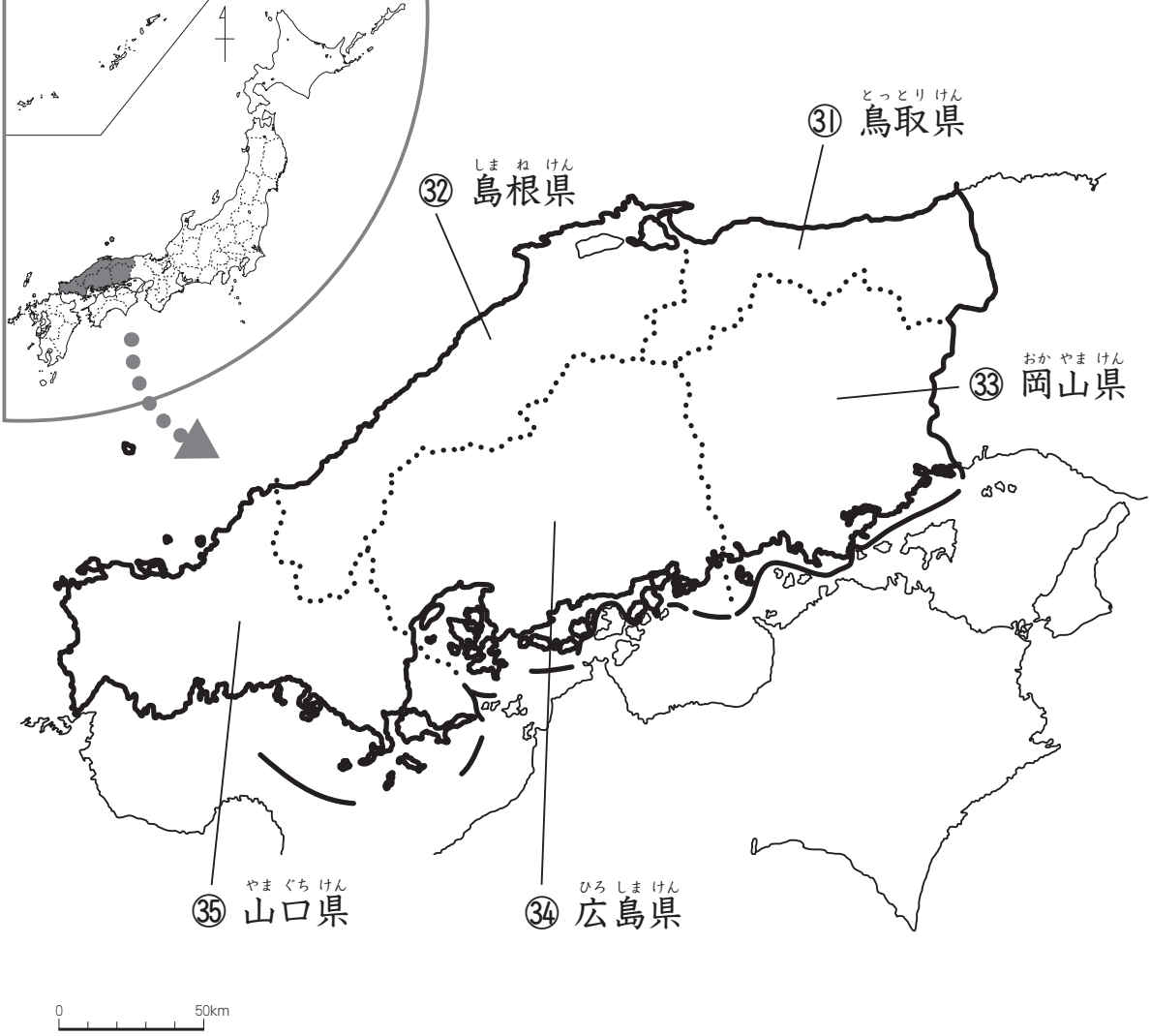
↑読み方も書きましょう。

6 中国地方

ちゅうごく

書けるかな?

名前



● ③①～③⑤の県の位置を地図でたしかめて、漢字をなぞりましょう。また、右に読み方も書きましょう。

クイズ ①～③はこの県の

① 出雲そばが有名。

② しじみ漁が有名な宍道湖がある。

③ 世界遺産の石見銀山遺跡がある。

山口県 鳴瀬町(二形中五郎)

③⑤	③④	③③	③②	③①
山	広	岡	島	鳥
口	島	山	根	取
県	県	県	県	県

練習しましょう。

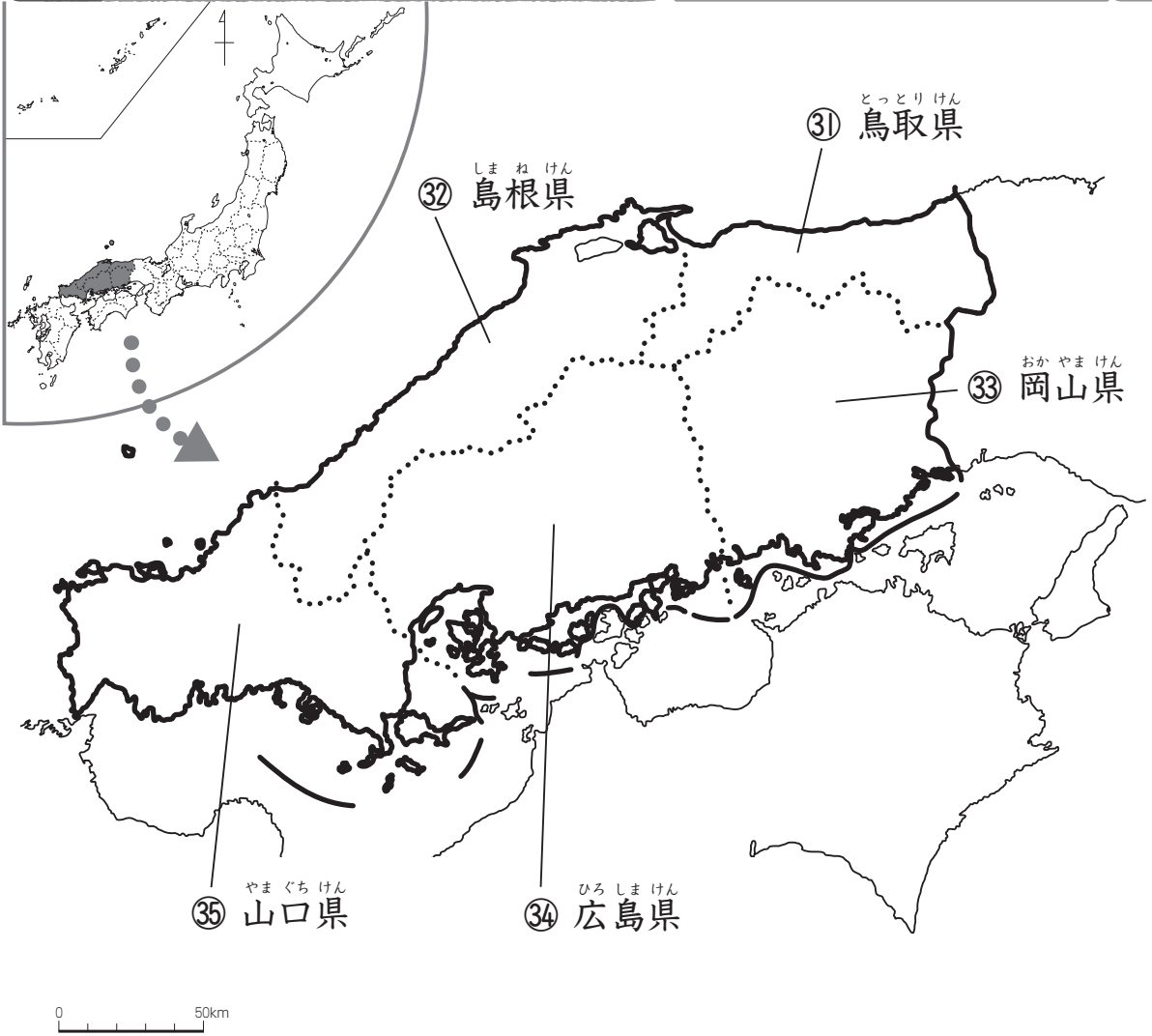
↑読み方も書きましょう。

6

書けるかな?

ちゅうごく 中国地方

名前



● ③①～③⑤の県の位置を地図でたしかめて、漢字をなぞりましょう。また、右に読み方も書きましょう。

練習しましょう。

↑読み方も書きましょう。

③⑤	③④	③③	③②	③①
山	広	岡	島	鳥
口	島	山	根	取
県	県	県	県	県
やまぐち	ひろしま	おかやま	しまね	とっとり
けん	けん	けん	けん	けん

クイズ ①～③はこの県の

- ① 出雲そばが有名。
- ② しじみ漁が有名な宍道湖がある。
- ③ 世界遺産の石見銀山遺跡がある。

7 書けるかな? し ごとく 四国地方

名前



● ③⑥～③⑨の県の位置を地図でたしかめて、漢字をなぞりましょう。また、右に読み方も書きましょう。

クイズ ①～③はどの県の...?

①「ゆ」の親せきとと言われる。すだちが特産品。

②あまいさつまいもの、鳴門金時が名物。

③鳴門海峡のうずしおが有名。

4年14 勉強した日(月)日(時)分(秒)

③⑨	③⑧	③⑦	③⑥
高知県	愛媛県	香川県	徳島県

練習しましょう。

↑読み方も書きましょう。

7 書けるかな? し ごとく 四国地方

名前



● ③⑥～③⑨の県の位置を地図でたしかめて、漢字をなぞりましょう。また、右に読み方も書きましょう。

クイズ ①～③はどの県のことか。

① 「ゆ」の親せきと言われる。すだちが特産品。

② あまいさつまいもの、鳴門金時が名物。

③ 鳴門海峡のうずしおが有名。

クイズの答えは、①は愛媛県、②は高知県、③は徳島県です。

③⑨	高知県	こうちけん
③⑧	愛媛県	えひめけん
③⑦	香川県	かがわけん
③⑥	徳島県	とくしまけん

練習しましょう。

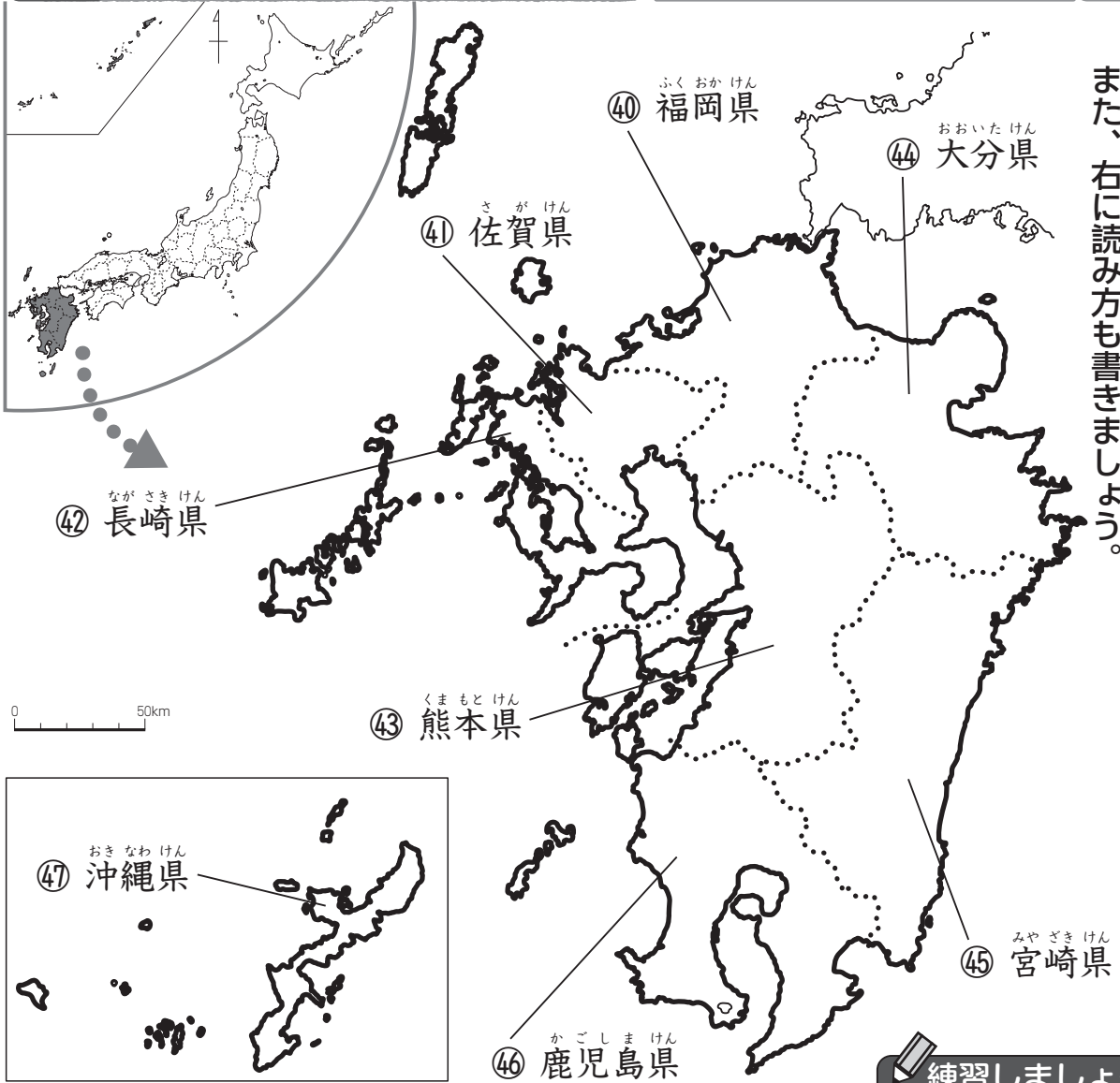
↑読み方も書きましょう。

名前

8

書けるかな?

九州地方



● ④〇～④⑦の県の位置を地図でたしかめて、漢字をなぞりましょう。
 また、右に読み方も書きましよう。

練習しましょう。

④⑦	④⑥	④⑤	④④	④③	④②	④①	④①
沖	鹿	宮	大	熊	長	佐	福
縄	児	崎	分	本	崎	賀	岡
県	島	県	県	県	県	県	県
	県						

↑読み方も書きましよう。

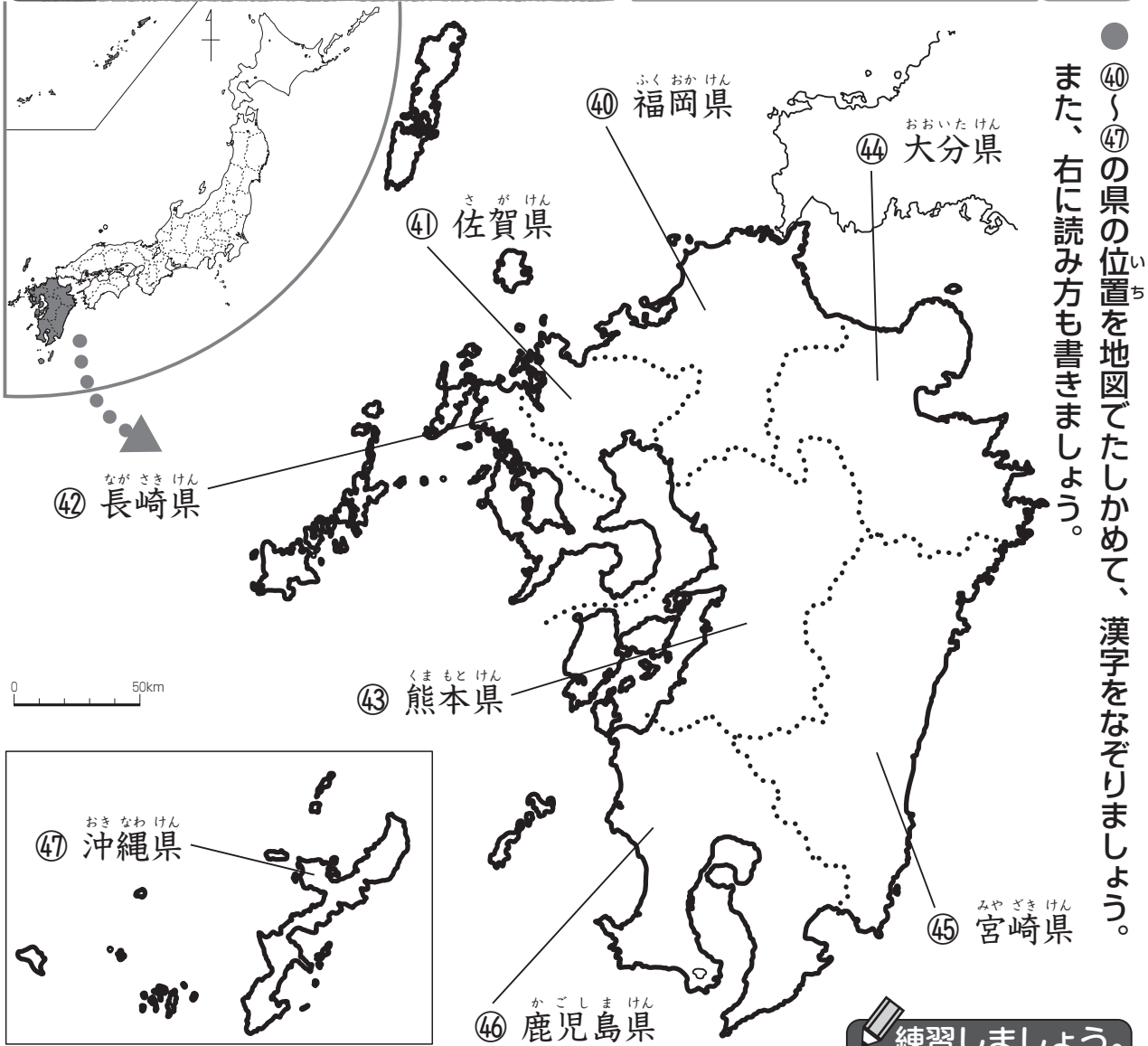
8

書けるかな?

九州地方

名前

Blank box for name



● ④〇～④七の県の位置を地図でたしかめて、漢字をなぞりましょう。
 また、右に読み方も書きましよう。

練習しましよう。

④七	④六	④五	④四	④三	④二	④一	④〇
沖	鹿	宮	大	熊	長	佐	福
繩	児	崎	分	本	崎	賀	岡
県	島	県	県	県	県	県	県
	県						

↑読み方も書きましよう。

9

たしかめよう!

47 都道府県

名前

● ①～④⑦の都道府県名を漢字で書きましょう。

九州地方

④①	ふくおかけん
④②	さがけん
④③	ながさきけん
④④	くまもとけん
④⑤	おおいたけん
④⑥	みやぎけん
④⑦	かごしまけん
④⑧	おきなわけん

近畿地方

②④	みえけん	②⑧	ひょうごけん
②⑤	しがけん	②⑨	ならけん
②⑥	きょうとふ	③⑩	わかやまけん
②⑦	おおさかふ		

中国地方

③①	とっとりけん	③④	ひろしまけん
③②	しまねけん	③⑤	やまぐちけん
③③	おかやまけん		

四国地方

③⑥	とくしまけん
③⑦	かがわけん
③⑧	えひめけん
③⑨	こうちけん

中部地方①

①⑤	にいがたけん
①⑥	とやまけん
①⑦	いしかわけん
①⑧	ふくいけん

中部地方②

①⑨	やまなしけん	②②	しずおかけん
②①	ながのけん	②③	あいちけん
	ぎふけん		

ほっかいどう地方

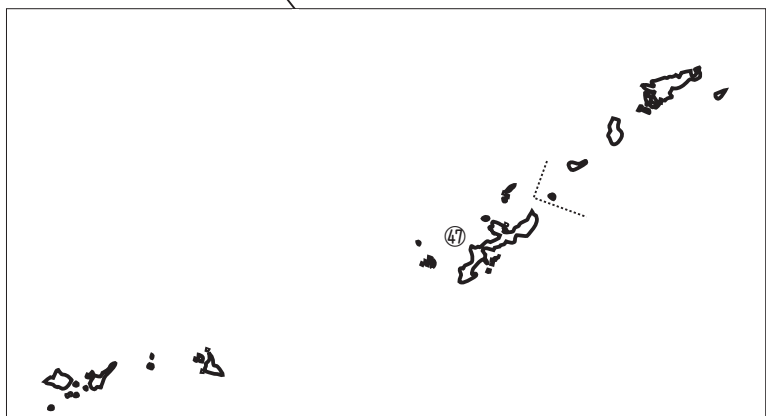
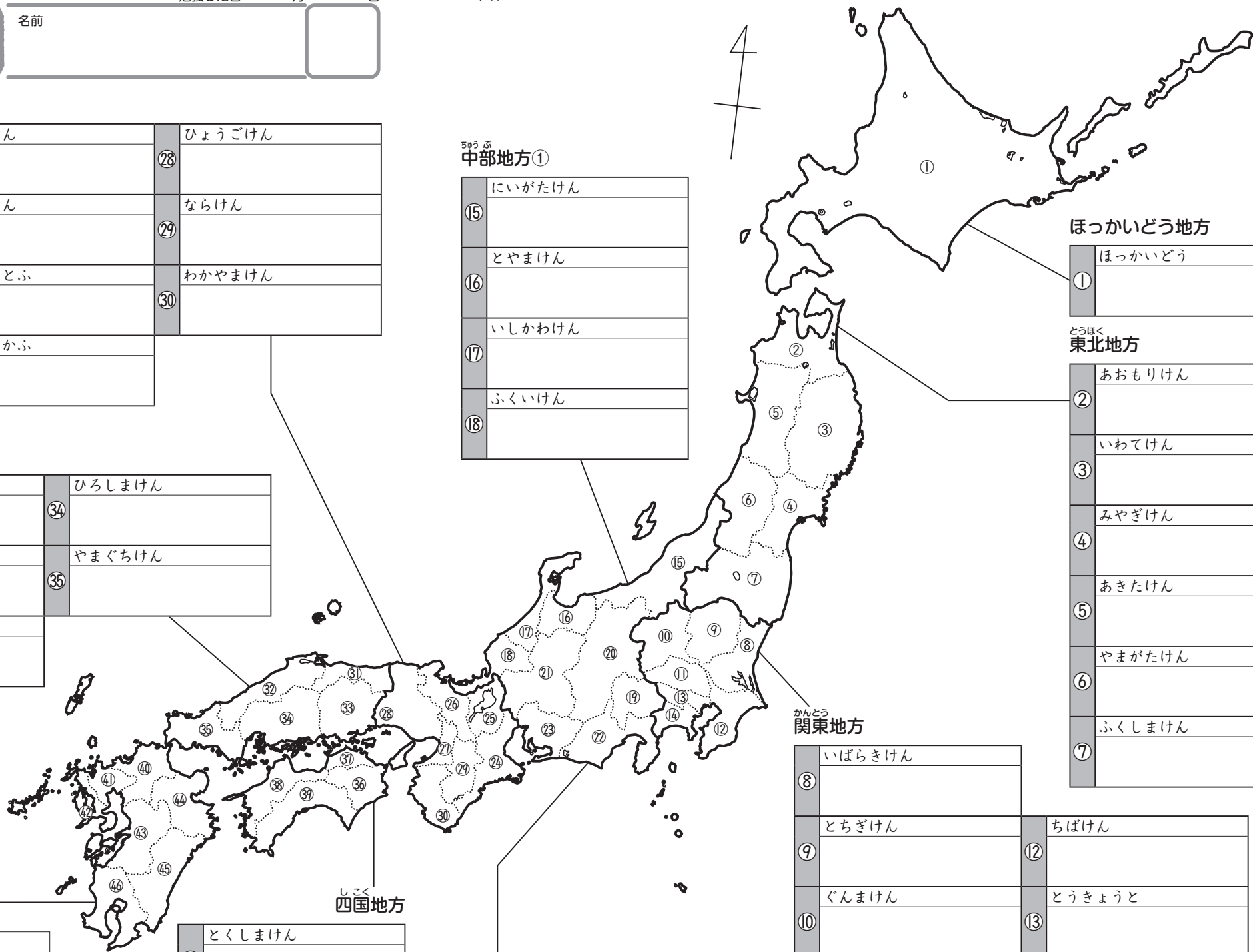
①	ほっかいどう
---	--------

東北地方

②	あomoriken
③	いわてけん
④	みやぎけん
⑤	あきたけん
⑥	やまがたけん
⑦	ふくしまけん

関東地方

⑧	いばらきけん		
⑨	とちぎけん	⑫	ちばけん
⑩	ぐんまけん	⑬	とうきょうと
⑪	さいたまけん	⑭	かながわけん



9

たしかめよう!

47 都道府県

名前

①～④⑦の都道府県名を漢字で書きましょう。

九州地方

④①	ふくおかけん	福岡県
④②	さがけん	佐賀県
④③	ながさきけん	長崎県
④④	くまもとけん	熊本県
④⑤	おおいたけん	大分県
④⑥	みやざきけん	宮崎県
④⑦	かごしまけん	鹿児島県
④⑧	おきなわけん	沖縄県

近畿地方

②④	みえけん	三重県	②⑧	ひょうごけん	兵庫県
②⑤	しがけん	滋賀県	②⑨	ならけん	奈良県
②⑥	きょうとふ	京都府	③⑩	わかやまけん	和歌山県
②⑦	おおさかふ	大阪府			

中国地方

③①	とっとりけん	鳥取県	③④	ひろしまけん	広島県
③②	しまねけん	島根県	③⑤	やまぐちけん	山口県
③③	おかやまけん	岡山県			

四国地方

③⑥	とくしまけん	徳島県
③⑦	かがわけん	香川県
③⑧	えひめけん	愛媛県
③⑨	こうちけん	高知県

中部地方①

①⑤	にいがたけん	新潟県
①⑥	とやまけん	富山県
①⑦	いしかわけん	石川県
①⑧	ふくいけん	福井県

中部地方②

①⑨	やまなしけん	山梨県	②②	しずおかけん	静岡県
②⑩	ながのけん	長野県	②③	あいちけん	愛知県
②⑪	ぎふけん	岐阜県			

ほっかいどう地方

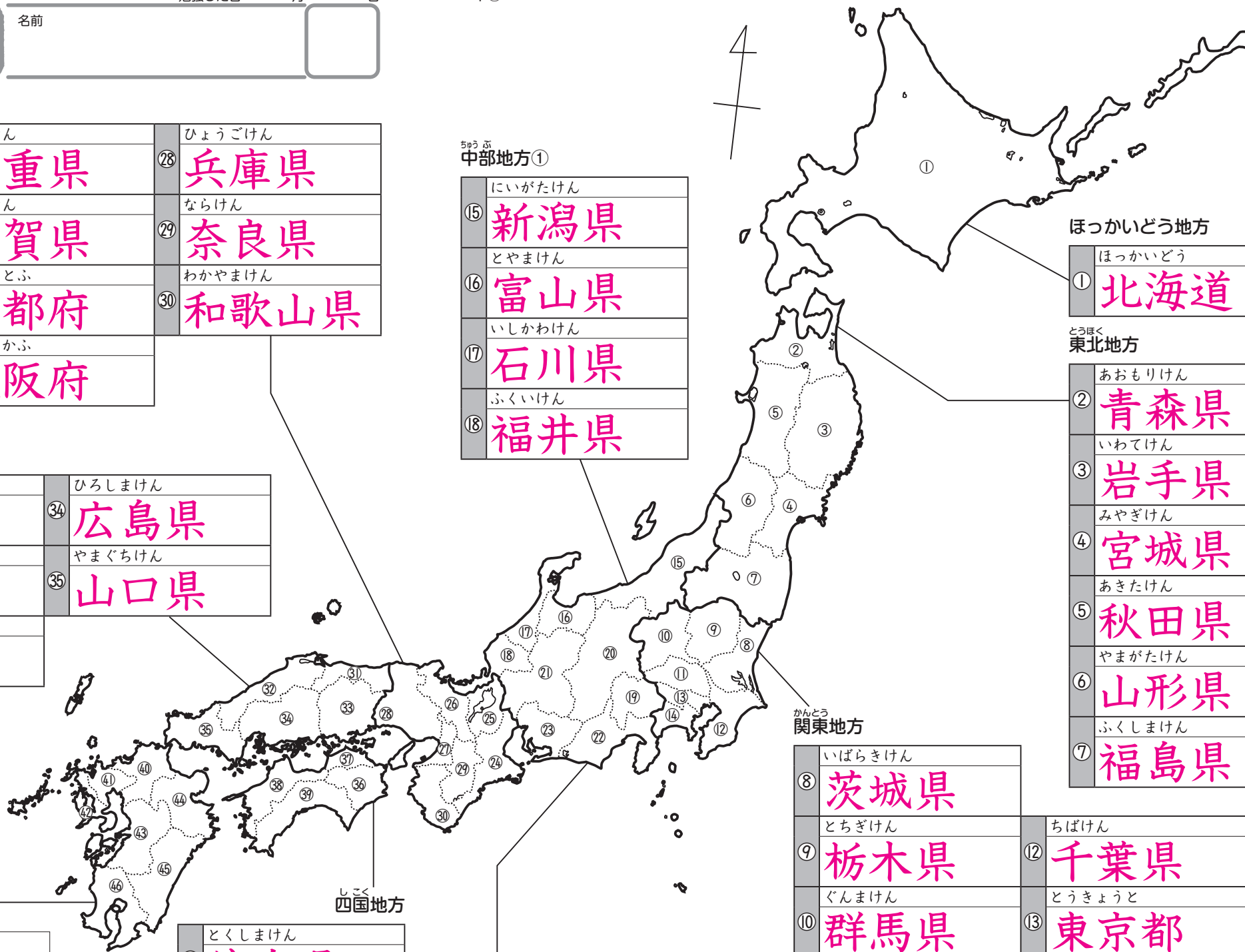
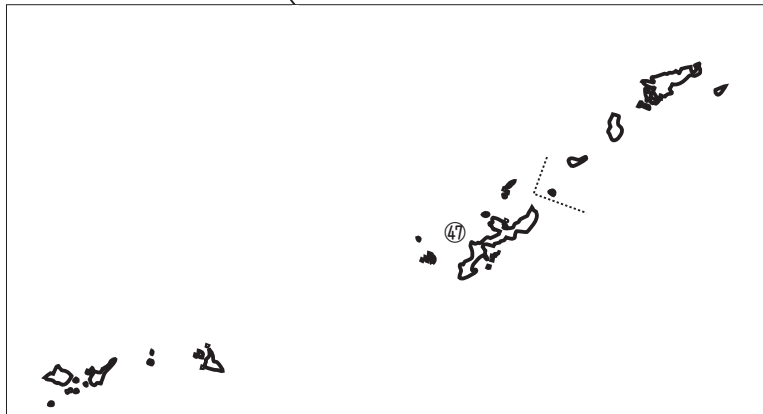
①	ほっかいどう	北海道
---	--------	------------

とうほく東北地方

②	あomoriken	青森県
③	いわてけん	岩手県
④	みやぎけん	宮城県
⑤	あきたけん	秋田県
⑥	やまがたけん	山形県
⑦	ふくしまけん	福島県

かんとう関東地方

⑧	いばらきけん	茨城県	⑫	ちばけん	千葉県
⑨	とちぎけん	栃木県	⑬	とうきょうと	東京都
⑩	ぐんまけん	群馬県	⑭	かながわけん	神奈川県
⑪	さいたまけん	埼玉県			



都道府県 10 全国地図 2

名
前

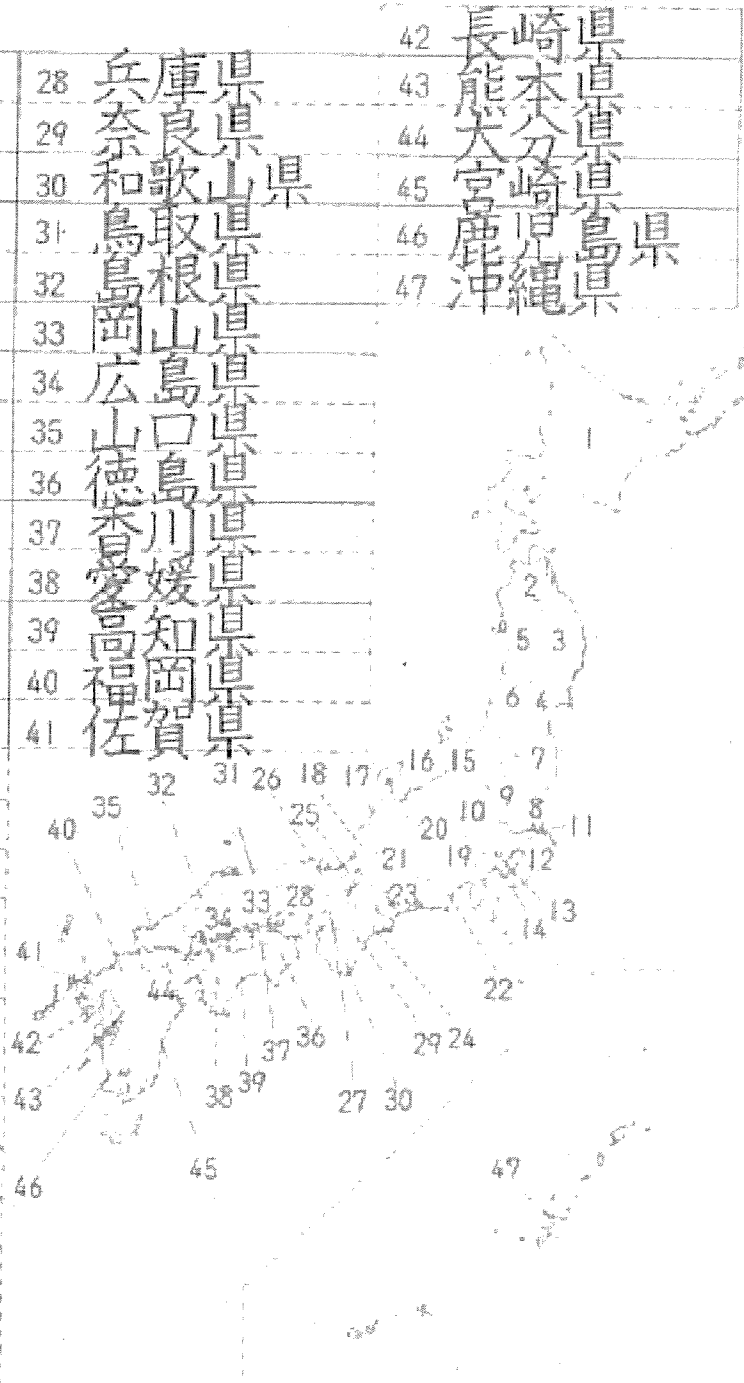
月 日

● 白地図の中の番号を見て、その都道府県名を□の中に書き入れ
ましょう。

		42
1	28	43
2	29	44
3	30	45
4	31	46
5	32	47
6	33	
7	34	
8	35	
9	36	
10	37	
11	38	
12	39	
13	40	
14	41	
15		
16		
17		
18		
19		
20		
21		
22		
23		
24		
25		
26		
27		

● 白地図の中の番号を見て、その都道府県名を□の中に入力してください。

1	北海道	28	兵庫県	42	長崎県
2	青森県	29	奈良県	43	熊本県
3	岩手県	30	和歌山県	44	大分県
4	宮城県	31	鳥取県	45	宮崎県
5	秋田県	32	島根県	46	鹿児島県
6	山形県	33	岡山県	47	鹿儿岛県
7	福島県	34	広島県		
8	茨城県	35	山口県		
9	栃木県	36	徳島県		
10	群馬県	37	香川県		
11	埼玉県	38	愛媛県		
12	千葉県	39	高知県		
13	東京都	40	福岡県		
14	神奈川県	41	佐賀県		
15	新潟県				
16	富山県				
17	石川県				
18	福井県				
19	山梨県				
20	長野県				
21	岐阜県				
22	静岡県				
23	愛知県				
24	三重県				
25	滋賀県				
26	京都府				
27	大阪府				



ごみは どんへ ②

ゴミの出し方

名前 _____ 月 _____ 日 _____

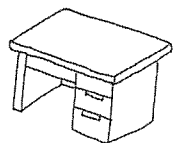
● わたしたちの町では、下のゴミは、どの種類しゅるいに分けて集められていますか。□の中にかきましょう。

もえるゴミ

もえないゴミ

がた
大型ゴミ

つくえ

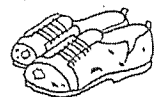


プリント

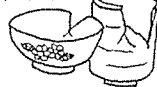


しげん
資源 (リサイクル) ゴミ

くつ



茶わん




かがみ
われた鏡



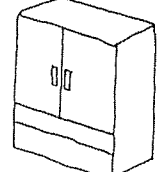
ハンドバッグ



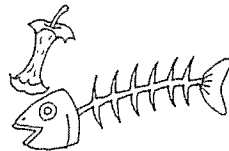
新聞紙




ダンス



生ゴミ



ペットボトル



その他

ごみは どんへ ①

家のゴミ調べ

名前 _____ 月 _____ 日 _____

● わたしたちの周りには、どんなゴミがあるでしょうか。絵を見ながら、□の中に3つずつ書きましょう。

Three large empty speech bubble shapes for writing answers.



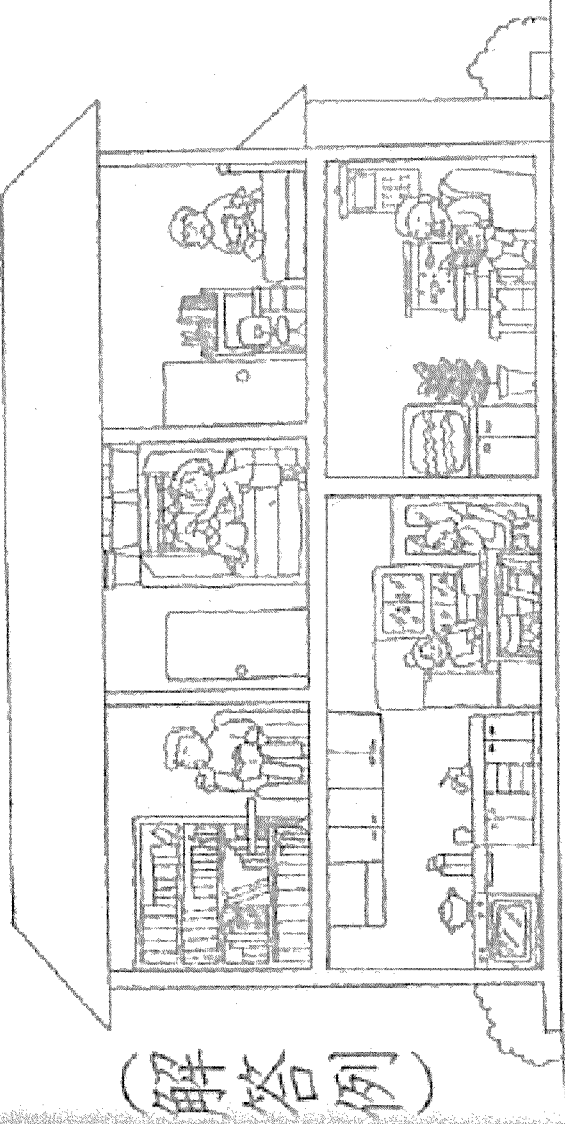
Two large empty speech bubble shapes for writing answers.

P170

わたしたちのまわりには、どんなゴミがあるでしょうか。絵を見ながら、の中にもつづつ書きましよう。

- メモ用紙
- チラシ
- ペットボトル
- チリ紙など
- ビニールの包み
- 包そう紙
- ハンガー
- かんそうざい
- など
- メモ用紙
- おかしの紙
- ペットボトル
- チリ紙など

(解答例)



- ゴミびん
- あきびん
- あきびん
- 食べ物の包そう紙など

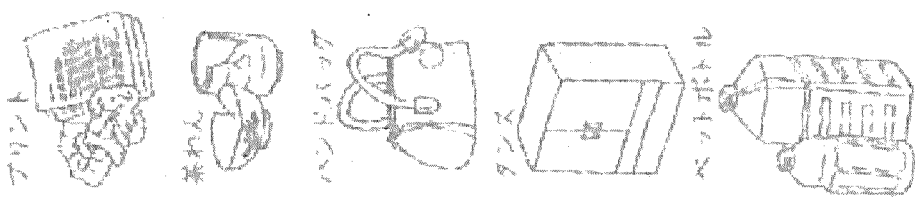
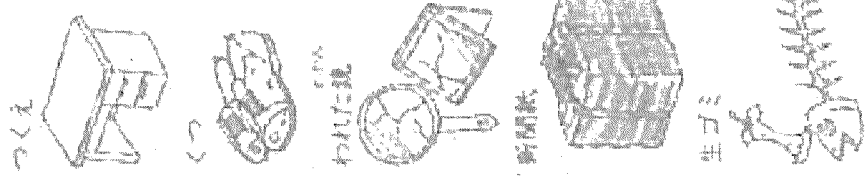
- ざっし
- 新聞
- チリ紙など

P171

わたしたちの町では、下のゴミは、どの種類に分けて集められていますか。の中にかきましよう。

- もえるゴミ
- 生ゴミ
- プリント
- 茶わん
- 鏡

もえないゴミ



大型ゴミ

資源(リサイクル)ゴミ

- つくえ
- タンス
- 新聞紙
- ペット
- ボトル


※各自治体のきまりに合わせて下さい。

その他
くつ・ハンドバッグ

名前 _____
 前 _____


月 _____ 日 _____

● 水道のじゃ口が家の中のどこにあるか調べ、水が何に使われているか書きましょう。



じゃ口のある場所	使い方

● 水道のじゃ口が家の中のどこにあるか調べ、水が何に使われているか書きましょう。



じゃ口のある場所

使い方

(解答例)

台所

「流し」のじゃ口
 湯わかし器

ふろ場

シャワー
 湯や水のじゃ口

洗面所

洗面台
 洗たく機

トイレ

便器
 手洗い用