

# 16. 分数



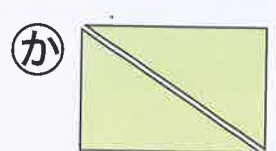
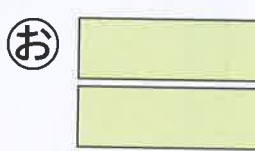
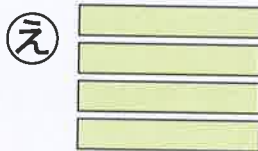




1 長方形の紙をおって、切りました。 (1つ20) [40]

ちょうほうけい

かみ

き

(すべて同じ大きさに分けています。)




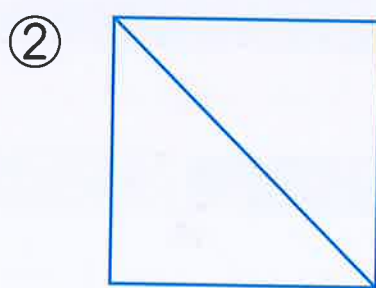

① 切った 1つ分の大きさが、もとの大きさの  $\frac{1}{2}$  になっているのはどれですか。

( ぜんぶ できて 20てん )

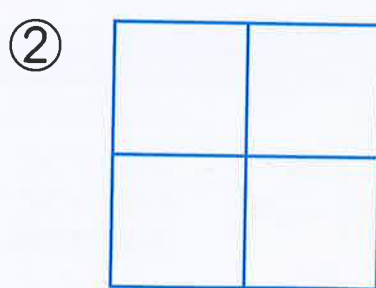

② 切った 1つ分の大きさが、もとの大きさの  $\frac{1}{4}$  になっているのはどれですか。

( ぜんぶ できて 20てん )





2 もとの大きさの  $\frac{1}{2}$  だけ 色をぬりましょう。 (1つ10) [30]


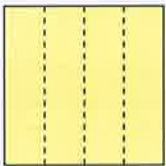

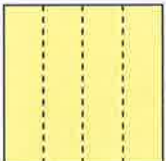


3 もとの大きさの  $\frac{1}{4}$  だけ 色をぬりましょう。 (1つ10) [30]



16. 分数

1  は,  の  $\frac{1}{2}$  です。  を いくつ あつめると,  に なりますか。 [20] ( )

2  は,  の  $\frac{1}{4}$  です。  を いくつ あつめると,  に なりますか。 [20] ( )

3 <sup>おな</sup> 同じ <sup>なが</sup> 長さ に <sup>なる</sup> ように, テープを おって <sup>わ</sup> 分けます。分けた <sup>ぶん</sup> 1つ 分の 長さは, もとの <sup>なんぶん</sup> 長さの <sup>いち</sup> 何分の一と いえば よいですか。 (1つ20) [60]

もとの  
長さ



① <sup>はんぶん</sup> 半分 に <sup>分けた</sup>  

② 同じ 長さ に <sup>4つに</sup> 分けた  

③ 同じ 長さ に <sup>8つに</sup> 分けた  



あは 2つに 分けた 1つ分,  
いは 4つに 分けた 1つ分,  
うは 8つに 分けた 1つ分だね。

# 17. はこの 形

89  
91



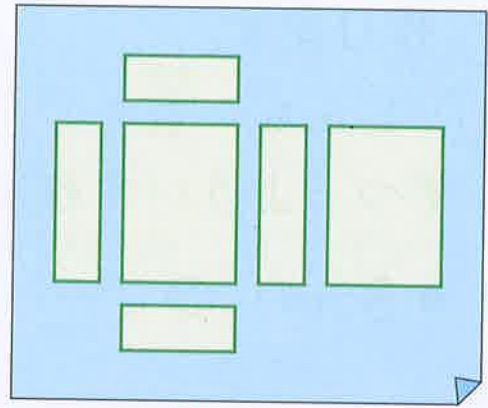
東2下・49

**1** 右のような はこの 形の  
面を、紙に うつしとって、面の  
形や 数を しらべます。 (1つ20) [60]



① うつしとった 面の 形は、  
何と いう 四角形ですか。

( )



② 面は いくつ ありますか。

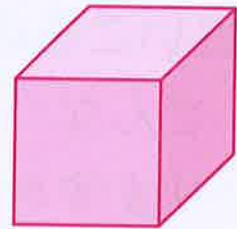
( )

③ 同じ 形の 面は、いくつずつ  
ありますか。

( )

**2** さいころの 形には、何と いう 四角形の 面が  
いくつ ありますか。 (1つ10) [20]

● さいころの 形には  の 面が

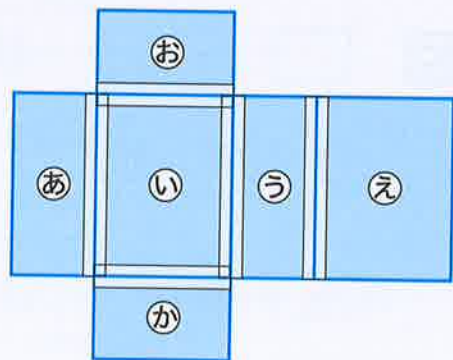


つ あります。

**3** はこの 形を 切りとった 面を テープで つないで、  
はこを 組み立てます。  に あう 面を  
書きましょう。 (1つ10) [20]

㊦の 面と むかい合う 面...  の 面

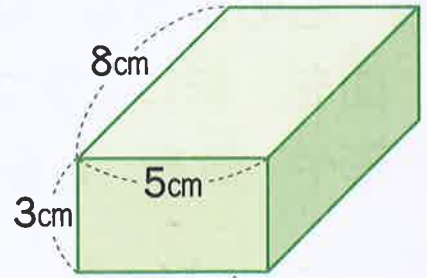
㊩の 面と むかい合う 面...  の 面



17. はこの 形

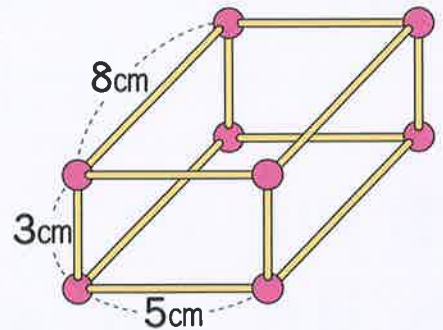
1 ひごと ねん土玉を つかって、  
右のような はこの 形を  
作ります。

(1つ10) [40]



① どんな 長さの ひごを 何本  
ずつ よういすれば よいですか。

- 3cmの ひご.....  本
- 5cmの ひご.....  本
- 8cmの ひご.....  本

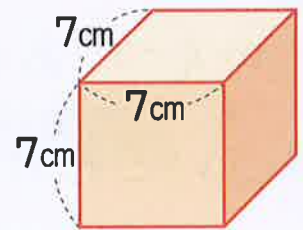


② ねん土玉は、何こ いりますか。

( )

2 ひごと ねん土玉で、右のような  
さいころの 形を 作ります。

(1つ15) [30]



① どんな 長さの ひごが 何本  
いりますか。

( ) cmの ひごが ( ) 本  
(りょうほう できて 15てん)

② ねん土玉は、何こ いりますか。

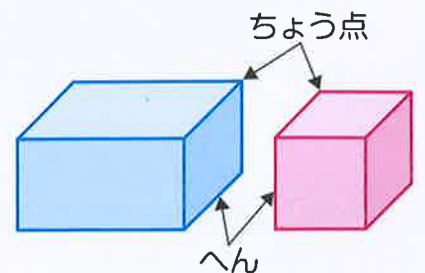
( )

3  に あう 数を 書きましょう。

(1つ15) [30]

はこの 形には、へんが

ちょう点てんが  つ あります。



2年の まよめ ①



東2下・51

1 □に あう <sup>かず</sup>数を <sup>か</sup>書きましよう。

(1つ10)[40]

① 100を 6こ, 10を 4こ, 1を 7こ あわせた  
数は, □です。


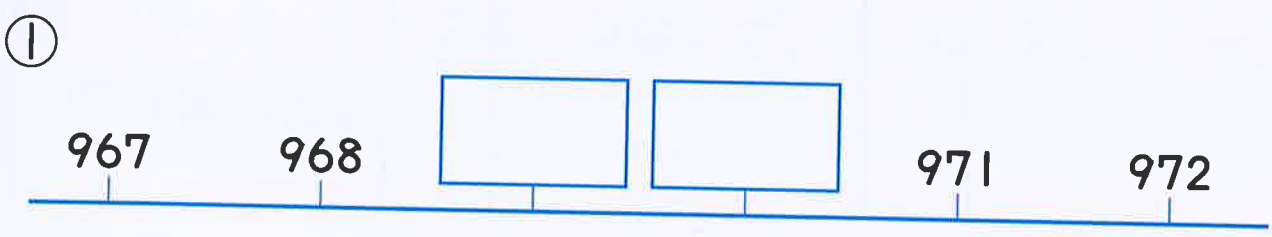
② 1000は, 10を □に あつめた 数です。

③ 1000を 5こ, 10を 9こ あわせた 数は,  
□です。

④ 100を 82こ あつめた 数は, □です。

2 □に あう 数を 書きましよう。

(1つ10)[40]



3 □に あう >, <を 書きましよう。

(1つ10)[20]

① 893 □ 841      ② 6950 □ 6920

2年の まどめ ②



1 たし算と ひき算を しましょう。

(1つ5) [20]

①  $40 + 70$

②  $140 - 70$

③  $300 + 600$

④  $360 - 60$

2  に あう >か <を 書きましょう。

(1つ10) [20]

①  $160$    $80 + 70$

②  $140 - 60$    $84$

3 ひっ算で しましょう。

(1つ10) [60]

①  $57 + 74$

②  $322 + 48$

③  $248 + 6$




④  $62 - 46$

⑤  $124 - 28$

⑥  $756 - 37$



1 かけ算を しましよう。

(1つ10) [60]

①  $5 \times 7$

②  $4 \times 4$

③  $6 \times 3$

④  $7 \times 2$

⑤  $8 \times 6$

⑥  $9 \times 8$

2 答えが 24になる カードを 2つ 見つけて、  
○を つけましよう。

(1つ10) [20]

$7 \times 4$

$8 \times 3$

$5 \times 5$

$6 \times 1$

$2 \times 8$

$3 \times 9$

$4 \times 6$

$9 \times 2$

3 7cmの テープを つないで、 下のよう な テープを  
作りましよう。



① つないだ テープの 長さは、7cmの 何ばいですか。 [10]

( )

② つないだ テープの 長さは、何cmですか。 (しき5・答え5) [10]


しき

答え ( )



◆ くだものの <sup>かず</sup>数を しらべます。

(1つ10) [100]



① くだものの 数を, 下の ひょうに <sup>か</sup>書きましよう。

くだものの 数

くだもの	みかん	りんご	いちご	バナナ
数				

② くだものの 数を, ○をつかって 右の グラフにあらわましよう。

くだものの 数

みかん	りんご	いちご	バナナ

③ いちばん <sup>おお</sup>多い くだものは <sup>なん</sup>何ですか。

( )

④ りんごは みかんより <sup>なん</sup>何こ多いですか。

( )



1 <sup>いま</sup> 今 <sup>じ</sup> 8時 <sup>ふん</sup> 15分です。つぎの <sup>か</sup> 時こくを <sup>か</sup> 書きましよう。

(1つ10)[20]



① 1時間前 ( )

② 30分後 ( )

2 □に あう 数を 書きましよう。

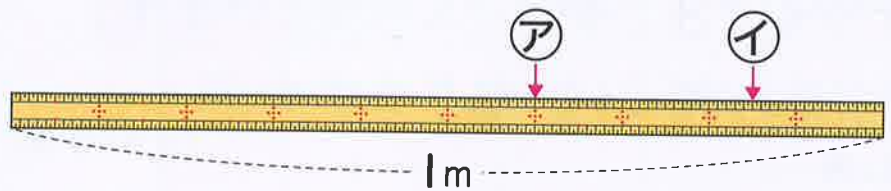
(1つ5)[10]

① 1 m = □ cm

② 1 L = □ dL

3 左はしから、ア、イまでの <sup>なが</sup> 長さは、それぞれ どれだけですか。

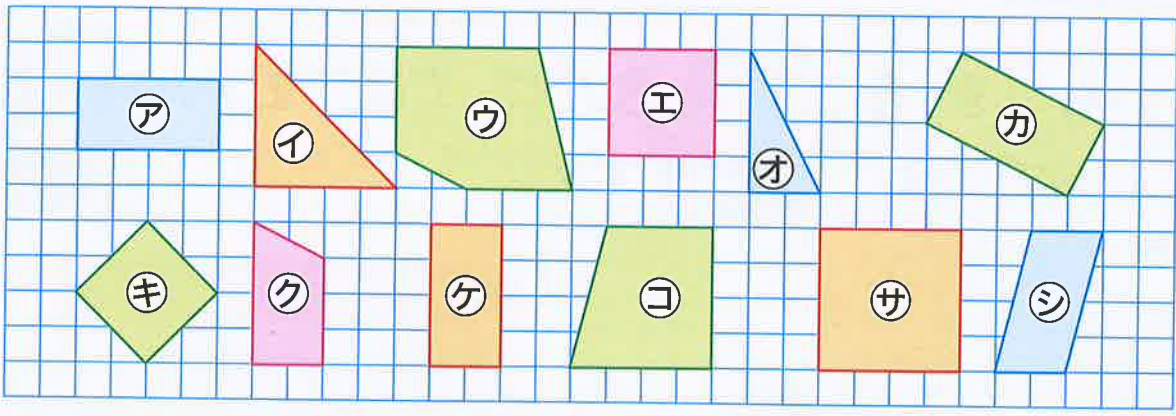
(1つ5)[10]



ア ( )  
イ ( )

4 <sup>ちやうほうけい</sup> 長方形と <sup>せいほうけい</sup> 正方形を 3つずつ 見つけて、アから シで <sup>こた</sup> 答えましよう。

(1つ10)[60]




長方形 ( ) ( ) ( ) 正方形 ( ) ( ) ( )



1 あわせて <sup>なん</sup>何円に なりますか。

(しき15・答え10) [25]



38円 42円

こた 答え ( )

▼ひっ算スペース


2 <sup>いろがみ</sup>色紙が 100まい あります。かざりを <sup>つく</sup>作るのに 55まい つかうと、何まい のこりますか。

(しき15・答え10) [25]


しき

こた 答え ( )

▼ひっ算スペース


3 | はこに ドーナツが 3こずつ 入っ ています。 9はこでは、ドーナツは 何こに なりますか。

(しき15・答え10) [25]



こた 答え ( )

4 いちごを 5こずつ 8人に くばります。いちごは、 ぜんぶで 何こ いらいますか。

(しき15・答え10) [25]

しき

こた 答え ( )