


わり算プリント①

3年	組	番
名前		

○12こあるアイスクリームを、「だれがなんこ食べたかな？」考えてみよう！



池田先生： こ

大倉先生： こ

ペンギン先生： こ


(もんだい)：12こあるアイスクリームを、「3人でなかよく」分けるには、どうすればよいでしょう。自分の考えを下の口に書きましょう。(ヒント：池田先生のアイスクリームを一つ・・・！？)

(正かいは・・・！？)


○その通り！！みんなが口を書いてくれたこと、これがわり算の学習ではとても大切な考え方なんだよ！12このアイスクリームを3人でなかよく(同じ数ずつ)分ければ、1人4こ食べることができるね(´o`)

めあて：1人分の数をもとめる分け方を考えよう。

もんだい：ドーナツが12こあります。4人で同じ数ずつ(なかよく)分けると、1人分は何こになりますか？



※ヒント：下の口に、○(ドーナツ)を1こずつ分けていくと1人分の数が分かるよ！



池田先生： こ

大倉先生： こ

ペンギン先生： こ

ゾウ先生： こ

《まとめ》

12このドーナツを4人で同じ数ずつ分けると、1人分は3こになります。このことを式で、つぎのように書きます。

12 ÷ 4 = 3

「十二 わる 四は 三」

