



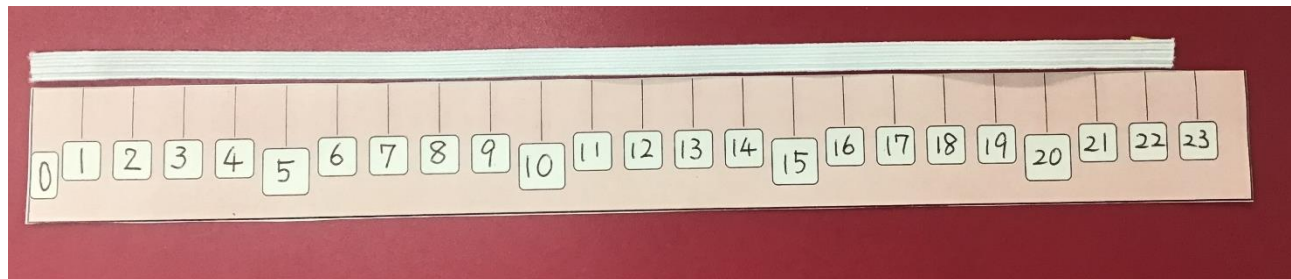
なが 長さをはかって あらわそう (2)

44・45 ページ

くみ 名まえ ()

<もんだい>

たかはた先生は、マスクをつくりはじめました。つくっていると、ひもの長さにもんだいがありました。このひもの長さはなんcmといえはいいでしょうか。



22 cmより長い
みたいだね

22 cmと23 cmのあいだだね。



めあて

1 cmより みじかい 長さのあらわしかたを しらべよう。

1 cmよりみじかい長さをあらわすには、めもりがもっと小さい「ものさし」をつかいます。それでは、先生からもらった竹のものさしを出してみましよう。竹のものさしを見て、気づいたことを 書いてみよう。

・赤いてんが つある。 などなど

まとめ きょうかしよ44ページを見てかこう


1 cmを 同じ長さに に分けた 分の 長さを
1 ミリメートル といひ、1 mm とかきます。mmも 長さのたんいです。

1 cmよりみじかい長さは、1 mmが
いくつ分かで わかるね。

〇〇〇



では、もんだいの マスクのひもの長さは なんcmでしょうか。赤せんのところまでだよ。




こたえ _____ cm _____ mm です。

○ミリメートルをかくれんしゅうをしよう。



右はしまで、かけるだけ かきましょう。



☆竹ものさしの 長さのはかりかた ポイント☆

○竹ものさしは、左からかぞえるので、ひだりはしをしっかりと あわせる。



○ななめにならないようにする。



きょうかしょ45ページを見て もんだいに こたえましょう。

⑤ 左はしから、ア、イ、ウ、エまでの長さは、それぞれどれだけですか。きょうかしょにかきこみましよう。

⑥ つぎのものの長さはどれだけですか。長さのたんいも かんがえて書きましよう。

①消しゴム _____

②えんぴつ _____

③さいころ _____

④一円玉 _____

⑤キャップ _____

⑥スティックのり _____

↑赤のせんを じぶんのものさしではかってみよう!

⑦ さんすうのきょうかしょの たてと よこの長さは なんcmなんmmですか。

たて _____

よこ _____