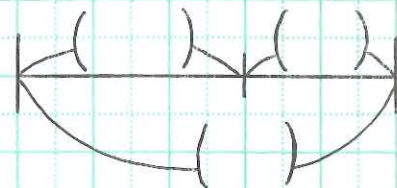


月 日 () 教 P 29


が次の で表される場面をつくりましょう。

① () に数や文字を書いて考えよう。

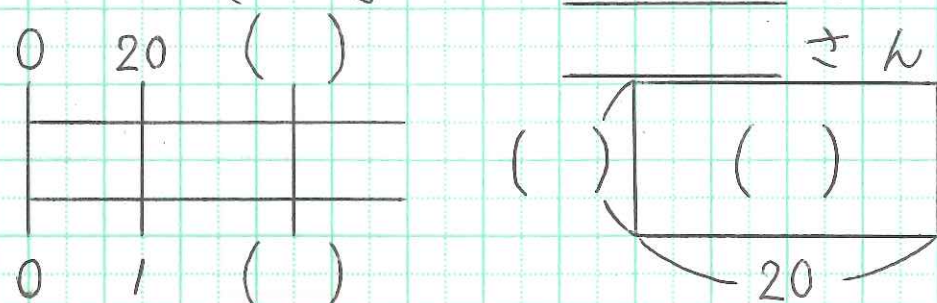
(1) $20 + x = y$ → _____ さん



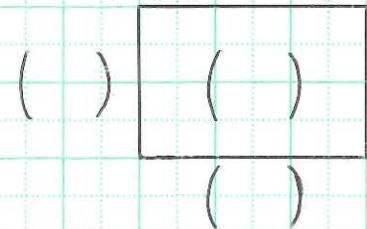
(2) $20 - x = y$ → _____ さん



(3) $20 \times x = y$ → _____ さん




(4) $20 \div x = y$ → _____ さん




式にあてはまる場面を考えよう。

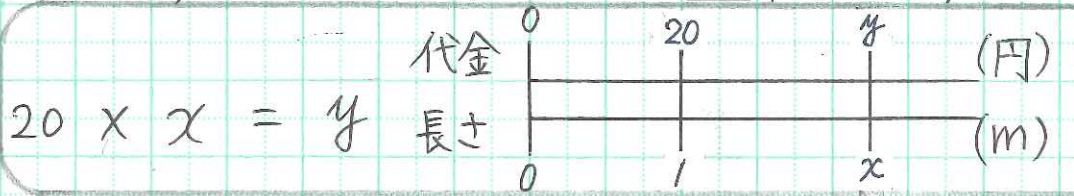
みかんが _____ 個あります。
さらに _____ 個買ってきました。
今、みかんは全部で _____ 個です。



バスに _____ 人乗っています。
_____ 人がおりました。
今、バスに _____ 人乗っています。



_____ m あたり _____ 円のリボンを
_____ m 買うと、代金は _____ 円です。



_____ 個のチョコを _____ 人で分けたら
_____ 人分が _____ 個になりました。

