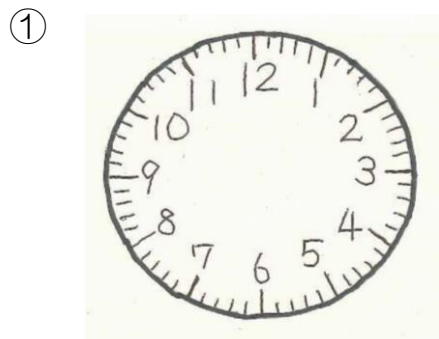


時こくと時間プリント①

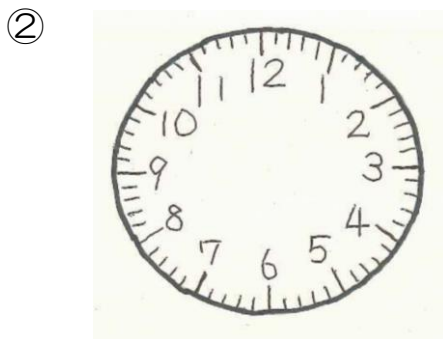
3年 組 番
名前

《めあて》時こくと時間のもとめ方を考えよう。


1 口を書いてある時こくを表すはりを書きましょう。



3時30分



6時45分



7時

2 次の時こくを答えましょう。

① 午後5時から15分後の時こく→

午後

② 午前10時より30分前の時こく→

午前

3 口にはまる数を書きましょう。

① 1日 = 時間

② 1時間 = 分

③ 1時間30分 = 分

④ 150秒 = 分 秒

4 () に当てはまる、時間のたんいを書きましょう。

○給食の時間・・・45 () ○テレビのコマーシャルの時間・・・15 ()

○朝起きてから夜ねるまでの時間・・・15 ()

○50m走るのにかった時間・・・10 ()

○1日にねる時間・・・9 () ○学校の休み時間・・・20 ()