


☆3年たからあつめプリント☆

～社会・地図って何だろう～

小学生の地図帳 P7・8



5月 日()

名前

地図とは

見た

のようすを

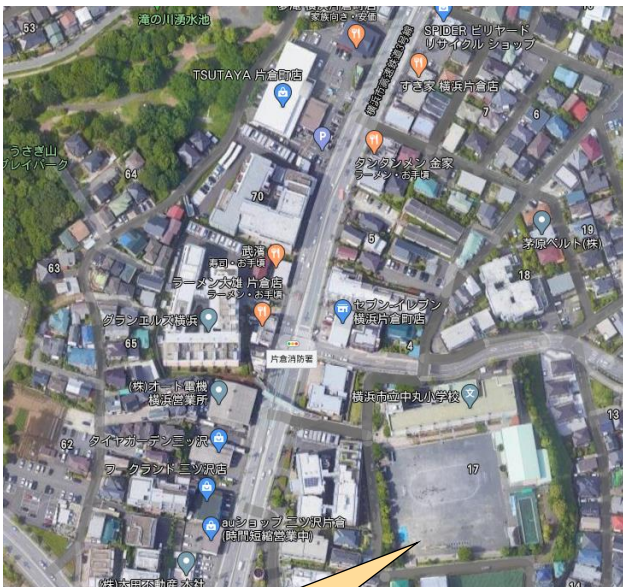
わかりやすくえがいたもの！

よこから見た学校



よこから見ると、
校しゃのうらがわに
何があるのか
分からないね。

ま上から見た学校のまわり




学校のまわりの地図



学校のまわりの
道ろやたてものが
全ぶ見えるね。

地図ちょうを見ながら
□をうめよう！



地図であらわすと、
道ろやたてものの
□ や □ が
分かりやすいね。

地図から分かること

- ☆ 何があるかが分かる。
- ☆ やいちかんけいがある。
- ☆ 、 が分かる。



ちずみ
地図を見ると、
じぶんし
自分の知らない場所や
い
行ったことのない場所でも、
どんなようすかがわかるよ。
ちず
地図ってとても便利だね。

地図ちょう P7・8 のオとカを見ながら、問題に答えよう!

- ① オ・カそれぞれの図から「小学校」をさがして赤丸でかこもう。
- ② オ・カそれぞれの図から「市やくしょ（高そう館）」をさがして青丸でかこもう。
- ③ オの絵図にある 1・2・3 はそれぞれ何か、カの地図をヒントにして答えよう。

- 1 ()
- 2 ()
- 3 ()

.....ここから おりかえて 学しゅうしよう。おわったら丸をつけよう。.....

地図とは

上から見た土地のようすを

わかりやすくえがいたもの!

地図であらわすと、

道ろやたてももの

形や大きさが

分かりやすいね。

地図から分かること


- ☆ どこに 何があるかが分かる。
- ☆ つながり やいちかんけいがある。
- ☆ 遠い 、 近い が分かる。

- 1 (だいせんこふん 大仙古墳)
- 2 (高校)
- 3 (さかいひがしえき 駅)

☆3年たからあつめプリント☆

～社会・方位について～

小学生の地図帳 P9・10



5月 日()

名前

方位じしんをつかった方位のしらべ方

方位じしんをつかうと、
方位をしらべることが
できるよ！



色のついたはりは、つねに を
さすようになっているよ！

1

の方こうをむいて、
方位じしんが、 になるように、
※たいらにすること。
 におく。



2

はりの動きが 、はりの色の
ついた方に文字ばんの を合わせる。



3

文字ばんから を読みとる。

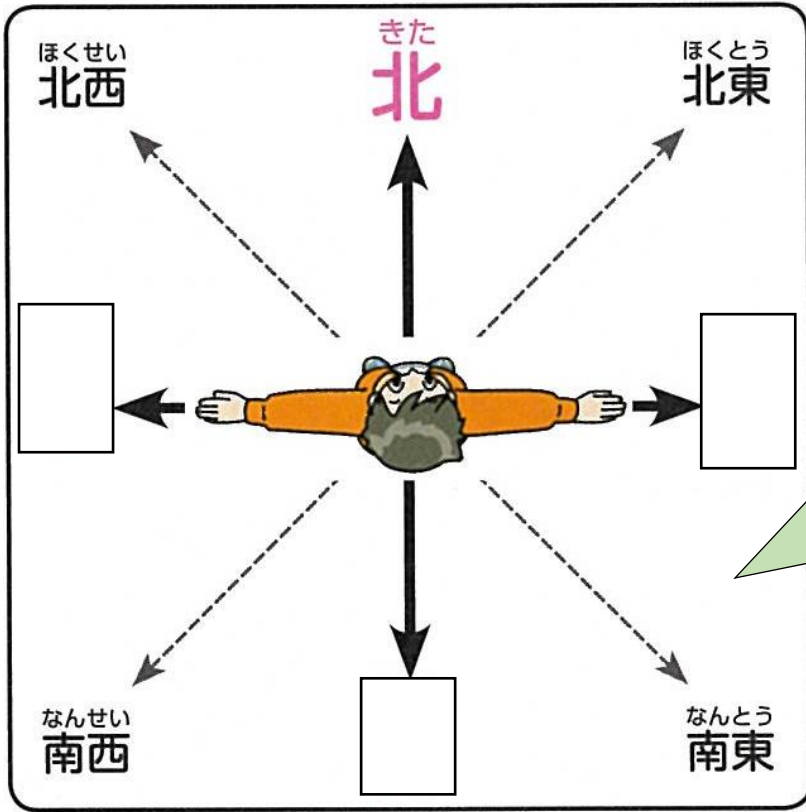


地図ちょうの P9 を見ながら
 をうめよう！

この場合の山の方位は、 になるね！

方こうをあらわす「方位」

どちらの方こうに何があるかを正しくあらわすには、
をつかうよ。東西南北という や、さらに細かくしめした
 があるよ。



北の方こうをむいて立った場合、右手が 、左手が 、せ中が の方こうになるよ！

地図から方位を読みとろう

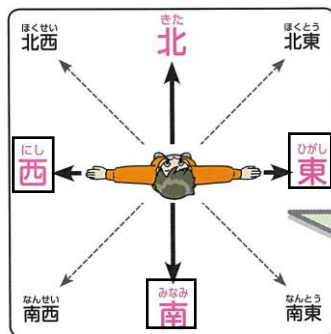
地図ちょうのP10をすべて読みながら、トライ！の5つの問題に答えよう。おわったら〇もつけよう。（※地図ちょうの一番下に答えがあるよ！）

.....ここから おりかえて 学しゅうしよう。おわったら丸をつけよう。.....

プリントの解答

色のついたはりは、つねに **北** をさすようになっているよ！

- 1 しらべるもの、水平、手のひら
- 2 止まったら、北
- 3 方位



北の方こうをむいて立った場合、右手が **東**、左手が **西**、せ中が **南** の方こうになるよ！

この場合の山の方位は、**西** になるね！

どちらの方こうに何があるかを正しくあらわすには、 **方位**

をつかうよ！

東西南北という **4方位** や、さらに細かくしめした **8方位**

があるよ！


☆3年たからあつめプリント☆

～社会・地図記号～

小学生の地図帳 P11・12

5月 日()

名前
















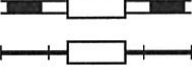



地図記号をおぼえよう

ものの形から生まれた地図記号



地図帳のP12を見ながら、下のひょうの空いているところに、地図記号や名前を書いてみよう！

地図記号	地図記号のもとになったもの	地図記号	地図記号のもとになったもの
けいさつしょ 警察署	 けいさつかん も 警察官が持って いる けいぼう 警棒を こうさ 交差させた形。	 	ゆ 湯のわき出す ところと ゆ 湯けむりを く 組み合わせた形。
しょうぼうしょ 消防署	 むかし かじ 昔、火事のと きに ひろ 火の広がりを防 ぐ ためにつか ために使った さすまたの形。		いね 稲をかりと った あとのき あとの切り株の かた 形。
じんじや 神社	 じんじや い 神社の入り口 などにある とりい 鳥居の形。		まい 2枚の子葉の形。
 	 ほん ひら 本を開いたとき の かた 形。	かじゅえん 果樹園	りんごやなし などのくだもの を よこ 横から見た形。
 はくぶつかん 博物館・ びじゅつかん 美術館	 はくぶつかん びじゅつかん 博物館や美術館 などのたてもの かた 建物の形。	 	はし 橋を上から み 見た形。
しろあと 城跡	 しろ 城をつくる ときに はった なわの形。	 	せんろ えき 線路と駅を うえ 上から見た形。

丸でかこむと、べつ
ものをあらわす
地図記号もあるよ！



× こうばん
交番



⊗ けいさつしょ
警察署

○ まちやくば
町役場
むらやくば
村役場



◎ しやくしょ
市役所

文字や記号から生まれた地図記号

地図記号	地図記号のもとになったもの	地図記号	地図記号のもとになったもの
	<p>むかし きょういく ぶん か 昔、教育や文化 などにかか る しごと 仕事をしていた もん ぶ しょうもん 文部省の「文」を きごう 記号にしたもの。</p>		<p>むかし ゆうびん 昔、郵便を あつかっていた ていしんしょう 逓信省の「テ」を きごう 記号にしたもの。</p>
	<p>むかし えいせいたい しるし 昔の衛生隊の印を きごう 記号にしたもの。</p>		<p>ぶっきょう つか 仏教で使われる まんじ きごう 「卍」を記号にした もの。</p>
			<p>じいん (てら) 寺院 (寺)</p>

その他の地図記号

地図記号	地図記号のもとになったもの	地図記号	地図記号のもとになったもの
	<p>たてもの たち かんけい 建物の形に関係 なく、市の中しん 心にあることを イメージしたもの。</p>		<p>たてもの 建物とつえを あ 合わせたもの。</p>
しやくしよ 市役所		らうじん 老人ホーム	

地図記号を使った地図を読みとろう

地図ちょうの P11 ④の地図を見て、P12のトライ!の2つの問題に

答えよう。おわたたら〇もつけよう。(※地図ちょうの一番下に答えがあるよ!)

.....ここから おりかえて 学しゅうしよう。おわたたら丸をつけよう。.....

プリントの解答

ものの形から生まれた地図記号

⊗ (けいさつしよ)、
 Y (しょうぼうしよ)、
 冂 (しんじゃ)、

、

、

文字や記号から生まれた地図記号

文 、

その他の地図記号

☆3年たからあつめプリント☆

～社会・きよりのもとめ方～

小学生の地図帳P13・14



5月 日()

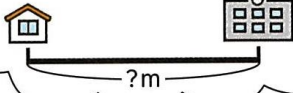
名前

地図で実さいのきよりをもとめるには・・・

①ものさしでしらべたいたてものと

たてものの間の長さをはかろう！

ちず
地図でも、
じっさい
実際のきよりを
もと
求めることはできるのかな。



地図の上では、
3cm・・・。

②地図の中にある「地図のものさし」をさがして、地図上の1cmがじっさいには何mなのかしらべよう。



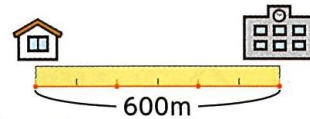
この場合は、
1cmが200mだね！

③さい後に計算してじっさいの長さをもとめよう！

1cmで200mということは、
2cmで400m。
3cmだから…600m！

かけ算でももとめることができるね！
200mの3つ分だから…
 $200 \times 3 = 600$
答え 600m

ちず
「地図のものさし」を使えば、
じっさい
実際のきよりがわかるよ。



実さいのきよりをもとめてみよう！

地図ちょうのP13のトライ！の2つの問題に答えよう。おわったら〇もつけよう。（※地図ちょうの一番下に答えがあるよ！）

たからさがしにちょうせんしよう！

地図ちょうのP14のトライ！をよく読んで、たからをさがそう。たからはどのはこの中に入っているかな？おわったら〇もつけよう。

（※地図ちょうの一番下に答えがあるよ！）