

さんすう① なかま づくりと かず

【よういするもの】

- きょうかしよ1(ぱんだが かいてあるもの) 1ぺえじ~2ぺえじ
- ひっきようぐ
- けいさんスキルアップ 2ぺえじ

★がくしゅうのめあて

かずを かぞえましょう

(1)きょうかしよ 1ぺえじを ひらきましょう。

しゃしんの こどもたちは なにをしているかな。
しゃしんを みて どんなことが わかるかな。
おうちのひとに、おはなし しましょう。

- ①うへのしゃしん
- ②まんなかのしゃしん
- ③したのしゃしん


(2)きょうかしよ 2ぺえじ。

おいしいのは、どちらかな。おいしいほうを まるで かこみましょう。


- ①うへのしゃしん



- ②まんなかのしゃしん



- ③したのしゃしん



(3)けいさんスキルアップに とりくみましょう ➡おうちのひとにまるをつけてもらいましょう。

- 2ぺえじ

さんすう②

たりるかな

【よいするもの】

- きょうかしょ 1 3ぺえじ～5ぺえじ
- ひっきようぐ

★がくしゅうのめあて

かずをかぞえて かずがたりるか かんがえましょう ①

(1)きょうかしょ 3ぺえじ

- ①こあらしんに かさはたりますか。 かずをかぞえて くらべましょう。
- ※こあらと かさを せんでおすふと わかりやすいよ。



- ②□に それぞれのかずをかいて、たりるか たりないか、どちらかを まるで かこみましょう。

こあら

かさ

かさは たります ・ たりません

(2)きょうかしょ 3ぺえじ

- ①うさぎさんは みんな いちりんしゃに のれますか。 かずをかぞえて くらべましょう。
- ※うさぎと いちりんしゃを せんでおすふと わかりやすいよ。



② □に それぞれのかずをかいて、 たりるか たりないか・ のれるか、 のれないかの どちらかを まるで かこみましょう。

うさぎ

いちりんしゃ

いちりんしゃは

たります

・

たりません

うさぎさんはみんな

のれます


・

のれません

(3)きょうかしょ 4ぺえじ、5ぺえじ

①くまさんに いすは たりますか。かずを かぞえて くらべましょう。

せんでむすんでかんがえよう



○□に それぞれのかずをかいて、たりるか たりないか、どちらかを まるで かこみましょう。

① くま

いす

いすが

たります

・

たりません

くまさんが

おいしいです

・

すくないです

② ちょうちょうさんに ちゅうりっぷは たりますか。かずを かぞえて くらべましょう。
せんでおすんでかながえよう



○□に それぞれのかずをかいて、おおいか すくないか・たりるか たりないかの
どちらかをまるでかこみましょう。

② ちょうちょう

ちゅうりっぷ

ちょうちょうが おおいです ・ すくないです

ちゅうりっぷが おおいです ・ すくないです

ちゅうりっぷは たります ・ たりません

(4) けいさんスキルアップにとりくみましょう → おうちのひとに まるをつけてもらいましょう。

○3ぺえじ

さんすう③ おなじ かずの なかまをさがそう

【よいするもの】

- きょうかしょ1 6ぺえじ～9ぺえじ
- ひっきようぐ ○いろえんぴつ

★がくしゅうのめあて

おなじ かずの なかまを さがしましょう ①

(1)きょうかしょ6ぺえじ、7ぺえじをひらきましょう。

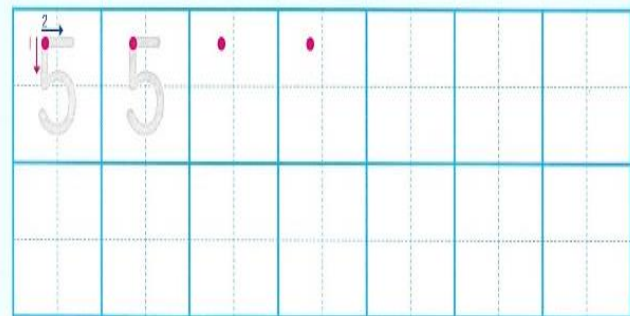
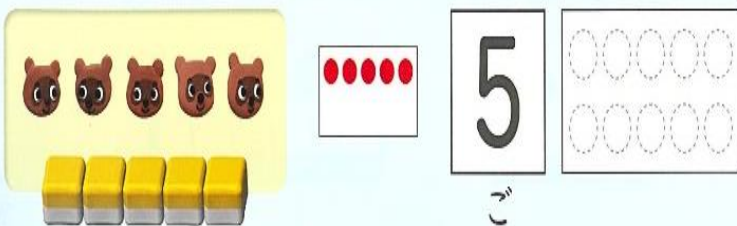


①どんな どうぶつたちが なにをしているのか、おうちのひとにおはなしをしよう。

②たぬきさんと おなじ かずの なかまをさがし あかいろで まるをしましょう。




たぬきさんは 5ひき。 かずは「ご」と いいます。すうじで『5』と かきます。



③5のすうじを きょうかしょ8ぺえじの おてほんをみながら ていねいにかきましょう。

④かずと おなじかずだけ、あかいろをぬりましょう。

(2)きょうかしょ 6ぺえじ、7ぺえじをひらきましょう。

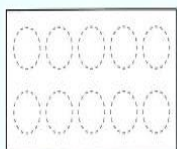




①くまさんと おなじ かずの なかまをさがして あおいろで まるをしましょう。

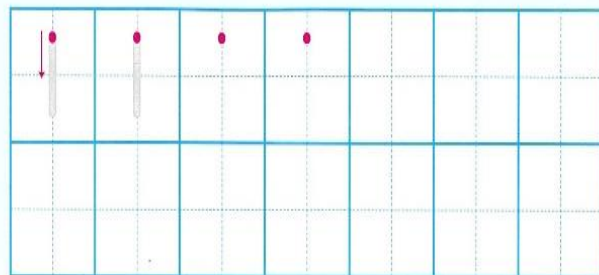


くまさんは、1ぴき。 かずは「いち」といいます。すうじで『1』とかきます。

かずをかこう



いち



②1のすうじを きょうかしょ8ぺえじの おてほんをみながら ていねいにかきましょう。

③かずと おなじかずだけ、あかいろをぬりましょう。

保護者の方へ たぬきさんと同じかず・ランドセル、ぼうし、はなかざり
くまさんと同じ数・時計、オルガン、先生、テレビ、

さんすう④ おなじ かずの なかまを さがそう

【よいするもの】

○きょうかしょ 6ぺえじ～9ぺえじ

○ひっきようぐ ○いろえんぴつ

○けいさんスキルアップ 4ぺえじ

★がくしゅうのめあて

おなじ かずの なかまを さがしましょう ②

(1)きょうかしょ 6ぺえじ、7ぺえじをひらきましょう



①ぱんださんと おなじ かずの なかまを、さがして あかいろで まるをしましょう。



ぱんださんは、2ひき。かずは「に」といいます。すうじで『2』とかきます。

②かばさんと おなじ かずの なかまを、さがして あおいろで まるをしましょう。



かばさんは、3ひき。かずは「さん」といいます。すうじで『3』とかきかす。


③うさぎさんと おなじ かずの なかまを、さがして みどりいろで まるをしましょう。



うさぎさんは、4ひき。かずは「し」といいます。すうじで『4』とかきます。


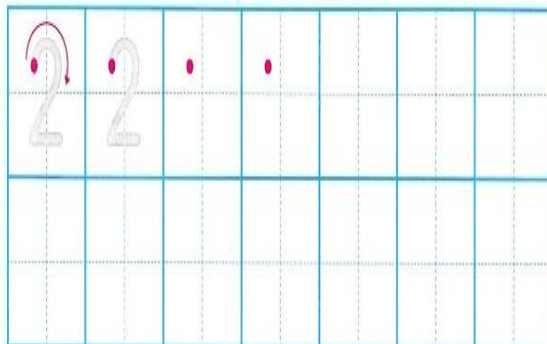
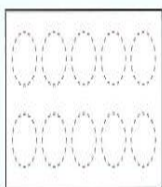
④すじを きょうかしよ8ぺえじの おてほんをみながら ていねいにかきましょう。

かずと おなじかずだけ、あかいろをぬりましょう。



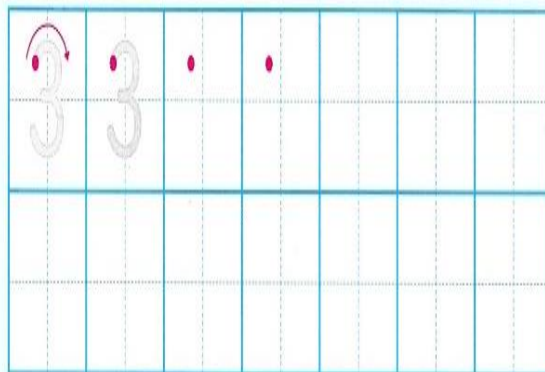

2

に



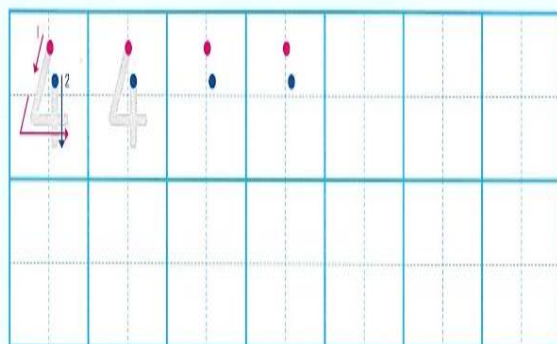
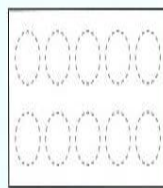
3

さん



4

し



(2)けいさんスキルアップにとりくみましょう➡ おうちのひとにまるをつけてもらおう。

○4ぺえじ

保護者の方へ ぱんださんと同じ数・黒板消し、ボール、ごみ箱
 かばさんと同じ数・・・えんぴつ、きつね、じょうろ
 うさぎさんと同じ数・筆箱、机、椅子、袋

※書き順やバランスが整っているか、お子さんと一緒に確認をお願いします。

さんすう⑤

かぞえよう

【よういするもの】

○きょうかしよ 8ぺえじ〜10ぺえじ

○ひっきようぐ











○けいさんスキルアップ 5ぺえじ

★がくしゅうのめあて

かずを かぞえましょう

(1)きょうかしよ 10ぺえじ

①えをみて かずをかぞえて いくつあるか □にかずを かきましょう。

	<input type="text"/>		<input type="text"/>
だい		つ	
	<input type="text"/>		<input type="text"/>
ほん		びき	
	<input type="text"/>		<input type="text"/>
つ		つ	
	<input type="text"/>		<input type="text"/>
つ		ほん	
	<input type="text"/>		<input type="text"/>
つ		ほん	

(2)おうちに あるものを いろいろ かぞえてみよう。

(3)けいさんスキルアップにとりくみましょう ➡おうちのひとにまるをつけてもらいましょう。

○5ぺえじ

さんすう⑥ 5はいくつと いくつ

【よいいするもの】

- きょうかしよ 12ぺえじ～13ぺえじ
- ひっきようぐ
- けいさんスキルアップ 6ぺえじ

★がくしゅうのめあて

いくつと いくつとで 5になるか かんがえましょう

(1)きょうかしよ 12ぺえじをひらこう

おはじきを5ことりました。



①しゃしんの4にんが とりだした おはじきは あかがなんこで あおが なんこでしょう。

●しょうごさん

しょうごさん (boy) has 4 blue flowers and 2 yellow flowers. The sentence is:
 4 blue flowers が [] こ, 2 yellow flowers が [] こ

○みささん

みささん (girl) has 4 blue flowers and 1 yellow flower. The sentence is:
 4 blue flowers が [] こ, 1 yellow flower が [] こ

●せいらさん

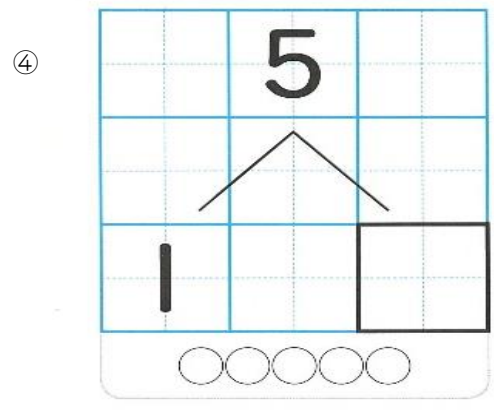
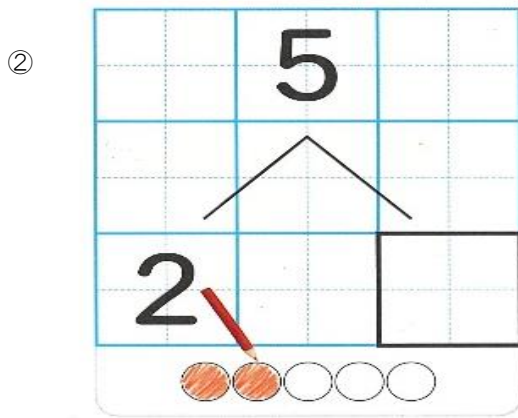
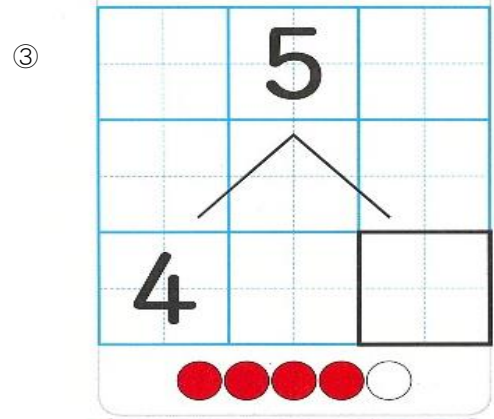
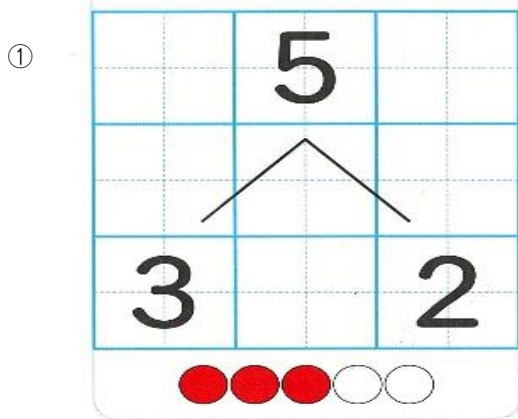
せいらさん (girl) has 3 blue flowers and 3 yellow flowers. The sentence is:
 3 blue flowers が [] こ, 3 yellow flowers が [] こ

○けんとさん

けんとさん (woman) has 1 blue flower and 4 yellow flowers. The sentence is:
 1 blue flower が [] こ, 4 yellow flowers が [] こ

(2)きょうかしよ 13ぺえじを ひらこう

①いくつと いくつで 5になるか かんがえて かきましょう。



(3)5かいずつ よみましょう

- ① 5(ご)は 3(さん) と2(に)
- ② 5(ご)は 2(に) と3(さん)
- ④ 5(ご)は 4(し) と1(いち)
- ③ 5(ご)は 1(いち) と4(し)

(4)けいさんスキルアップにとりくみましょう ➡おうちのひとにまるをつけてもらいましょう。

○6ぺえじ

さんすう⑦ おなじ かずの なかまを さがそう

【よういするもの】

- きょうかしよ1 14ぺえじ～15ぺえじ
- ひっきようぐ ○いろえんぴつ

★がくしゅうのめあて


おなじ かずの なかまを さがしましょう

(1)きょうかしよ14ぺえじ、15ぺえじをひらきましよう。

①どうぶつたちが どんなことをしているのか、おうちのひとに おはなしましよう。



②いぬさんと おなじ かずの なかまを さがして、あかいろで まるを しましよう。



いぬさんは 6ひき。かずは「ろく」といいます。すうじで「6」とかきます。

③ねこさんと おなじ かずの なかまを さがして、あおいろで まるを しましよう。



ねこさんは 7ひき。かずは「しち」といいます。すうじで「7」とかきます。



④ぶたさんと おなじ かずの なかまを さがして きいろで まるを しましょう。




ぶたさんは 8ひき。かずは「はち」といいます。すうじで『8』とかきます。

⑤りすさんと おなじ かずの なかまを さがして あかいろで まるを しましょう。



りすさんは 9ひき。かずは「く」といいます。すうじで『9』とかきます。

⑥ねずみさんと おなじ かずの なかまを さがして あおいろで まるを しましょう。



ねずみさんは10ひき。かずは「じゅう」といいます。すうじで『10』とかきます。

保護者の方へ

いぬさんと同じ・・・バケツ
ねこさんと同じ・・・一輪車

りすさんと同じ・・・どろだんご、あり

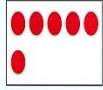

ねずみさんと同じ・・・木

ぶたさんと同じ・・・しゃべる

⑦すうじを きょうかしよ16ぺえじの おてほんを みなから ていねいに かきましょう。

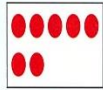
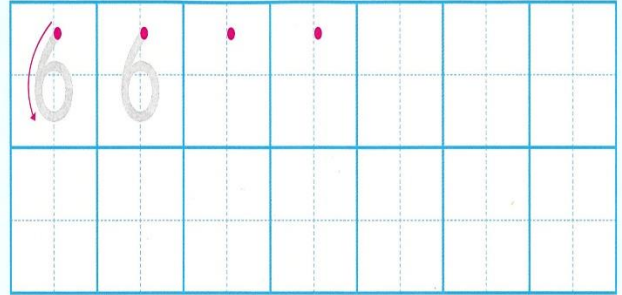
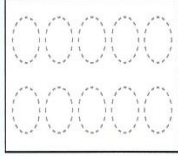
また、かずと おなじかずだけ、あかいろをぬりましょう。

かずをかこう





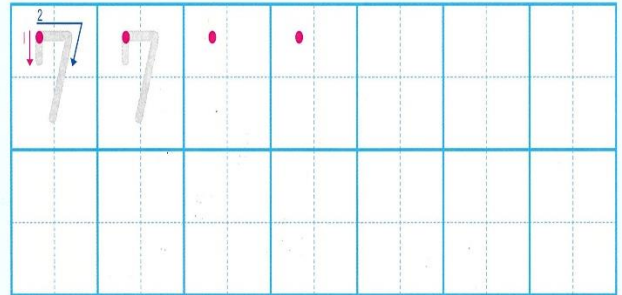
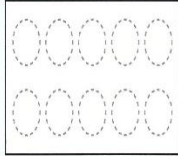
6

ろく





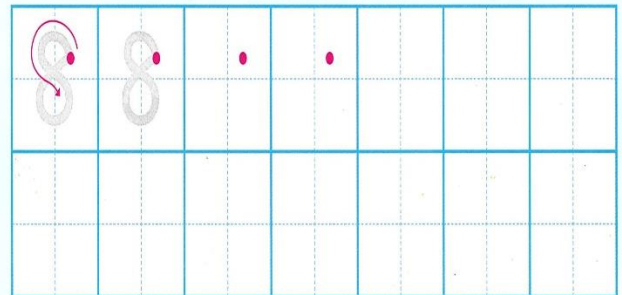
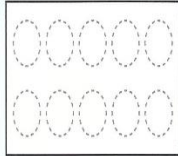
7

しち





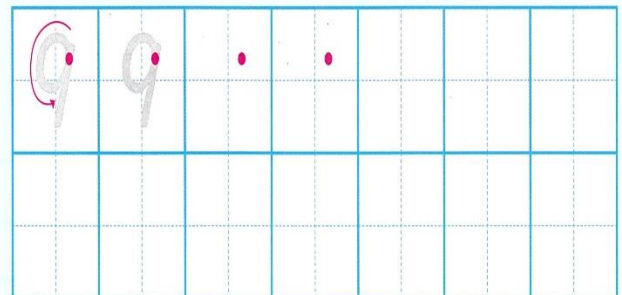
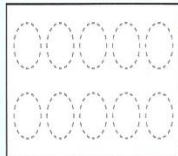
8

はち



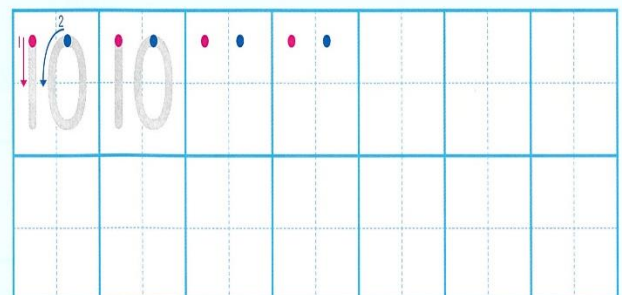
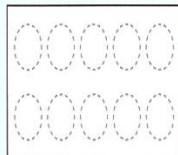
9

く



10

じゅう



さんすう⑧ かぞえよう

【よいするもの】

- きょうかしよ 18ぺえじ～19ぺえじ
- ひっきようぐ
- けいさんスキルアップ 7ぺえじ 8ぺえじ

★がくしゅうのめあて

かずを かぞえましょう

(1)きょうかしよ 18ぺえじ

①えをみて かずをかぞえて いくつあるか □にかずを かきましょう。

かぞえよう




ひき




こ




ひき



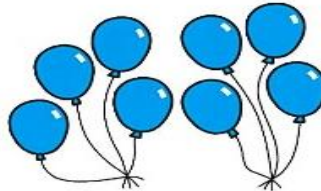
ひき




ほん



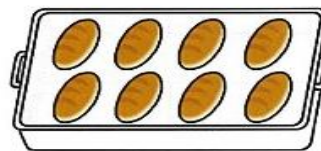
こ



こ



こ



こ



こ

(2)きょうかしよ 19ぺえじ


①おなじ かずどうしを せんで おすびましよう。



せんで むすぼう




10



7

6



9

8



(3)おうちに あるものを いろいろ かぞえてみましよう。

(4)けいさんアップスキルに とりくみましよう →おうちのひとに まるをつけてもらおう。

①7ぺえじ

②8ぺえじ

さんすう⑨ 6は いくつと いくつ

【よいするもの】

- きょうかしよ1 20ぺえじ~21ぺえじ
- ひっきようぐ

★がくしゅうのめあて

いくつと いくつで 6になるか かんがえましょう

(1)きょうかしよ 20ぺえじを ひらきましょう。

ぶろっくが 6こあります。



①かかしている ぶろっくの かずをかきまましょう。

Illustration of hands holding 5 blocks. Below is a box with the number '5' and a 2x2 grid.

Illustration of hands holding 4 blocks. Below are two empty 2x2 grids.

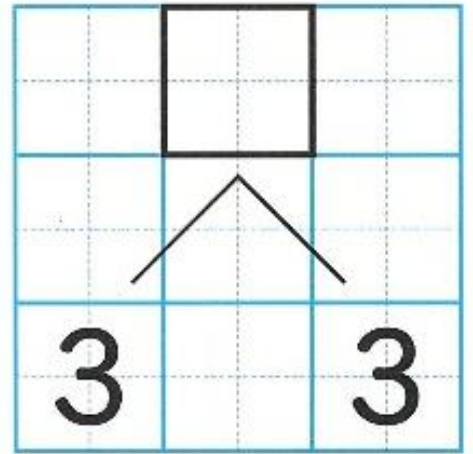
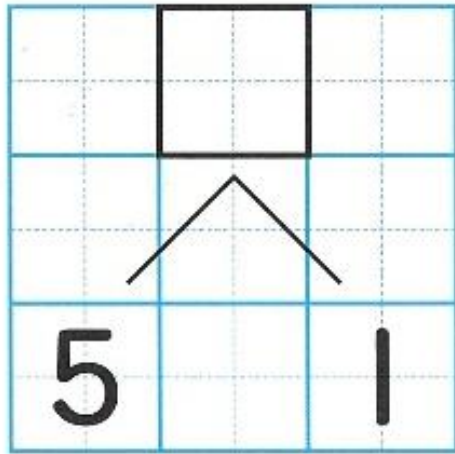
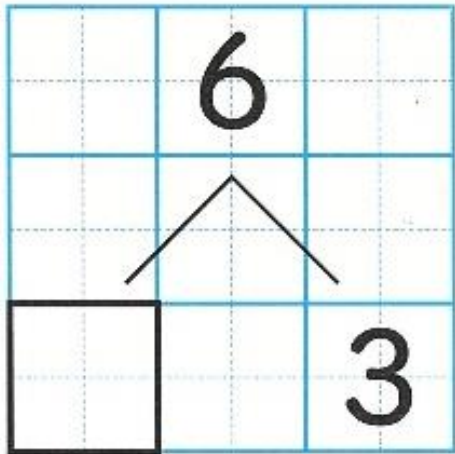
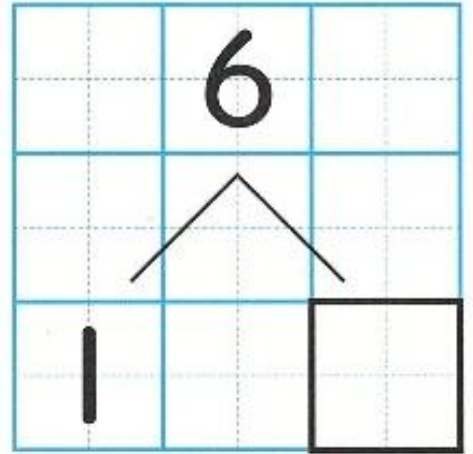
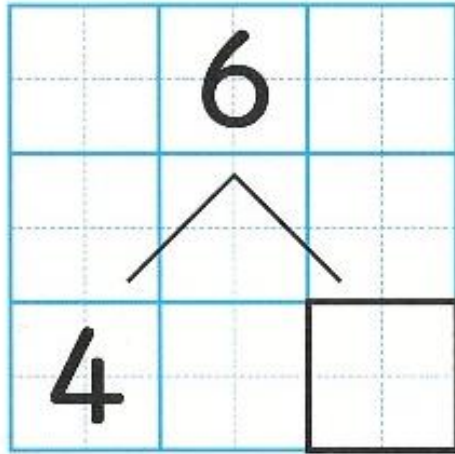
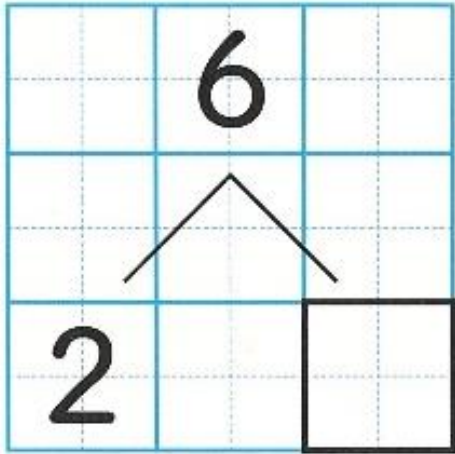
Illustration of hands holding 3 blocks. Below are two empty 2x2 grids.

Illustration of hands holding 2 blocks. Below are two empty 2x2 grids.

Illustration of hands holding 1 block. Below are two empty 2x2 grids.

いくつと いくつで 6になるかな。

② いくつと いくつで 6になるか かんがえて かきましょう。



③ 5かいずつ よみましょう

6(ろく)は

1(いち)と

5(ご)

6(ろく)は

2(に)と

4(し)

6(ろく)は

3(さん)と

3(さん)

6(ろく)は

4(し)と

2(に)

6(ろく)は

5(ご)と

1(いち)

さんすう⑩ 7は いくつと いくつ

【よいするもの】

○きょうかしよ 22ぺえじ～23ぺえじ

○ひっきようぐ

★がくしゅうのめあて







いくつと いくつで 7になるか かんがえましよう

(1)きょうかしよ 22ぺえじを ひらきましよう。

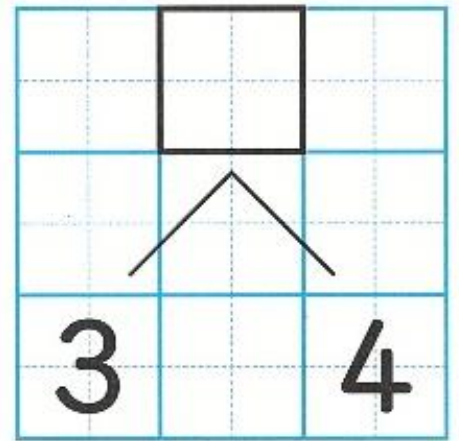
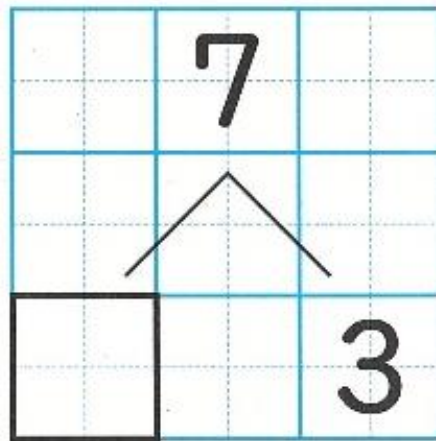
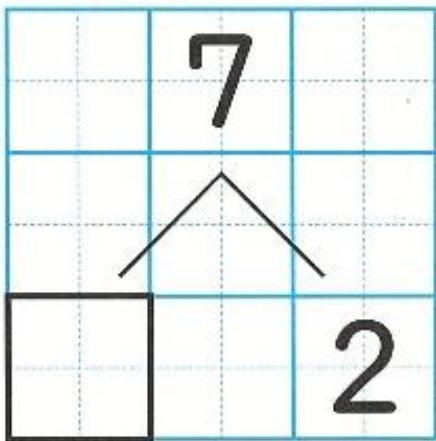
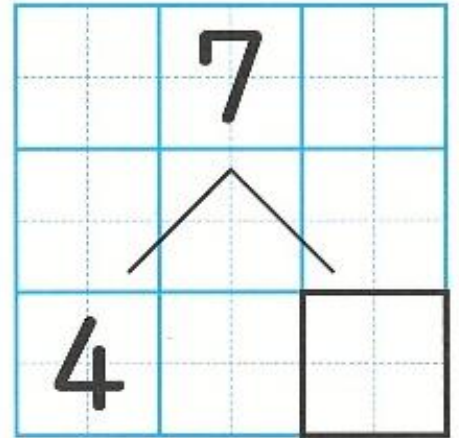
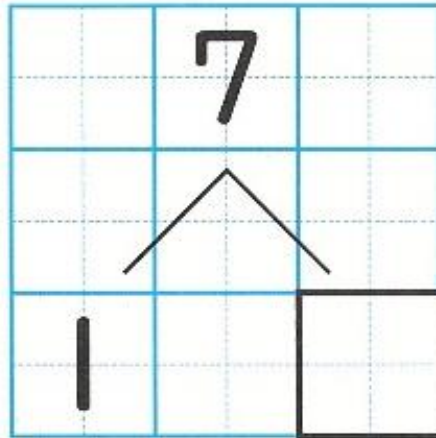
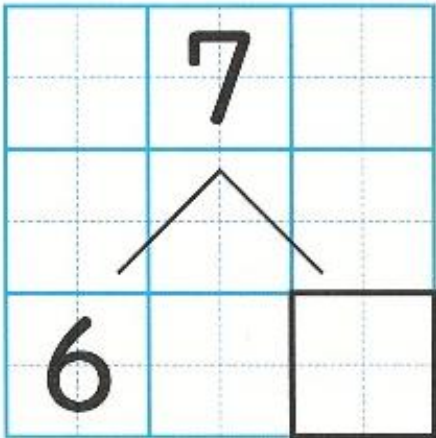
ぶろっくが7こあります



①かかしている ぶろっくの かずを かきましよう。



②いくつと いくつで 7になるか かんがえて かきましょう。



③5かいずつ よみましょう

7(しち)は 1(いち)と 6(ろく)

7(しち)は 2(に)と 5(ご)

7(しち)は 3(さん)と 4(し)

7(しち)は 4(し)と 3(さん)

7(しち)は 5(ご)と 2(に)

7(しち)は 6(ろく)と 1(いち)

さんすう⑪ かぞえよう

【よいするもの】

- きょうかしよ 21ぺえじ～23ぺえじ
- ひっきようぐ
- けいさんスキルアップ 9ぺえじ

★がくしゅうのめあて

かずを かぞえましょう




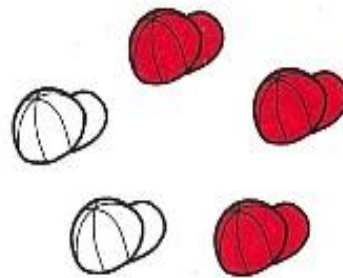

(1)きょうかしよ 21ぺえじ、23ぺえじ

①えをみて かずを かぞえましょう。

かぞえたら しかくのなかに かずを かきましょう。

かぞえよう

3と3で…。


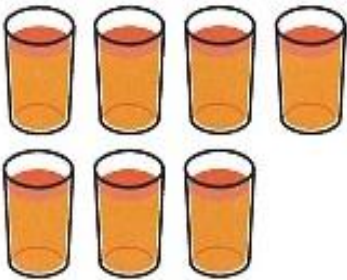
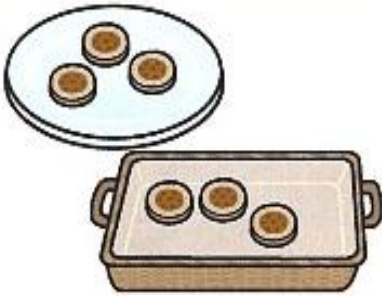




②えをみて かずを かぞえましょう。

かぞえたら しかくのなかに かずを かきましょう。

かぞえよう

2と5で...



(2)けいさんスキルアップに とりくみましょう ➡おうちのひとに まるをつけて もらいましょう。

①9ぺえじ

さんすう⑫ 8は いくつと いくつ


【よいするもの】

- きょうかしよ 24ぺえじ〜25ぺえじ
- ひっきようぐ

★がくしゅうのめあて

いくつと いくつで 8になるか かんがえましょ

(1)きょうかしよ 24ぺえじを ひらきましょ。



5と3で8。



①2まいのかあどで 8に しましょ。

5 と

2 と

7 と

4 と

1 と

6 と

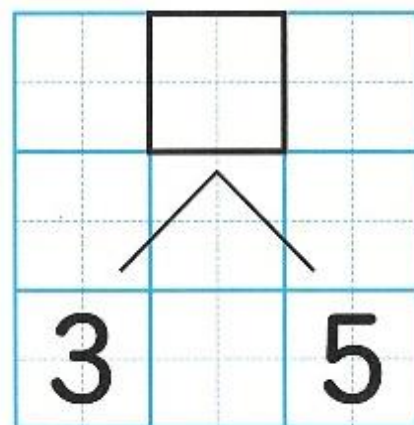
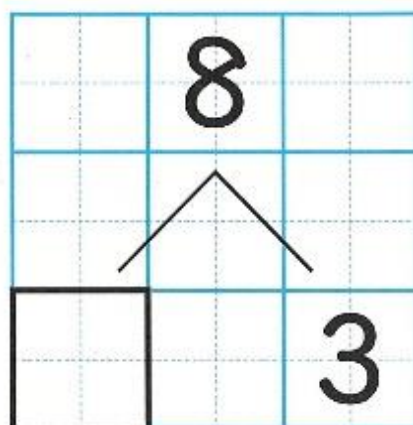
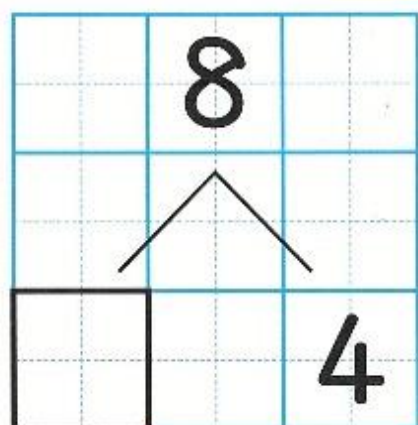
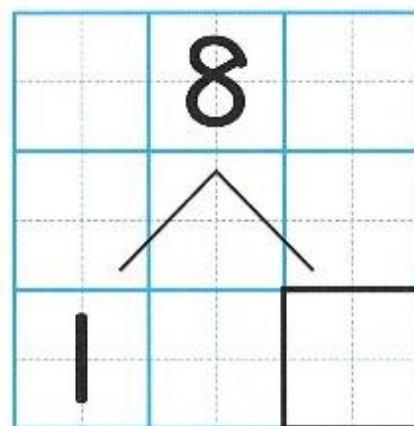
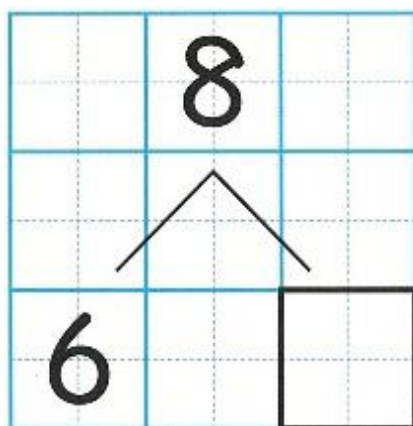
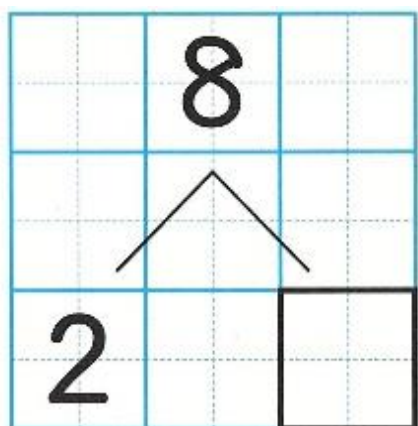
3 と

②8は いくつと いくつか かんがえて かきましょ。

	8	
/ \		
5		

	8	
/ \		
		5

	8	
/ \		
7		



③5かいずつ よみましょう。

8(はち)は

1(いち)と

7(しち)

8(はち)は

2(に)と

6(ろく)

8(はち)は

3(さん)と

5(ご)

8(はち)は

4(し)と

4(し)

8(はち)は

5(ご)と

3(さん)

8(はち)は

6(ろく)と

2(に)

8(はち)は

7(しち)と

1(いち)

さんすう⑬ 9は いくつと いくつ

【よいするもの】

- きょうかしよ 26ぺえじ~27ぺえじ
- ひっきようぐ

★がくしゅうのめあて

いくつと いくつで 9になるか かんがえましょう

(1)きょうかしよ 26ぺえじを ひらきましよう。

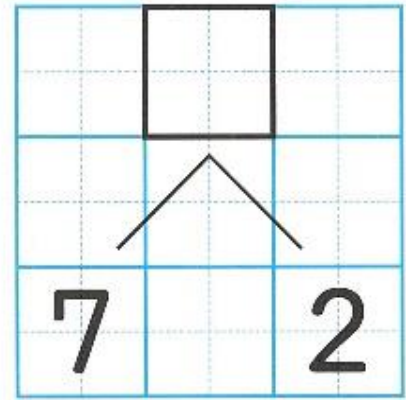
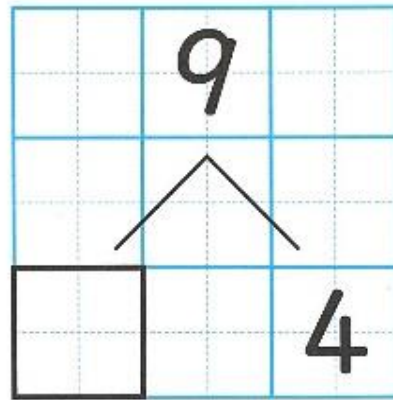
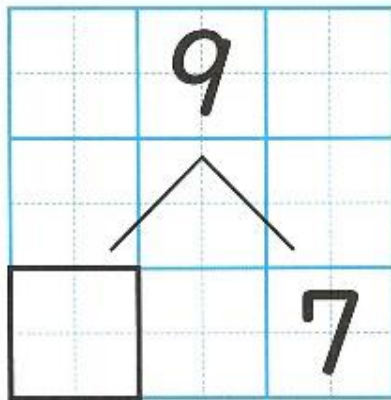
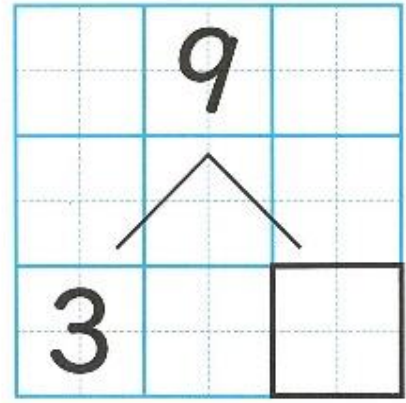
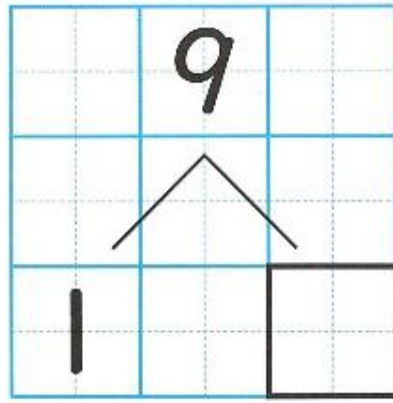
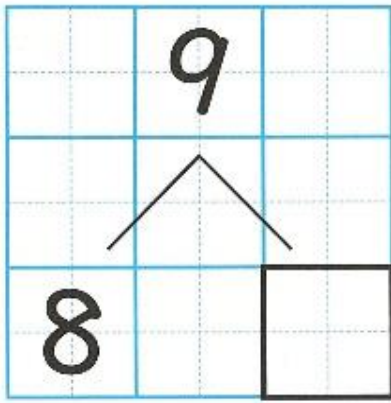


①2まいの かあどで 9にましよう。

5 と <input style="width: 40px; height: 40px;" type="text"/>	6 と <input style="width: 40px; height: 40px;" type="text"/>	2 と <input style="width: 40px; height: 40px;" type="text"/>
1 と <input style="width: 40px; height: 40px;" type="text"/>	7 と <input style="width: 40px; height: 40px;" type="text"/>	3 と <input style="width: 40px; height: 40px;" type="text"/>
4 と <input style="width: 40px; height: 40px;" type="text"/>	8 と <input style="width: 40px; height: 40px;" type="text"/>	

②9は いくつと いくつか かんがえて かきましよう。

<table border="1" style="width: 100%; height: 100%;"> <tr><td></td><td>9</td><td></td></tr> <tr><td colspan="3" style="text-align: center;">/ \</td></tr> <tr><td>5</td><td></td><td></td></tr> </table>		9		/ \			5			<table border="1" style="width: 100%; height: 100%;"> <tr><td></td><td>9</td><td></td></tr> <tr><td colspan="3" style="text-align: center;">/ \</td></tr> <tr><td></td><td></td><td>5</td></tr> </table>		9		/ \					5	<table border="1" style="width: 100%; height: 100%;"> <tr><td></td><td>9</td><td></td></tr> <tr><td colspan="3" style="text-align: center;">/ \</td></tr> <tr><td>6</td><td></td><td></td></tr> </table>		9		/ \			6		
	9																												
/ \																													
5																													
	9																												
/ \																													
		5																											
	9																												
/ \																													
6																													



③5かいずつ よみましょう

9(く)は

1(いち)と

8(はち)

9(く)は

2(に)と

7(しち)

9(く)は

3(さん)と

6(ろく)

9(く)は

4(し)と

5(ご)

9(く)は

5(ご)と

4(し)

9(く)は

6(ろく)と

3(さん)

9(く)は

7(しち)と

2(に)

9(く)は

8(はち)と

1(いち)

さんすう⑭ かぞえよう

【よいするもの】

○きょうかしよ 25ぺえじ・27ぺえじ

○ひっきようぐ

○けいさんスキルアップ 10ぺえじ



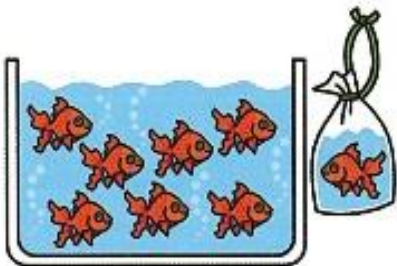
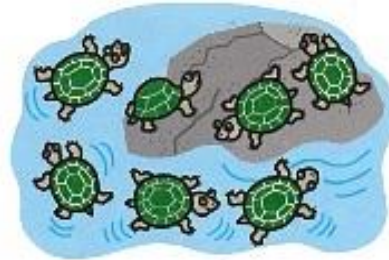

★がくしゅうのめあて

かずを かぞえましょう

(1)きょうかしよ 25ぺえじ・27ぺえじ

① えをみて かずを かぞえましょう。

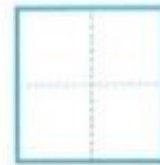



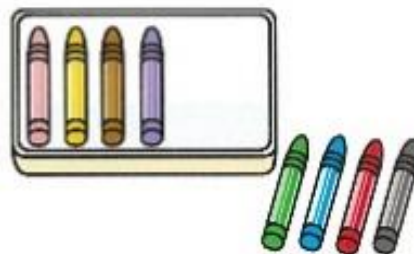

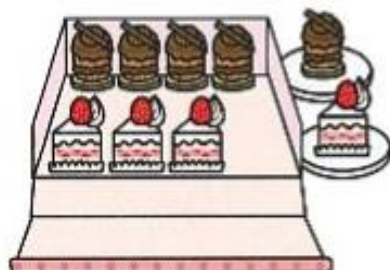

かぞえたら しかくのなかに かずを かきましょう。



②えをみて かずを かぞえましょう。

かぞえたら しかくのなかに かずを かきましょう。

かぞえよう



(2)けいさんスキルアップに とりくみましょう ➡おうちのひとに まるをつけて もらいましょう。

①10ぺえじ

さんすう⑩ 10は いくつと いくつ

【よいするもの】

- きょうかしよ 28ぺえじ～29ぺえじ
- ひっきようぐ
- けいさんスキルアップ 11ぺえじ

★がくしゅうのめあて

いくつと いくつで 10になるか かんがえましょう

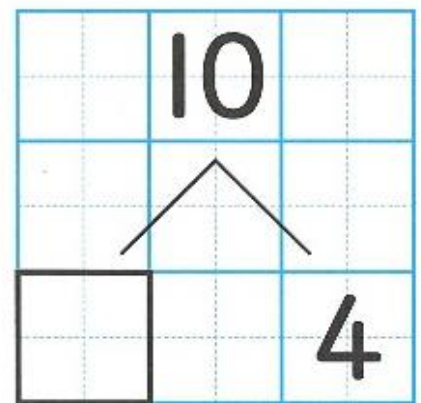
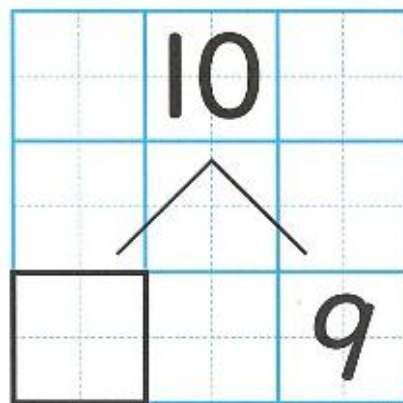
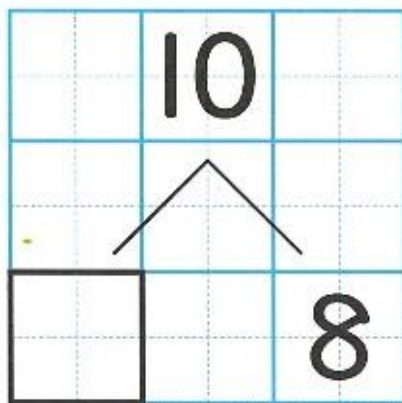
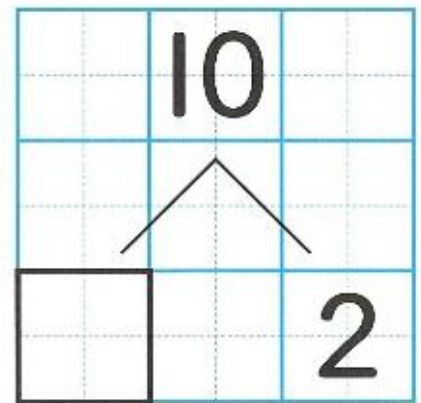
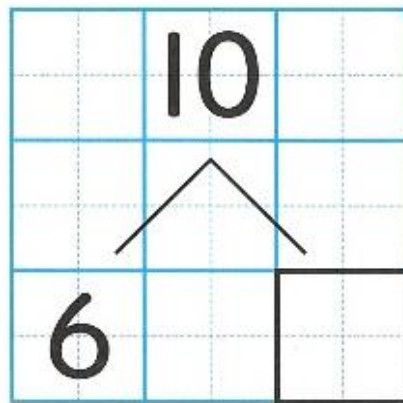
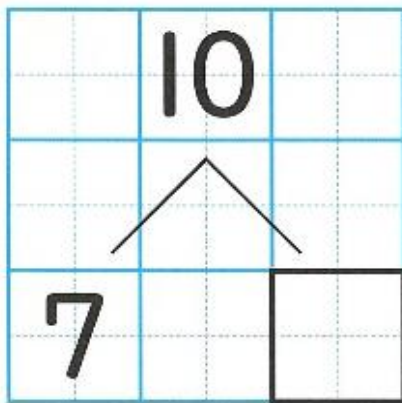
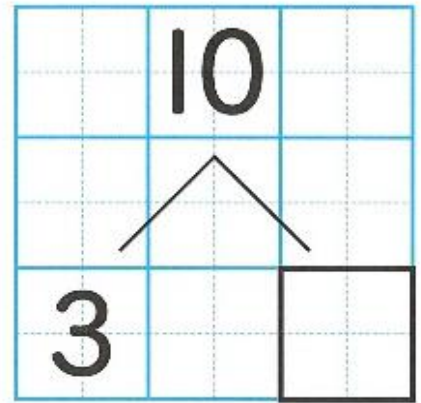
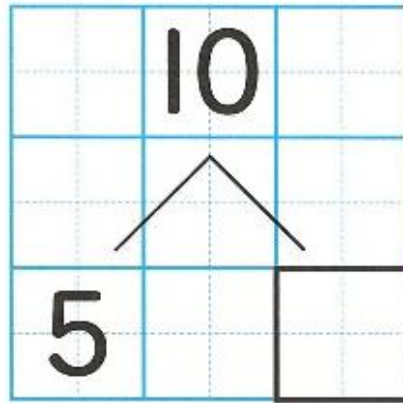
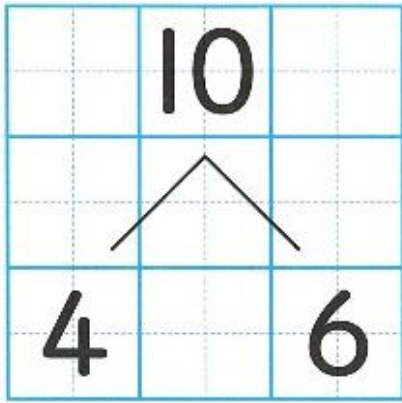
(1)きょうかしよ 28ぺえじを ひらきましょう。

● 10は いくつと いくつ

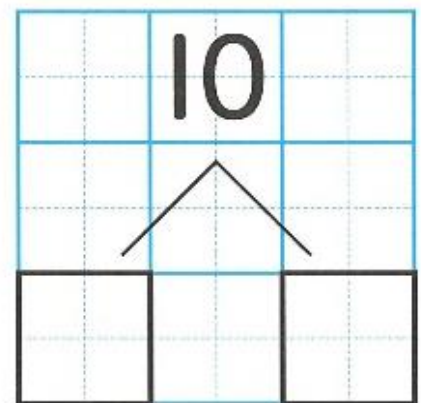
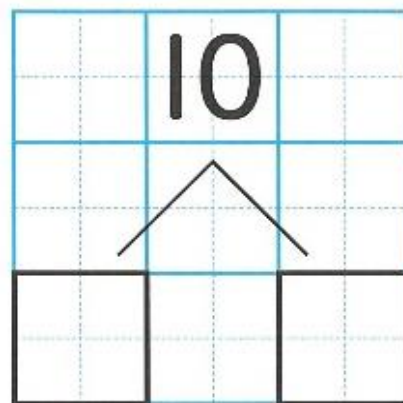
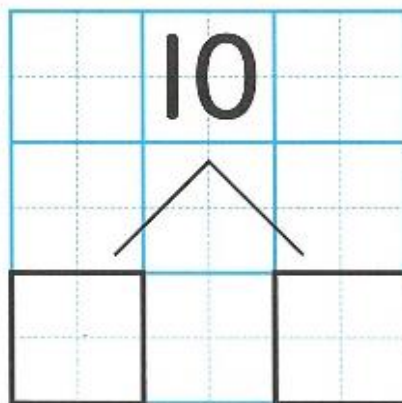


①いくつと いくつで 10になるか かんがえてかきましょう。

10	は		4	と	6
				と	
				と	
				と	
				と	
				と	
				と	
				と	
				と	
				と	



じぶんでかずを
きめてみよう。



②5かいつつ よみましょう。

10(じゅう)は	1(いち)と	9(く)
10(じゅう)は	2(に)と	8(はち)
10(じゅう)は	3(さん)と	7(しち)
10(じゅう)は	4(し)と	6(ろく)
10(じゅう)は	5(ご)と	5(ご)
10(じゅう)は	6(ろく)と	4(し)
10(じゅう)は	7(しち)と	3(さん)
10(じゅう)は	8(はち)と	2(に)
10(じゅう)は	9(く)と	1(いち)

チャレンジ!!

2つの かずで 10を つくります。

たて、よこ、ななめ でみつけて、せんで かこみましょう。

5	1	2	4	6	6	1	2	8	9
5	4	8	5	9	3	4	3	6	3
3	9	7	3	1	5	2	7	1	2
1	4	8	6	5	5	4	2	9	3
3	7	2	5	6	1	8	3	5	7

(2)けいさんスキルアップに とりくみましょう →おうちのひとに まるをつけて もらいましょう。

①11ぺえじ

さんすう⑩ かぞえよう

【よいするもの】




- きょうかしょ 31ぺえじ～33ぺえじ
- ひっきょうぐ

★がくしゅうのめあて

かずを かぞえたり おおきを くらべたりしましょう


(1)きょうかしょ 31ぺえじ

①えをみて かずをかぞえましょう。かぞえたら しかくに かずをかきましょう。

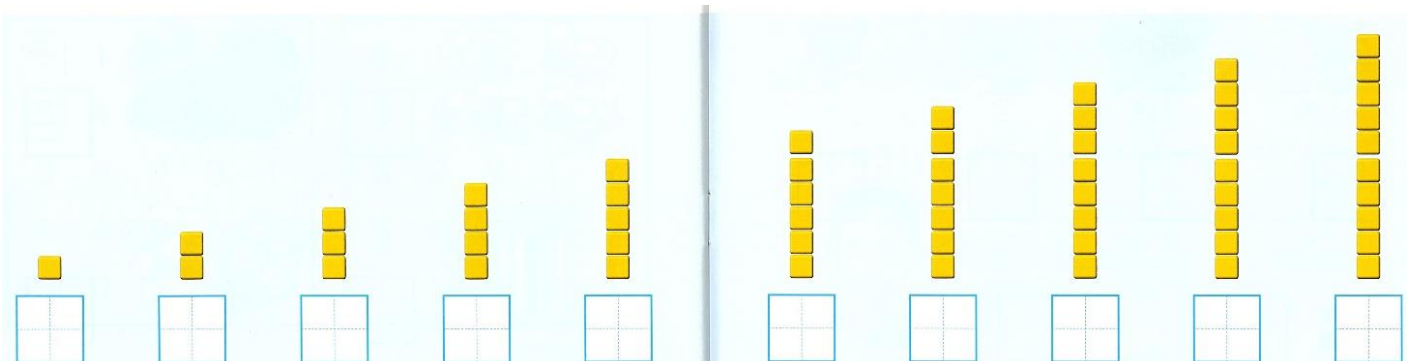
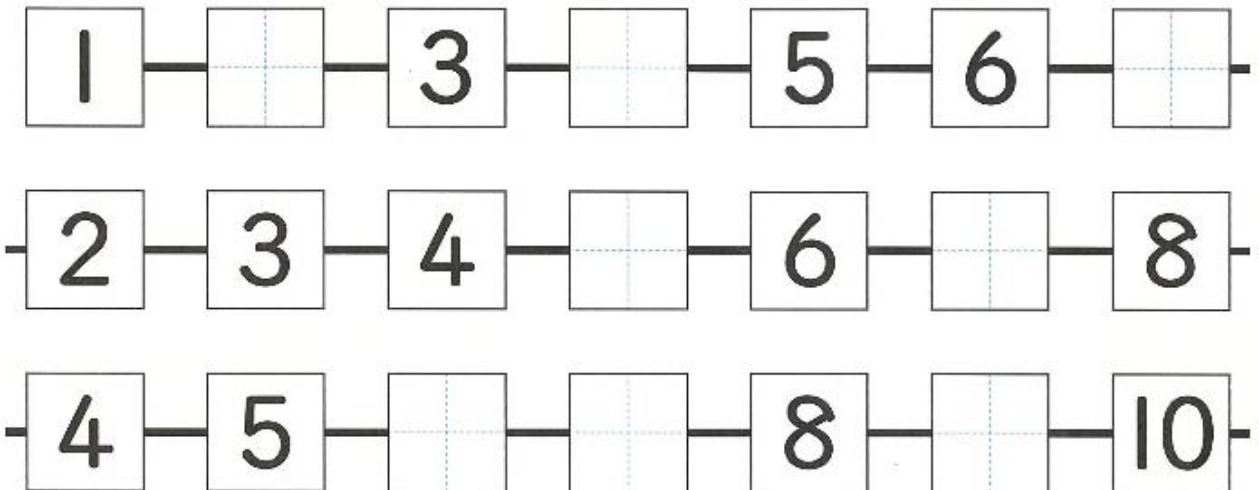
(2)きょうかしょ 32ぺえじ、33ぺえじ

①おおきいほうに まるをつけましょう。



②しかくに すじをかきましょう。

1 2 3 4 5 6 7 8 9 10



さんすう⑰ 0という かず

【よいするもの】

- きょうかしょ 34ぺえじ～35ぺえじ
- ひっきようぐ
- けいさんスキルアップ 12ぺえじ、13ぺえじ

★がくしゅうのめあて

1つも ないときの いいかたを しりましょう

(1)きょうかしょ 34ぺえじ

①いぬさんと うさぎさんと ねこさんが わなげをしました。

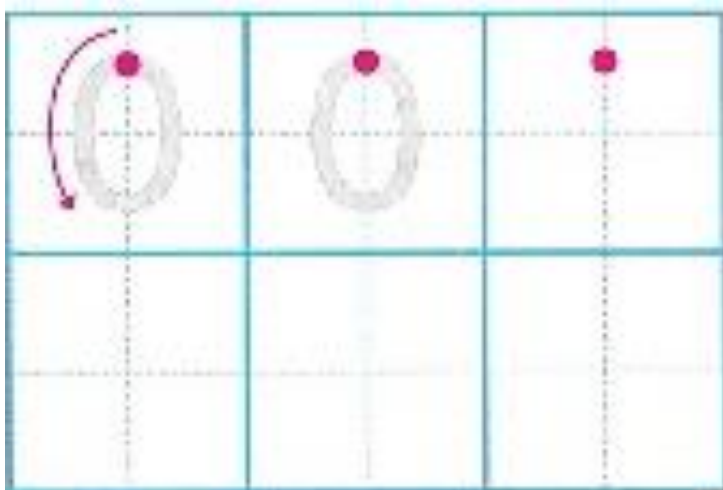


②いぬさんは3つ うさぎさんは2つ ねこさんは ひとつもはいりませんでした。





なにもないとき かずは「れい」といいます。すうじで『0』とかきます。

③すうじを おてほんを みなから ていねいに かきましょう。

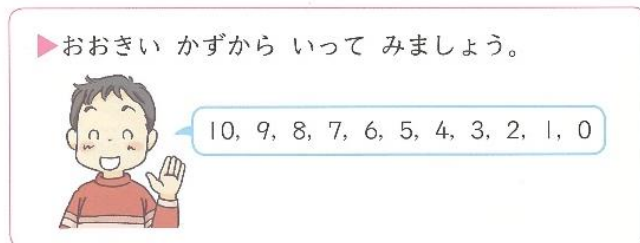
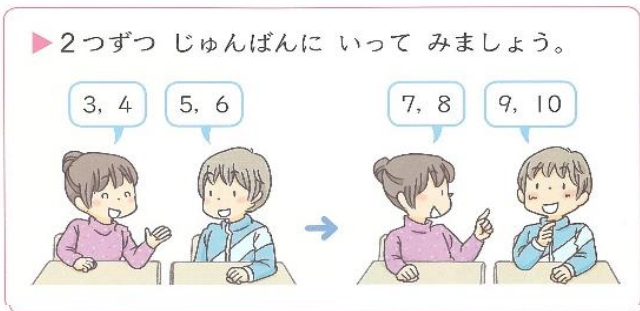


(2) かずを かぞえて しかくに かきましょう。



(3) きょうかしょ 35ぺえじを ひらきましょう。

こえにだしていいましょう。おうちのひとに きいてもらいましょう。



(4) けいさんスキルアップに とりくみましょう ➡ おうちのひとに まるをつけて もらいましょう。

① 12ぺえじ

② 13ぺえじ