


だい2かい こまっこ けいさんけんてい



なまえ【 】

◆いくつといくつでしょう。□にすうじをかきましょう。

- ① 6 は 3 と ② 8 は 3 と ③ 7 は と 5
- ④ 10 は と 4 ⑤ 10 は 8 と ⑥ 10 は 5 と


◆たしざんをしましょう。

- ① $1 + 3 =$ ② $2 + 5 =$ ③ $6 + 4 =$
- ④ $7 + 1 =$ ⑤ $4 + 5 =$ ⑥ $10 + 0 =$
- ⑦ $3 + 4 =$ ⑧ $3 + 7 =$

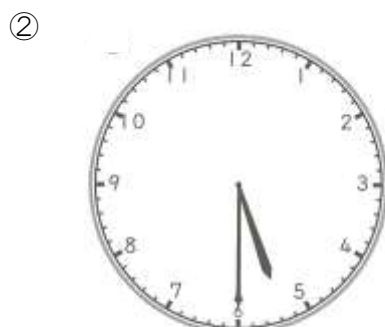
◆ひきざんをしましょう。

- ① $7 - 4 =$ ② $9 - 3 =$ ③ $5 - 1 =$
- ④ $2 - 2 =$ ⑤ $10 - 1 =$ ⑥ $8 - 0 =$
- ⑦ $9 - 3 =$ ⑧ $10 - 4 =$

◆どけいをよみましょう。

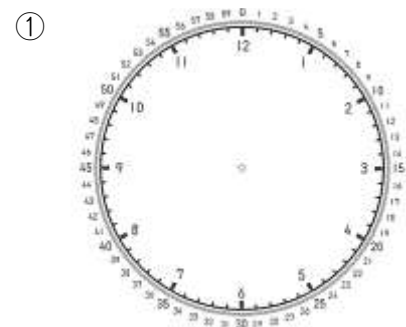


()



()

◆どけいのはりをかきましょう。



8じはん

だい2かい こまっこ けいさんけんてい



なまえ【 】

◆いくつといくつでしょう。□にすうじをかきましょう。

② 6 は 3 と 3 ② 8 は 3 と 5 ③ 7 は 2 と 5

④ 10 は 6 と 4 ⑤ 10 は 8 と 2 ⑥ 10 は 5 と 5

◆たしざんをしましょう。

① $1 + 3 = 4$

② $2 + 5 = 7$

③ $6 + 4 = 10$

④ $7 + 1 = 8$

⑤ $4 + 5 = 9$

⑥ $10 + 0 = 10$

⑦ $3 + 4 = 7$

⑧ $3 + 7 = 10$

◆ひきざんをしましょう。

① $7 - 4 = 3$

② $9 - 3 = 6$

③ $5 - 1 = 4$

④ $2 - 2 = 0$

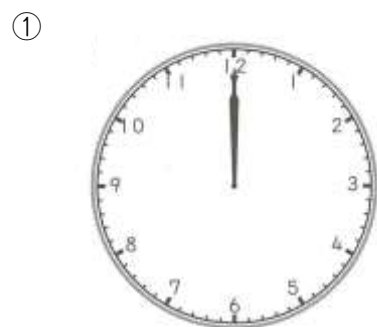
⑤ $10 - 1 = 9$

⑥ $8 - 0 = 8$

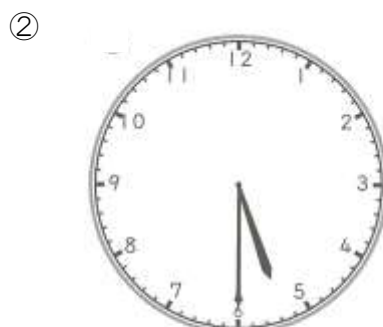
⑦ $9 - 3 = 6$

⑧ $10 - 4 = 6$

◆とけいをよみましょう。

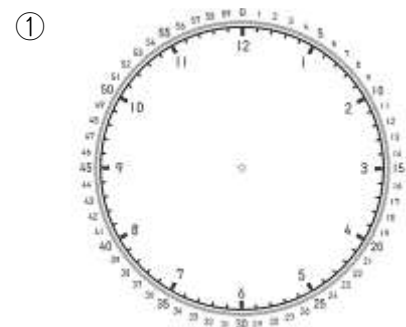


(12じ)



(5じはん)

◆とけいのはりをかきましょう。



8じはん