

保護者の皆さまへ

引き続き、ご理解とご協力をいただき、ありがとうございます。3週目の課題をホームページにアップロードしました。よろしくお願いいたします。また、いつでも学校が始まって大丈夫なように、以下のノートの準備をお願いいたします。

国語：12マス（十字リーダー入り）

漢字練習帳：50字（十字リーダー入り）

算数：17マス



なかざわ先生

せいかつかのやさいつくりでは、上白ねようちえんのはたけをおかします。みんなはどんなおやさいをうえたいですか？たのしみ！




2年生のみなさん

かていがくしゅうの3週目になりました。コツコツとがんばっていると思います。


ぼぼ先生

さいきんぼぼ先生はいえのまわりをたんけんしています。ふだんいかないところに行くと、あたらしいはっけんがあってもたのしいですね！！



ふく田先生は、スイーツ作りに、チャレンジしました！

アップルパイとシュークリームと、チョコパイを作ってみました☆



5/25 (月) の しゅうの ずこうかだい

「コロコロ大きくせん！」

1 じゅんびするもの

〈ボディーのざいりょう〉



〈コロコロエンジン〉



- ・いろがみや がようし など
- ・サインペンや クレヨンや いろえんぴつ
- ・はさみ
- ・のりや テープ

2 アドバイス

- ・きょうかしよの 22ページを 見ると イメージがしやすいです。
- ・ころがす さかみちの かくどを かえて たのしもう。

3 おてほん

ふくだ先生は・・・


- ・ ボディーに 「かみコップ」、エンジンに「ゴルフボール」



- ・ かざりつけに 「おりがみ」と「シール」と「ペン」



- ・ 「おりがみ」で パーツをつくります



・それぞれの パーツを 合わせて・・・



「ベロベロおばけ」の かんせいです!!!

・ころがしてみると・・・

さかみちに ボールと
おばけを セット!



※ボールにのせるだけ!

手を はなすと・・・



スイ~~~~



ピタッ



※ひとつできて 時間があったら ちがうボディーと
コロコロエンジンを くみあわせてみよう♪

かん字れんしゅう ①

☆プリントアウトをして、つかってもいいですし、かん字ノートに同じように書いてもよいです。

				おも 思	おも 思
				い	心
				で	(し) おも(う) 画)
				おも 思	おも 心
				い	9 思 1
				で	10 心 2
				おも 思	11 心 3
				い	12 心 4
				で	13 田 5
				おも 思	14 田 6
				い	15 思 7
				で	16 思 8

かん字れんしゅう

②

日	記	記	
き	き	記	
日	記	(しるす)	読み方
記	記	(10 画)	
日	記	1	一
き	記	2	一
日	記	3	一
き	記	4	一
日	記	5	一
き	記	6	一
日	記	7	一
き	記	8	一

かん字れんしゅう ③

や	肉	月	曜
き	肉	曜	曜
に	肉	日	よ
く	肉	月	う
	(6 画)		(18 画)
ま	1	9	1
		曜	曜
に	2	10	2
く	肉	曜	曜
		日	日
	3	11	3
	肉	曜	曜
		日	日
	4	12	4
	肉	曜	曜
		日	日
に	5	13	5
く	肉	曜	曜
		日	日
	6	14	6
	肉	曜	曜
		日	日
	7	15	7
		曜	曜
		日	日
に	8	16/18	8
く		曜	曜
		日	日

かん字れんしゅう

④

はなす	はなす	話	話
はなす	はなす	(わ)	読み方
はなす	はなす	(画)
はなす	はなす	1	1
はなす	はなす	2	2
はなす	はなす	3	3
はなす	はなす	4	4
はなす	はなす	5	5
はなす	はなす	6	6
はなす	はなす	7	7
はなす	はなす	8	8

しどし (一日一ページやりかえり)

「たんぽぽのちえ」④

教科書四十一〜四十七ページ

- ☆ 今日のめあては「花がすっかりかれたころのたんぽぽのちえをとらえよう。」です。ノートに書きましょう。
- ☆ 「とき」をあらわすことばに気をつけて、四十四ページの九行目から四十五ページの四行目までを音読しましょう。
- ☆ たんぽぽはどんなちえをはたらかれていますか。ノートに書いてみましょう。
- ☆ わた毛のかたちからつかさんのよになっているのはなぜですか。ノートに書きましょう。
- ☆ 今日のおぐんきよらでわかったたんぽぽのちえについて思ったことをノートに書きましょう。




5月25日

	た	ん	ぽ	ぽ	の	ち	え			
	花	が	す	っ	か	り	か	れ	た	こ
の	た	ん	ぽ	ぽ	の	ち	え	を	と	ら
よ	う									
た	ん	ぽ	ぽ	の	ち	え	は	.	.	.
ら	っ	か	さ	ん	の	よ	う	に	な	っ
い	る	の	は			
わ	か	っ	た	こ	と	は	.	.	.	

「たんぽぽのちえ」⑥

教科書四十一〜四十七ページ

- ☆ 今日のおげんきようは、よく晴れた風のある日と、しめり気が多い日や、雨ふりの日のたんぽぽのちえをとらえましょう。今日のめあては「よく晴れて風のある日と、しめり気が多い日や、雨ふりの日のたんぽぽのちえをとらえよう。」です。ノートに書きましょう。
- ☆ 「とき」をあらわすことばに気をつけて、四十六ページ五行目から四十七ページ五行目までを音読しましょう。
- ☆ 晴れて風のある日と、しめり気が多い日や雨に日のたんぽぽはどのようにながいますか。ノートに書きましょう。
- ☆ なせしめり気が多い日や雨の日に、わた毛のらつかさんがしほむのでしょう。ノートに書いてみましょう。



ち 27 水

ら	つ	か	さ	ん	が	し	ほ	む	の	は	...
の	日	は	.	.	.						
し	め	り	気	の	多	い	日	や	雨	ふ	り
晴	れ	て	風	の	あ	る	日	は	.	.	.
と	ら	え	よ	う	.						
り	の	日	の	た	ん	ぽ	ぽ	の	ち	え	を
し	め	り	気	の	多	い	日	や	雨	ふ	り
	よ	く	晴	れ	て	風	の	あ	る	日	と

「同じぶぶんをもつかん字」

① 教科書五十八ページ

- ☆ 今日のめあては、「かん字の同じぶぶんを見つけよう。」です。ノートに書きましょう。
- ☆ 五十八ページのかん字を見て、同じぶぶんをもつかん字を見つけましょう。見つけたなかまにはどんなぶぶんが入っていましたか。ノートに書きましょう。
- ☆ 「石」と「右」、「見」と「貝」、「町」と「男」には、同じぶぶんがあります。それはなんでしょう。ノートに書きましょう。



ちがって木 (ちがって木) ちがって木

	同	じ	ぶ	ぶ	ん	を	も	つ	か	ん	字
	か	ん	字	の	同	じ	ぶ	ぶ	ん	を	見
	つ	け	て	な	か	ま	わ	け	を	し	よ
	う	。									
	村	林	木	森	本	休	に				
	は	す	べ	て	い	う	ぶ	ぶ	ん	が	
	あ	り	ま	す							
	石	と	右	い							

ようび

	見	と	貝	い						
	町	と	男	い						

たし算16ページ① 5 から にち ようびく)

1	2	3	4	5	6	7	8	9	10	+	-
---	---	---	---	---	---	---	---	---	----	---	---

3 2 + 4 を ひ 算 で し よ う

①

3 5



+ 1 2 と どこ が ち が う か な。

わたしのかんがえ

②

4 は どこ に 書 く の か な



ど ち ら か に ○ を し よ う

あ

い

3 2

3 2

+ 4

+ 4

正 か い は つ ぎ の ペ ー ジ !!

1 2 3 4 5 6 7 8 9 10 + -



正かいは(あ)です。

ポイント
4はなんのくらの
数がな...



なぜ(い)はまちがい
なのかな？

かんが

わたしの考え



きまり かん

2けたと1けたの数をたすときは、くらいを
そろえて計算します。

① 上のきまりをつかって計算しよう。

ア 43 + 51 7 + 52

+		

+		

16ページ③

5がう

にち

ようびく

う

1	2	3	4	5	6	7	8	9	10	+	-
ウ	3	+	7	0			エ	2	4	+	5

	+							+			

オ	6	+	7	3			カ	4	0	+	3
---	---	---	---	---	--	--	---	---	---	---	---

	+							+			

キ	7	+	9	0			ク	3	3	+	6
---	---	---	---	---	--	--	---	---	---	---	---

	+							+			



ぜんぶできましたか
 おうちの人に ○を打
 もらいまはう

たし算17ページ④ 5がっ にち ようび()

1	2	3	4	5	6	7	8	9	10	+	-
---	---	---	---	---	---	---	---	---	----	---	---

もんだい 1

ひろしさんは、35円の
ドーナツと29円のグミを
買います。

だいい金はいくらですか。



だいたいいくらに
なるかな?
29円を30円と考えると...

だいたい()円

しき

ひっ算しよう

										+	-	くら...
	3	5								3	5	
+	2	9								+	2	9
											1	4...5+9
											5	0...30+20
											6	4

くらごに
けいさんすると
一のくらに
入りきらな...

2だに
なっちゃう...

-のくらどうし
+のくらどうし

1 2 3 4 5 6 7 8 9 10 + -

ひっ算のしかたを考えよう

ポイント

十のくらい -のくらい



$$\begin{array}{r} + \\ 29 \end{array}$$

① くらいを

たてにそろえて書く

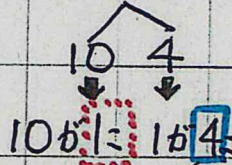
-のくらいの計算

$$5 + 9 = 14$$

10にならば
10のくらいで
うつるんだね

$$\begin{array}{r} + \\ 29 \\ \hline \\ 4 \end{array}$$

$$5 + 9 = 14$$



十のくらい -のくらい

② 十のくらいに1くり上げる。

$$\begin{array}{r} 1 \\ + \\ 29 \\ \hline 64 \end{array}$$

③ 十のくらいを計算する。

$$\text{くり上げた} 1 + 3 + 2 = 6 \dots 10が6に=60$$

$$35 + 29 = 64$$

たし算18ページ⑥ 5から 10に ようび

1 2 3 4 5 6 7 8 9 10 + -



一のくらのいの計算の答えが
10をこえるときは、十の
くらいに1くり上げる。

れんしゅうしよう

① $23 + 68$ ② $17 + 19$

+

+

③ $35 + 18$ ④ $16 + 49$

+

+

18ページの⑤⑥⑦⑧をノートに
書いて計算しよう。

どうとく ☆きょうかしよ 16ページ

「ひかり小学校のじまんはね」の勉強をします。

①きょうかしよを読むまえにかんがえよう。

かみしらね小学校のよいところって、どんなところかな。

②きょうかしよ「ひかり小学校のじまんはね」をよみましょう

③校ちょう先生に「いちばんのじまんは、げんきでやさしい子どもたちかな。」と言われてどう思ったでしょうか。

④18ページのさいごのぶんで、くすのきが一年生にどんなことをおしえるのかをたのしみになったのはどうしてだろう。かんがえて書いてみよう。