

たしかめよう
さんすう


なんじなんぷん

な
か
い
ん
くみ ばん

きほんの たしかめ




とけいの よみかた




7じ10ぷん

みじかい はりて
なんじを,
ながい はりて
なんぷんを よむよ。




7じ45ぷん


◆ なんじなんぷんですか。




()



()



()



()

〈こたえ〉 ① 8じ40ぷん ② 6じ20ぷん ③ 1じ35ぷん ④ 11じ27ぷん

たしかめよう
さんすう

みんなで なんにん

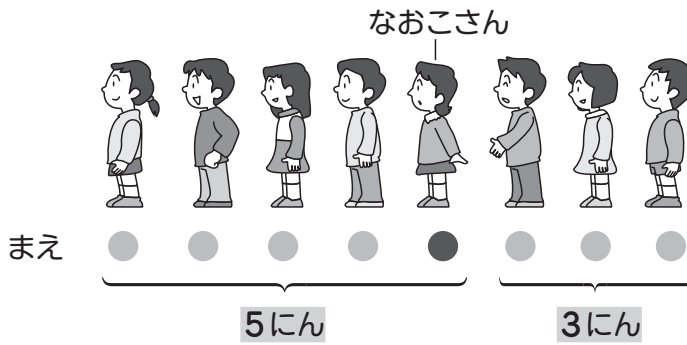
な
お
こ
さ
ん

くみ ばん

きほんの たしかめ



- なおこさんは まえから 5ばんめに います。なおこさんの うしろに 3にん います。みんなで なんにん いますか。



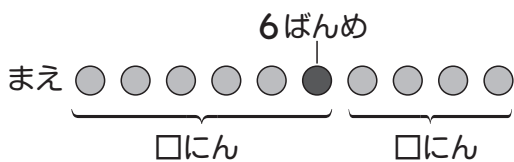
たしざんの しきに
なるね。



(しき) $5 + 3 = 8$

こたえ 8 にん

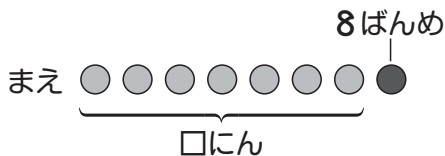
- 1 まさとさんは まえから 6ばんめに います。まさとさんの うしろに 4にん います。みんなで なんにん いますか。



(しき)

こたえ ()

- 2 けんたさんは、まえから 8ばんめに います。けんたさんの まえには なんにん いますか。



(しき)

こたえ ()



ひきざんの しきに なるね。

たしかめよう
さんすう


ものとひとのかず

なまえ
くみ ばん

きほんの たしかめ



● えんぴつが 9ほん あります。5にんに 1ぽんずつ わたと、
なんぼん のこりますか。




(しき) $9 - 5 = 4$

ひきざんの しきに
なるね。

こたえ 4 ほん


1 おりがみが 13まい あります。8にんに 1まいずつ
あげると、なんまい のこりますか。



(しき)

こたえ ()

2 6にんに 1こずつ みかんを あげました。みかんは まだ
2こ あります。みかんは ぜんぶで なんこ ありましたか。



(しき)

こたえ ()

たしかめよう
さんすう

おいほう すくないほう


なまえ

くみ ばん

きほんの たしかめ



●おとこのこが **6にん** います。おんなのこは おとこのこより **3にん** おい そうです。おんなのこは なんにん いますか。




えをみて
かんがえよう。



(しき) $\boxed{6} + \boxed{3} = \boxed{9}$


こたえ $\boxed{9}$ にん

1 たけしさんは あめを **8こ** もって います。まきさんは たけしさんより あめを **2こ** おおく もって います。まきさんは あめを なんこ もって いますか。



こたえ ()

2 いちごが **7こ** あります。みかんは いちごより **3こ** すくない そうです。みかんは なんこ ありますか。



こたえ ()

たしかめよう
さんすう


かたちづくり

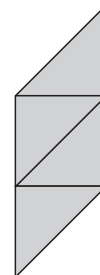
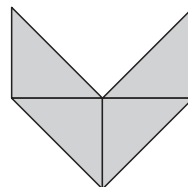
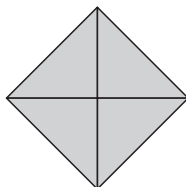
な
か
ん


くみ ばん

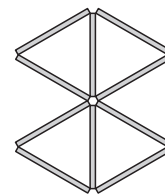
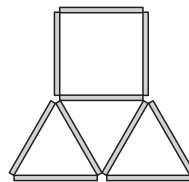
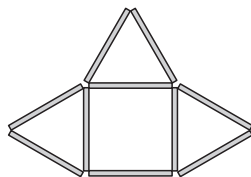
きほんの たしかめ




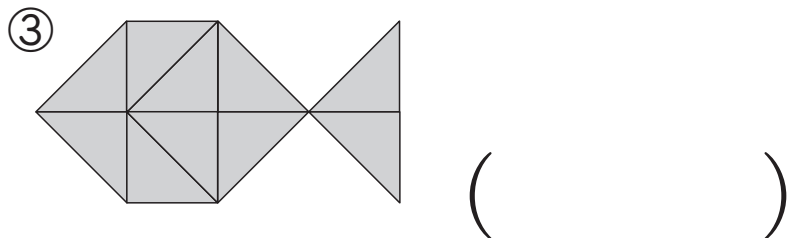
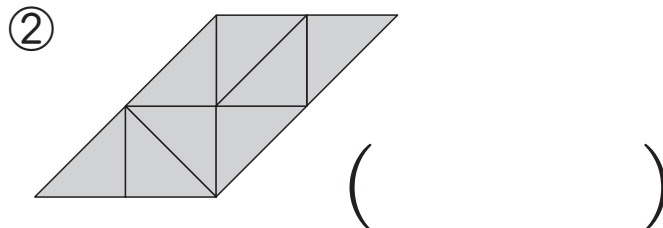
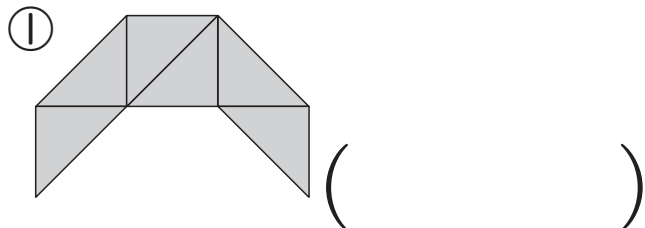
-  の いろいたを 4 まい
つかった かたち




-  の ぼうを 10 ぽん
つかった かたち



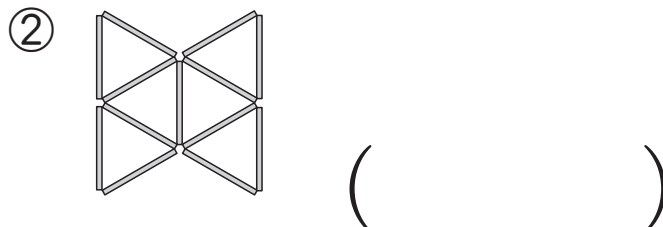
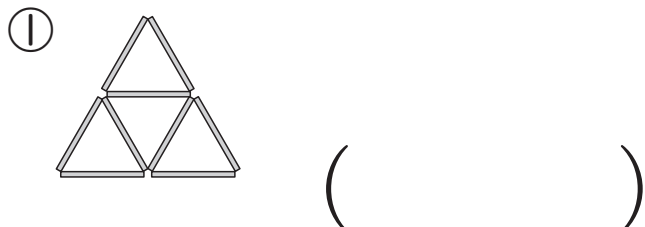
1  の いろいたを なんまい つかって いますか。



 を たくさん つかうと、
いろいろな かたちができるね。



2  の ぼうを なんぽん つかって いますか。



1ねん

1ねんで ならった

けいさんの まとめな
ま
え

くみ

ばん

1つ5てん

てん

1 たしざんを しましょう。

① $6+3$

② $2+4$

③ $9+2$

④ $7+5$

⑤ $6+8$

⑥ $9+9$

⑦ $0+6$

⑧ $50+20$

⑨ $60+4$

⑩ $32+5$

2 ひきざんを しましょう。

① $5-2$

② $10-7$

③ $12-9$

④ $14-8$

⑤ $16-7$

⑥ $13-4$

⑦ $5-5$

⑧ $70-30$

⑨ $58-8$

⑩ $96-4$