

書いた日にちを、記入しよう。

5月1日(金)

(46ページ) → 教科書のページを書く。

漢字の広場 (三年生で習った漢字)

① わたしの家は、**農**家です。春には、**畑**にたくさん

野菜のなえを **植**えます。


② **坂**道をのぼると、**お宮**があります。

読み方を横に書いてみるのもいいですね。

○ は、三年生で習った漢字です。

④ つづけて

書いてみましょう!!



⑤

書いた日にちも、記入しよう。

5月1日(金)

(60ページ)

カンジ―はかせの都道府県の旅 1

① 北海道では、じゃがいもが多く生産されている。

② 青森県は、ねぶた祭りが有名だ。

③ 教科書の文を、うつしてもいいです。

つづけて

文を書いてみましょう

・自分で、都道府県について調べて、文が書けたら、すばらしいですね!!

社会の地図帳も

使うとよいですね!!



1000万
1億

千万の位の左の位を、
一億の位といたします。

日本の人口は、
「一億二千七百七十九万七千二百五十九」人です。

1000万	1	0	0	0	0	0	0	0	0
1億	1	0	0	0	0	0	0	0	0

一億の位	1	2	7	7	0	7	2	5	9
千万の位	●	●	●	●	●	●	●	●	●
百万の位	●	●	●	●	●	●	●	●	●
十万の位	●	●	●	●	●	●	●	●	●
一万の位	●	●	●	●	●	●	●	●	●
千の位	●	●	●	●	●	●	●	●	●
百の位	●	●	●	●	●	●	●	●	●
十の位	●	●	●	●	●	●	●	●	●
一の位	●	●	●	●	●	●	●	●	●

世界の人口
7383009000人
(平成27年)

2 世界の人口は何人ですか。

万のときと同じように考えると、一億の位の左の位は…。

十億の位

一億の10倍を十億といい、1000000000と書きます。
また、十億の10倍を百億、百億の10倍を千億と
いいます。

1億	1	0	0	0	0	0	0	0	0
10億	1	0	0	0	0	0	0	0	0
100億	1	0	0	0	0	0	0	0	0
1000億	1	0	0	0	0	0	0	0	0

千億の位	1	0	0	0	0	0	0	0	0
百億の位	7	3	8	3	0	0	9	0	0
十億の位	●	●	●	●	●	●	●	●	●
千万の位	●	●	●	●	●	●	●	●	●
百万の位	●	●	●	●	●	●	●	●	●
十万の位	●	●	●	●	●	●	●	●	●
千万の位	●	●	●	●	●	●	●	●	●
百の位	●	●	●	●	●	●	●	●	●
十の位	●	●	●	●	●	●	●	●	●
一の位	●	●	●	●	●	●	●	●	●

世界の人口は、「七十三億八千三百九十九万九千」人です。

億になっても、万のときと同じように、一、十、百、千となっているね。

1 日本の人口を表す127707259という数について、左から3ばんめの7、右から4ばんめの7は、それぞれ何が何こあることを表していますか。

2 次の①～③の数を読みましょう。

- ① 茨城県の農業産出がく (平成29年)
千 百 十 一 千 百 十 一 万 千 百 十 一
4 9 6 7 0 0 0 0 0 0 0 0 0 0 (円)
- ② 7780000000(kg) ... 日本の米の生産量 (平成30年)
(平成31年 生産農業所得統計(農林水産省))
- ③ 24970000000(人) ... 全国の鉄道の乗客数 (平成29年度)
(鉄道輸送統計調査(国土交通省))

3 右の金がかくは、2016年に
行われたリオデジャネイロオリンピック・
パラリンピックの開さい予算です。
開さい予算はいくらですか。



2016年リオデジャネイロ
パラリンピック開会式

1334000000000円

(AFP/AFPBB Newsをもとに自社で作成)

千億より大きい数のしくみを調べよう。

千億の10倍を一兆といひ、100000000000と
書きます。

1000億	1	0	0	0	0	0	0	0	0	0	0	0	0
1兆	1	0	0	0	0	0	0	0	0	0	0	0	0

一兆の位	1	3	3	4	0	0	0	0	0	0	0	0	0
千億の位	●	●	●	●	●	●	●	●	●	●	●	●	●
十億の位	●	●	●	●	●	●	●	●	●	●	●	●	●
一億の位	●	●	●	●	●	●	●	●	●	●	●	●	●
千万の位	●	●	●	●	●	●	●	●	●	●	●	●	●
百万の位	●	●	●	●	●	●	●	●	●	●	●	●	●
十万の位	●	●	●	●	●	●	●	●	●	●	●	●	●
千万の位	●	●	●	●	●	●	●	●	●	●	●	●	●
百の位	●	●	●	●	●	●	●	●	●	●	●	●	●
十の位	●	●	●	●	●	●	●	●	●	●	●	●	●
一の位	●	●	●	●	●	●	●	●	●	●	●	●	●

開さい予算は、
「一兆三千三百四十億」
円です。

4

1. 大きい数のしくみ

めあて 1億より大きい数のしくみを知り、表せるようにしよう。

ステップ1 下の数について答えましょう。

一兆の位	十兆の位	百兆の位	千兆の位	一億の位	十億の位	百億の位	千億の位	一千万の位	十千万の位	百千万の位	千万の位	一十の位	十の位	一の位
1	4	2	3	8	6	0	0	0	0	0	0	0	0	0

- ① 一億の位の数字は何ですか。 (8)
- ② 2は、何が2こあることを表していますか。 (百億)

大きい数は、右から4けたごとに区切ると読みやすいね。


③ この数の読み方を漢字で書きましょう。 (一兆四千二百三十八億六千万)



ステップ2 数字で書きましょう。

- ④ 六十億八千二百万 (60'8200'0000)
- ⑤ 三兆五千七十四億 (3'5074'0000'0000)
- ⑥ 九百兆六千億八百万 (900'6000'0800'0000)
- ⑦ 1億を2こ、1000万を4こあわせた数 (2'4000'0000)
- ⑧ 1000億を7こ、10億を3こ、100万を5こあわせた数 (7030'0500'0000)
- ⑨ 1兆を8こ、1億を6こ、1万を2こあわせた数 (8'0006'0002'0000)
- ⑩ 100兆を4こ、10兆を9こ、1000億を7こあわせた数 (490'7000'0000'0000)

一兆の10倍、また、その10倍は、何といえよばいでしょうか。



千兆の位	百兆の位	十兆の位	一兆の位	十億の位	百億の位	千億の位	一千万の位	十千万の位	百千万の位	千万の位	一十の位	十の位	一の位
1	0	0	0	0	0	0	0	0	0	0	0	0	0

② 整数は、位が1つ左へ進むごとに、何倍になっていますか。10倍

1つの位に10集まると、1つ上の位に上がるから...

まとめ

整数は、位が1つ左へ進むごとに、10倍になるしくみになっている。

大きい数は、右から4けたごとに区切ると読みやすいよ。

3 次の①、②の数を読みましょう。

- ① 101457093570000(円) ... 日本の国の予算(平成31年度)
- ② 946000000000(km) ... 光が1年間に進むきょり

数字で書きましょう。

- ① 二十五億五千九百二十九万五千五百(まい) ... 年賀はがきの発行まい数(平成31年用)
- ② 十兆九千六百四十六億(円) ... コンビニエンスストアの売上高(平成30年)


157ページの位のカードを使ってもいいね。

5/18 はな

教科書はページ図鑑で
調べて名前を書こう。

オオイヌノフグリ

なるべく大きく
書こう!



校庭で見つけた。よく見ると、花の
まん中から何かはえていた。これは何
だろう。

花の大きさは5mm。

花びらは4まいあった。

「大きさ」「色」「数」「形」
を記録しよう!