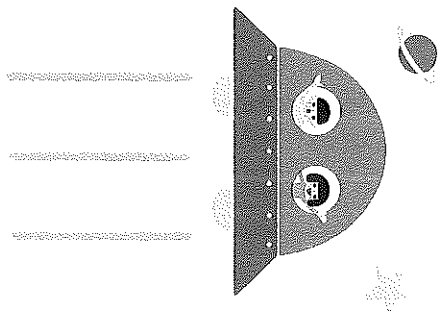


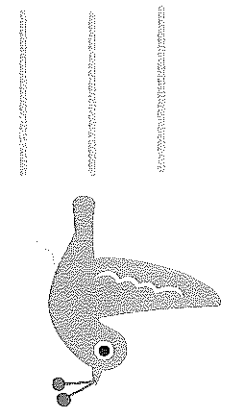




えんぴつのもちかた

がっ にち	なまえ
----------	-----

(おともかじちせうじ)

しせいや えんぴつのもちかたにきをつけて、なぞろう。




そのうかがしがた


(おとこがしよへ)

がう にち なまえ	
-----------------	--

① たてのせんをなぞり、□にたてのせんをかこう。



② よりのせんをなぞり、□によりのせんをかこう。



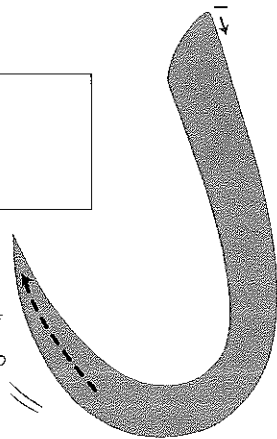
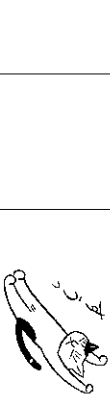
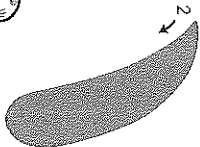
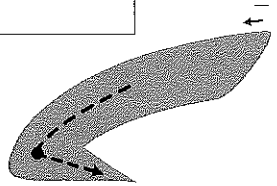
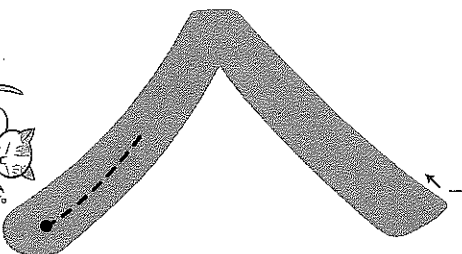
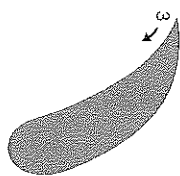
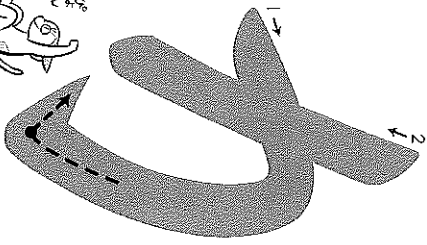
① せんのおわりは、どうかくのかな。

□ に「とめ」か「はら」か「はね」をかこう。

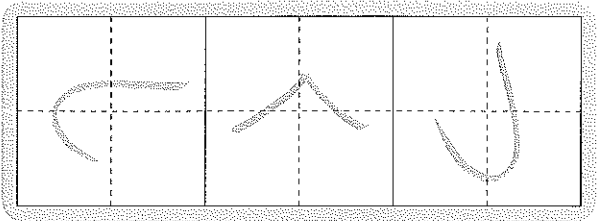
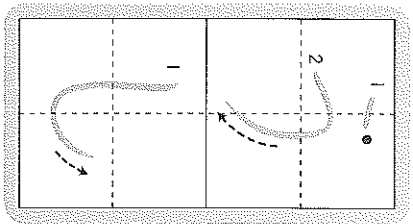
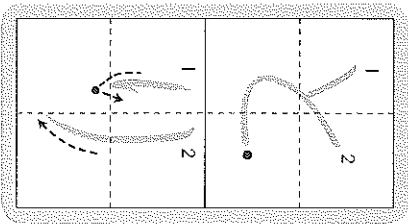
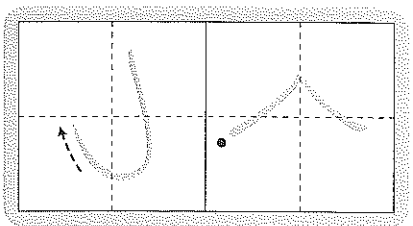
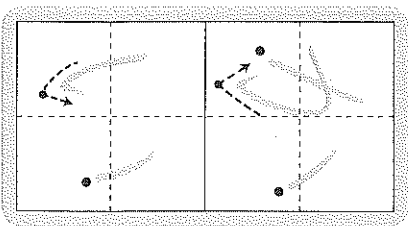
なまえ	がつ にち
-----	----------

(キョウカシヨロ・ロク)

「とめ」「はら」「はね」



② せんのおわりのかきかたにきをつけてなぞろう。



③ てきたら、をなぞろう。

• 「とめ」と「はら」と「はね」のかきかたがわかった。

• ひたつととめた。

• すつとはらった。

• ぴよんとはねた。

かくじゆんばんにも
きをつけてかこう。




「まがり」と「おれ」

が つ	な ま え
-----	-------

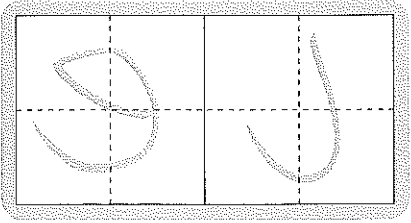
(おとこかしと12・13ページ)

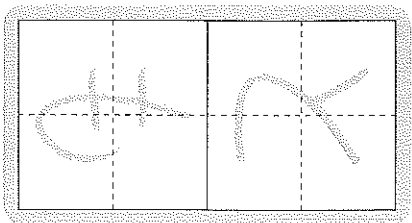
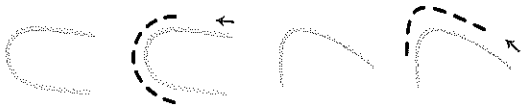
① さんのとちゆうは、どうかくのかな。

□ に「まがり」か「おれ」のどちらかをかこう。

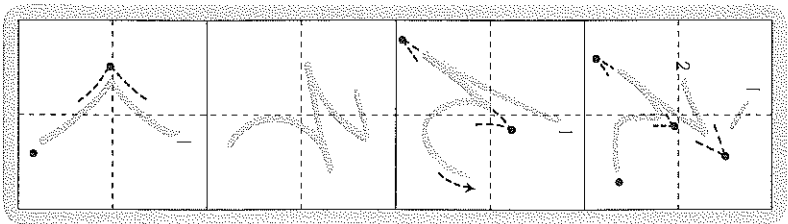


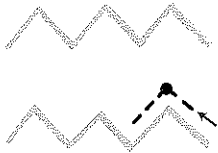


② 「まがり」のかたちにきをつけてなそう。

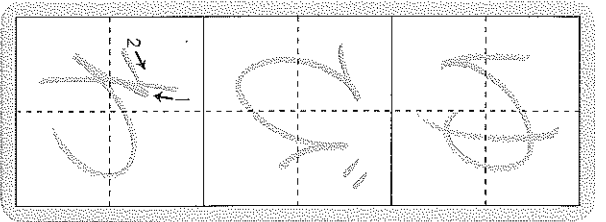
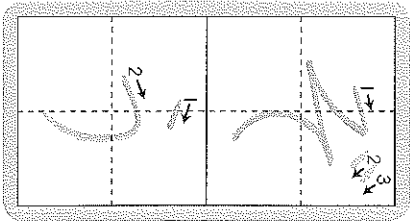
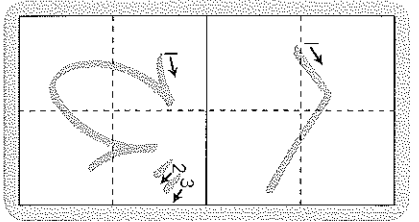




③「おれ」にきをつけてなぞろう。



④「まがり」と「おれ」にきをつけてなぞろう。



⑤「まがり」と「おれ」の「ま」をなぞろう。

• 「まがり」と「おれ」の「ま」がきかたがわかった。

• まがるところをまろくかいた。

• おれるところをうっかいとまいった。

「おすび」


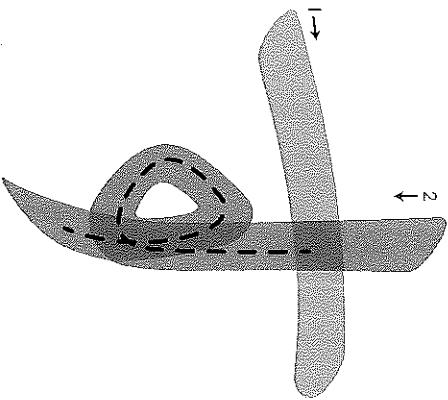
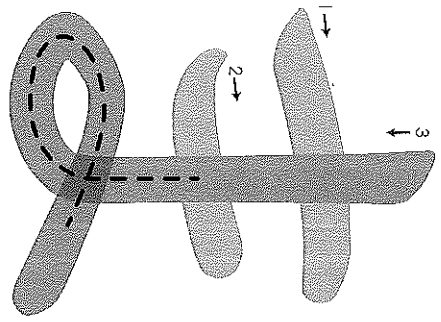
がつ になまえ

--	--

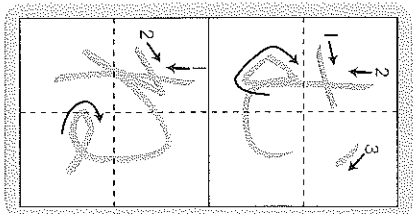
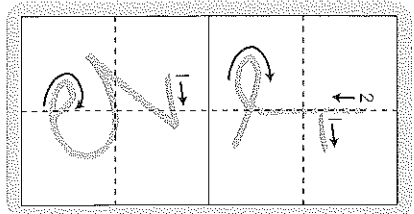
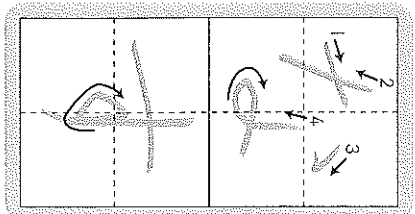
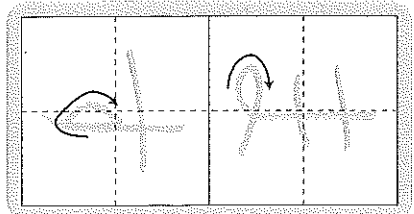
(おすびは14ページ)

①「おすび」には、どんなかたちがあるかな。

□に「たて」か「よこ」のどちらかをかこう。



②「おすび」のかたちにきをつけてなぞろう。



③ 「おすび」のかたちにきをつけて、ぶんをかこう。

す	び		
↓	↓		
↓	↓		
↓	↓		
↓	↓		

す	び		
↓	↓		
↓	↓		
↓	↓		
↓	↓		

まがめに
かくとき

ちいさいや
まん(○)は
2にかくよ。

④ ●のなかには、よこながとたてながのどちらの「おすび」が
はいるかな。かたちにきをつけてかこう。

す	び		
↓	↓		
↓	↓		
↓	↓		
↓	↓		

⑤ できたら、をなぞろう。

- よこながとたてながの「おすび」があることがわかった。
- 「おすび」のかたちにきをつけてかいた。

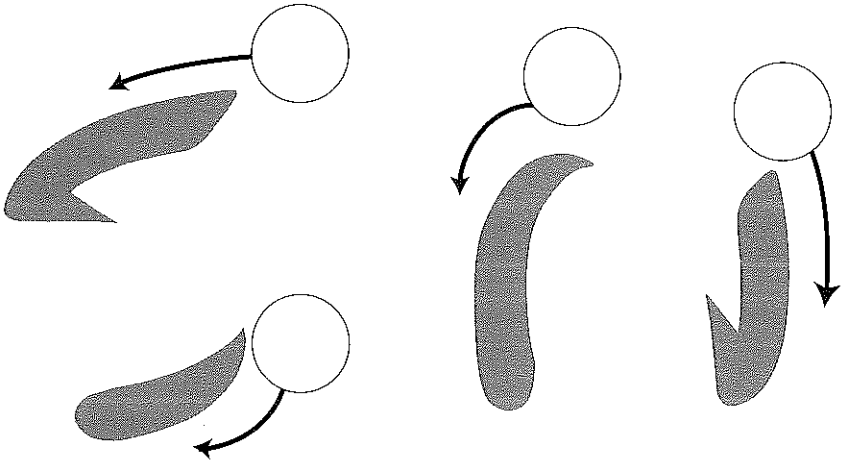
1	2
3	4

かきじゆん

がっ	にち	なまえ


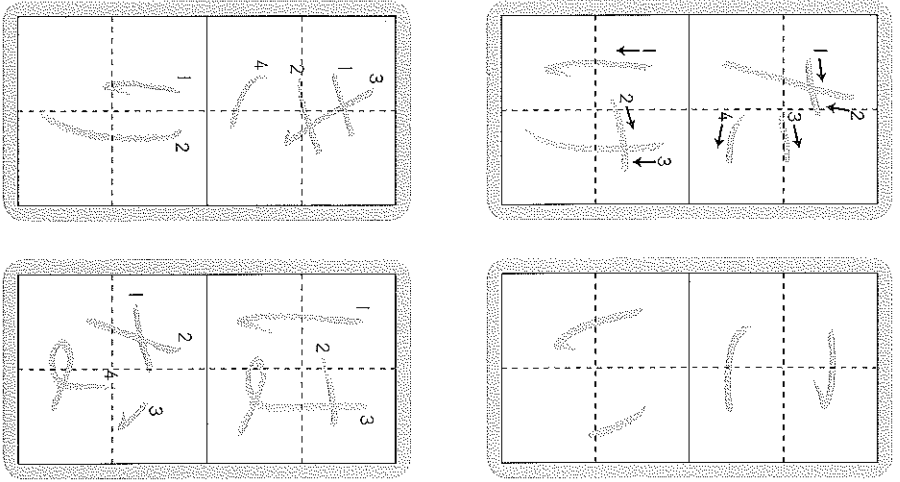
(きょうかしよ15ページ)

①のじゆんばんでかくのかな。○にばんごうをかく。



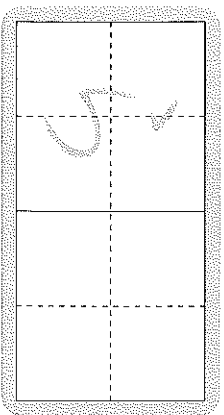
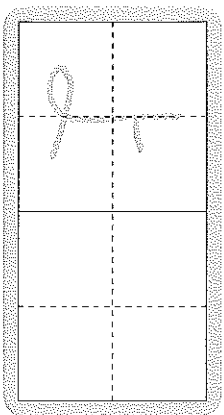
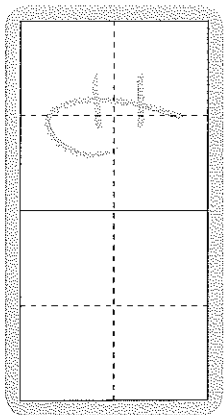
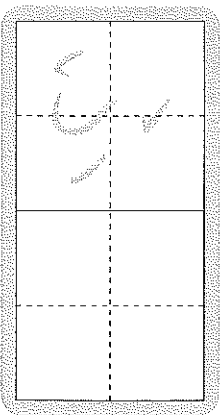
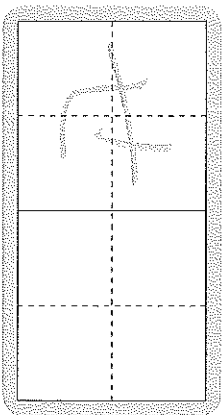
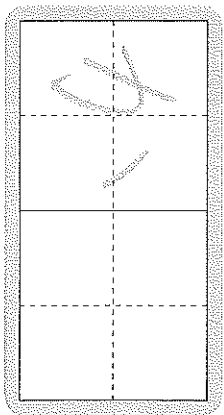
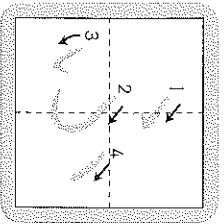
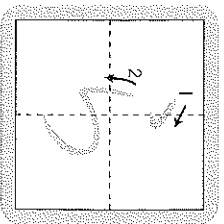
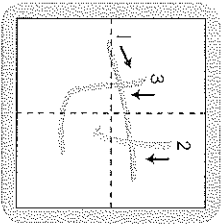
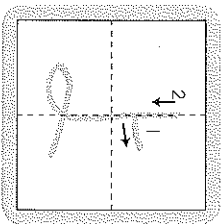
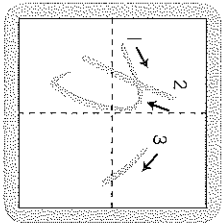
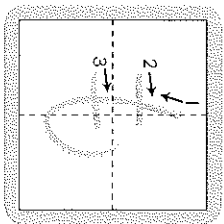
ばんごうを かいだら
じゆんばんとおりに
ゆびで なぞって
みよう。

②かきじゆんに きをつけて なぞろう。




③ かきじゆんに きをつけて、かこう。

まはかえすかい かきじゆん



④ できたら、 を なぞろう。

- ひらがなには かきじゆんがある ことがわかった。
- ひらがなの かきじゆんに きをつけて かいだ。