

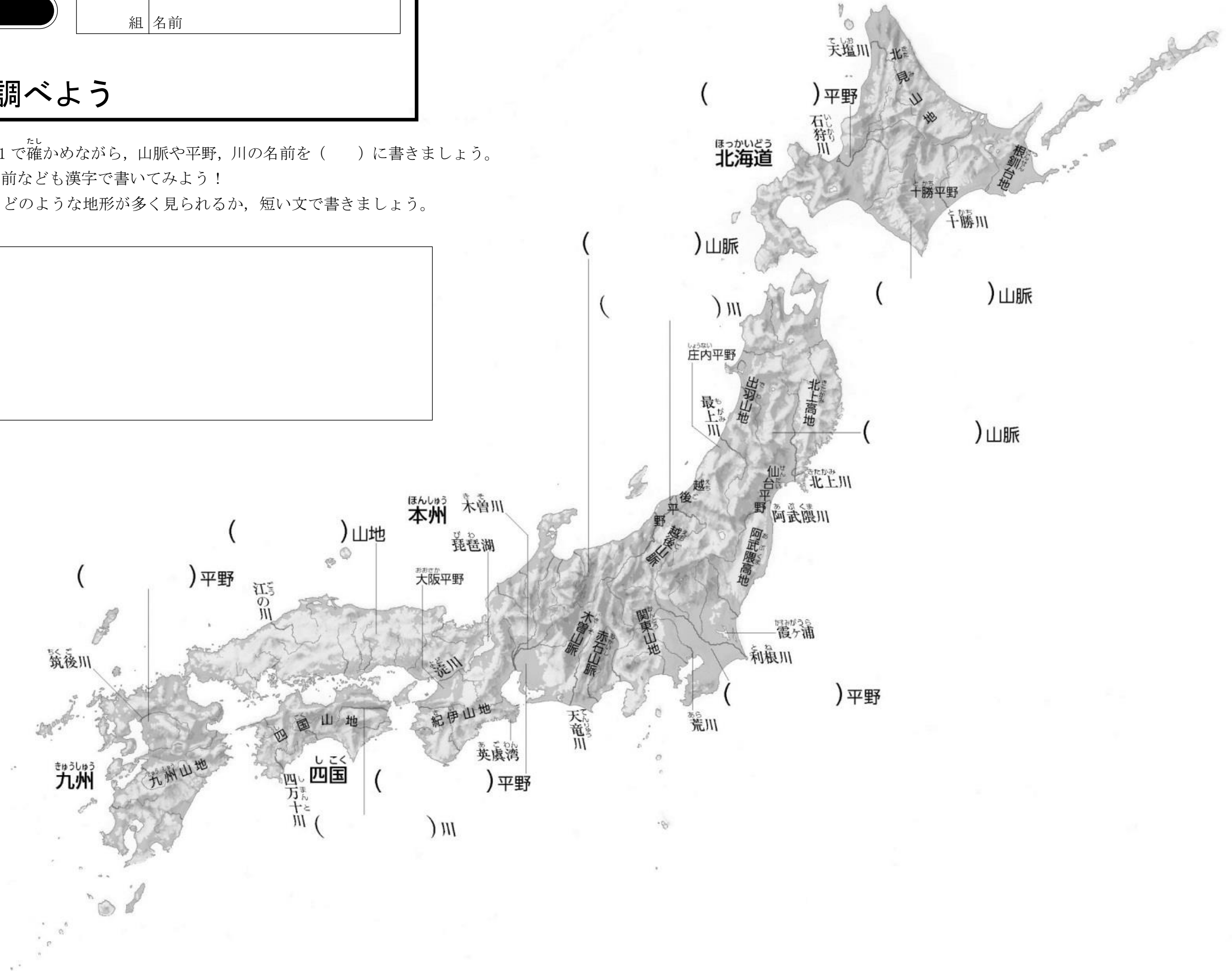
1 日本の国土

組 名前

2 気候と地形

日本の地形を調べよう

- 1 地図帳や教科書 P20, 21 で確かめながら、山脈や平野、川の名前を () に書きましょう。
※山脈や平野、川の名前なども漢字で書いてみよう！
- 2 国土のどのあたりに、どのような地形が多く見られるか、短い文で書きましょう。



1 日本の国土

組 名前

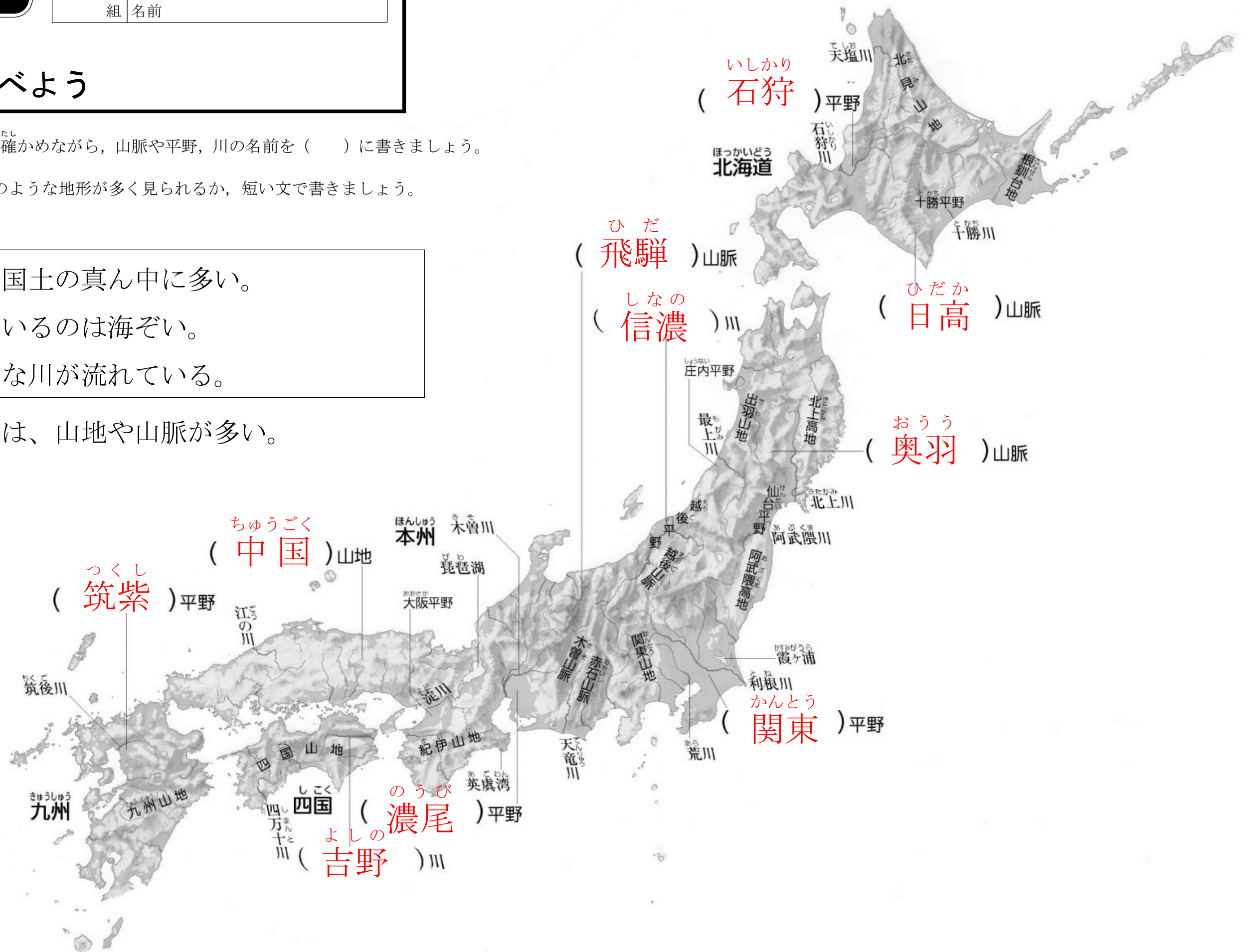
2 気候と地形

日本の地形を調べよう

- 1 地図帳や教科書 P20, 21 で確かめながら、山脈や平野、川の名前を () に書きましょう。
- 2 国土のどのあたりに、どのような地形が多く見られるか、短い文で書きましょう。

- 山脈や山地は、国土の真ん中に多い。
- 平野が広がっているのは海ぞい。
- 平野には、大きな川が流れている。

→日本全体としては、山地や山脈が多い。



1 日本の国土

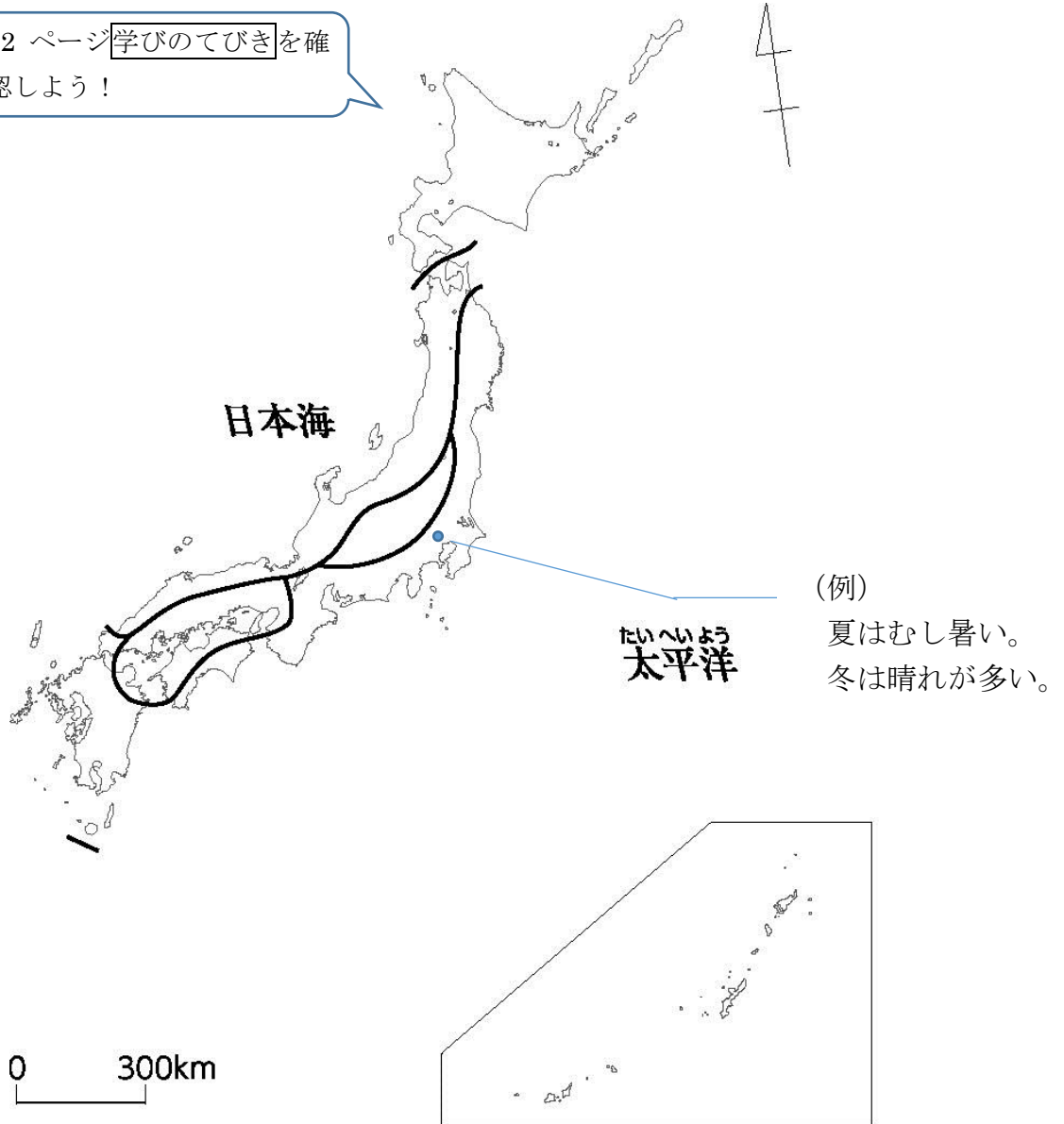
組 名前

2 日本の地形と気候

日本の気候を調べよう

- 1 教科書 22 ページの日本地図を参考にして、^{ちいき}地域ごとに色をぬり分け、その気候の特色を書きましょう。

22 ページ **学びのてびき** を確認しよう！



- 2 教科書 22 ページにある千代田区と白川村の^{こうすいりょう}気温と^{くら}降水量のグラフを比べて、() をうめましょう。

東京は、夏の降水量が () が、白川村は、冬に () が多くふる。